

**Проверочная работа
по МАТЕМАТИКЕ**

4 КЛАСС

Вариант 36

Инструкция по выполнению работы

На выполнение работы по математике даётся 45 минут. Работа содержит 11 заданий.

В заданиях, после которых есть поле со словом «Ответ», запиши ответ в указанном месте.

В заданиях 5 (пункт 2) и 10 нужно сделать чертёж или рисунок.

В заданиях, после которых есть поле со словами «Решение» и «Ответ», запиши решение и ответ в указанном месте.

Если ты хочешь изменить ответ, то зачеркни его и запиши рядом новый.

При выполнении работы нельзя пользоваться учебниками, рабочими тетрадями, справочниками, калькулятором.

При необходимости можно пользоваться черновиком. Записи в черновике проверяться и оцениваться не будут.

Советуем выполнять задания в том порядке, в котором они даны. Для экономии времени пропускай задание, которое не удаётся выполнить сразу, и переходи к следующему. Постарайся выполнить как можно больше заданий.

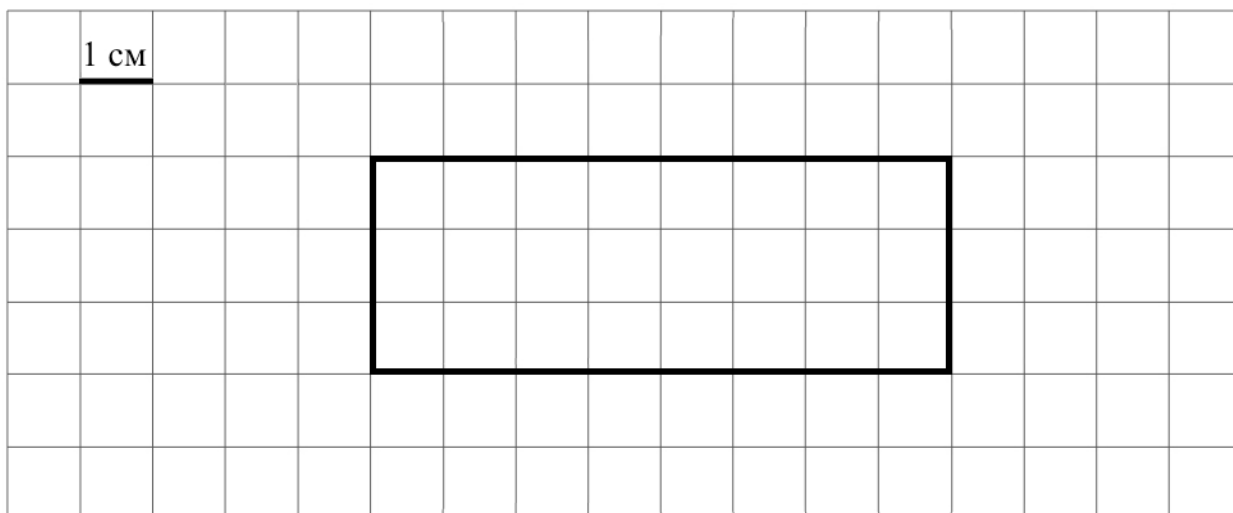
Желаем успеха!

- 4) Артём с сестрой пошли в цирк. Сколько длилось представление, если оно началось в 16 ч 30 мин., а закончилось в 18 ч 10 мин.?

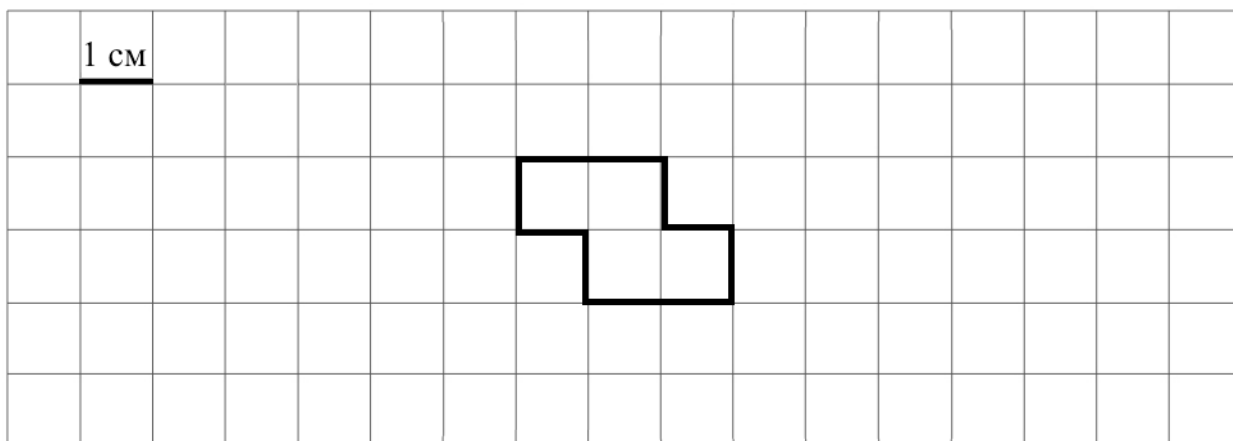
Ответ:

- 5) 1) На клетчатом поле со стороной клетки 1 см изображён прямоугольник. Найди периметр этого прямоугольника.

Ответ:



- 2) На клетчатом поле со стороной клетки 1 см изображена фигура. Изобрази на рисунке прямоугольник площадью 16 см^2 так, чтобы вся данная фигура была его частью.



- 8 Книжная полка длиной 1 м полностью занята книгами толщиной 5 см и 6 см. При этом книг толщиной 5 см восемь штук. Сколько книг толщиной 6 см стоит на полке?

Запиши решение и ответ.

Решение:	
Ответ:	

- 9 Пётр Константинович решил каждый день с понедельника по пятницу заниматься спортом. В понедельник он бегал, во вторник ходил в тренажёрный зал, в среду играл в футбол, в четверг снова бегал, в пятницу снова пошёл в тренажёрный зал, в понедельник играл в футбол. И так он занимался каждую неделю.

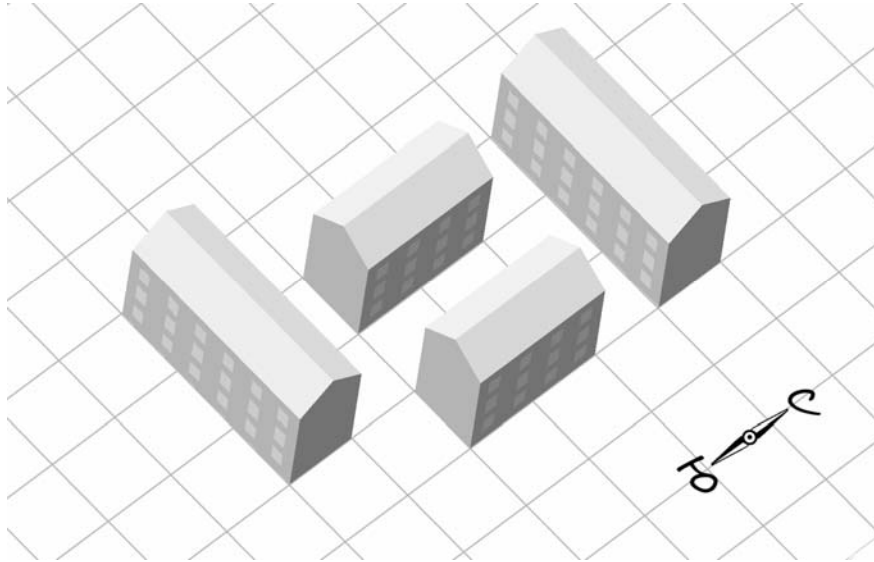
1) Каким видом спорта Пётр Константинович занимался в среду на второй неделе?

Ответ:	

2) Сколько раз за первые две недели своих занятий спортом Пётр Константинович бегал?

Ответ:	

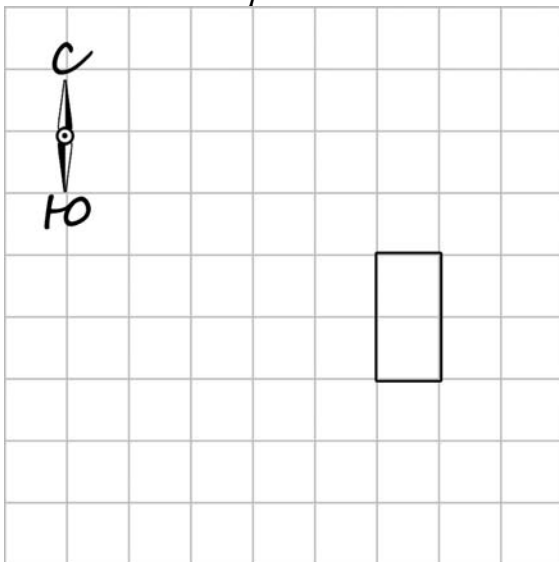
- 10 На макете нового микрорайона дома размещены на клетчатом поле, причём стены домов расположены по границам клеток (см. рисунок).



Изобрази, как выглядят эти дома на плане местности. Сохраняй расположение домов относительно сторон света. Каждый дом изображай прямоугольником, составленным из клеток. В качестве примера один из домов уже изображён.

Одно из полей можно использовать как черновик.

Черновик



Ответ

