

Фамилия, имя _____
школа _____, **класс** _____

ВАРИАНТ № 1

Прочитай текст.

Ёжик

Когда пригреет тёплое весеннее солнышко и растает снег, ёжик выходит из норы. Этого маленького колючего зверька мы встречаем в лесу, в поле, в парке, в саду. К нему можно подойти очень близко, ёжик не убежит. Потому что у ежа острый нюх, но плохое зрение. Ёжик очень осторожный. Услышит шорох – сразу свернётся клубочком. Иглы у него острые и твёрдые.



Тёмной ночью ёж выходит на охоту. На охоте он проворый и ловкий. Этот охотник питается мышами, червями, жуками, лягушками, улитками, змейками. А найдет ягодку, тоже съест с удовольствием.

Гнездо ёж устраивает под кустом или пнём. Выстилает его листьями. Весной в ежиной норе появляются малыши. Мама-ежиха кормит детей молоком. А почувствует опасность – сразу переносит их в другое место.

1. Укажи порядок пунктов плана текста.

- ☐ Ёж устраивает гнездо.
- ☐ Маленький колючий зверёк выходит из норы.
- ☐ Охотится ёж по ночам.

2. Укажи, какие иглы у ёжика.

- ☐ Иглы мягкие и пушистые.
- ☐ Иглы длинные и жёсткие.
- ☐ Иглы острые и твёрдые.

3. Когда еж выходит на охоту? Выпиши из текста это предложение.

4. Укажи правильную информацию из текста.

- ☐ Охотится ёж только днём.
- ☐ У ежа плохое зрение.
- ☐ Ежата рождаются осенью.

5. Вставь пропущенные буквы в слова.

Велосипе..., голу...ь, тра...ка, з...рно, здоров...е.

Из данных слов выпиши название животного.

Ответ: _____.

6. Запиши слово, противоположное по смыслу слову *маленький*.

Ответ: _____.

7. Запиши слова по образцу:

конверт из бумаги	<i>бумажный конверт</i>
вода из реки	
гнездо птицы	

8. Установи закономерность чисел в таблице и вставь пропущенное число:

6	10	14
12		22
19	25	31

9. Ластик стоит 5 рублей. Сколько ластиков по этой цене можно купить на 30 рублей?


Укажи, какое выражение является решением задачи?

$30 + 5$		$30 \cdot 5$		$30 : 5$		$30 - 5$	
----------	--	--------------	--	----------	--	----------	--

Вычисли и запиши ответ задачи.

Ответ: _____.


10. Дорожки ежей к гнезду составили прямоугольник со сторонами 25 м и 18 м. Какой путь пройдёт каждый ёж до гнезда? Сравни, вставь в ответ нужное слово: *больше, меньше*.



Ответ: длина пути первого ежа _____ длины пути второго ежа на _____ м.

11. Второклассники для выставки принесли рисунки предметов, относящихся к живой природе.

Максим принёс такие рисунки:



Яна принесла такие рисунки:



Пётр принёс такие рисунки:



Кто из ребят выполнил задание правильно?

Ответ: _____.

12. Установи соответствие между словом и его значением, соедини стрелкой.

Сборка
Линейка
Шов

место соединения сшитых кусков ткани
соединение деталей в единое изделие
контрольно-измерительный инструмент

Фамилия, имя _____
школа _____, **класс** _____

ВАРИАНТ № 2

Прочитай текст.

Радуга

«Цветное коромысло над рекой повисло» – все знают отгадку к этой загадке. Это радуга. Весной на Кубани мы часто видим радугу.

Пошёл дождь! Ещё пять минут назад была чудесная погода. Солнце играет с нами в прятки – то спрячется за тучку, то выглянет. А когда солнышко выглянуло из-за тучи, на небе появилась радуга.



Откуда берётся на небе красивая радуга? Радуга появляется сразу после дождя. Солнечный свет проходит сквозь крошечные водяные капельки. Их много содержится во влажном воздухе после дождя. И на небе в виде дуги появляется радуга. В радуге выделяют семь основных цветов. Улыбаются, глядя на радугу, взрослые и дети. Радуга украсила небо яркими цветами. Запомни названия цветов радуги: красный, оранжевый, жёлтый, зелёный, голубой, синий, фиолетовый.

1. Укажи порядок пунктов плана текста.

- ☐ Запомни названия цветов радуги.
- ☐ Цветное коромысло над рекой повисло.
- ☐ Откуда берётся радуга?

2. Укажи, когда появляется радуга?

- ☐ Радуга появляется сразу после дождя
- ☐ Радуга появляется в виде дуги
- ☐ Радуга появляется ночью

3. Чем радуга украсила небо? Выпиши из текста это предложение.

4. Укажи правильную информацию из текста.

- ☐ Солнечный свет не проходит сквозь водяные капли
- ☐ На Кубани не бывает радуги
- ☐ В радуге семь основных цветов

5. Вставь пропущенные буквы в слова: холо..., л...сичка, ст...кло, арбу..., олад...и.

Из данных слов выпиши название растения.

Ответ: _____.

6. Запиши слово, противоположное по смыслу слову *высокий*.

Ответ: _____.

7. Запиши слова по образцу:

конверт из бумаги	<i>бумажный конверт</i>
каша из молока	
берлога медведя	

8. Установи закономерность чисел в таблице и вставь пропущенное число:

8	12	16
14		24
21	27	33

9. Сколько открыток по цене 4 рубля можно купить на 36 рублей?


Укажи, какое выражение является решением задачи?

$36 + 4$		$36 : 4$		$36 - 4$		$36 \cdot 4$	
----------	--	----------	--	----------	--	--------------	--

Вычисли и запиши ответ задачи.

Ответ: _____.

10. Тропинки ежей к дубу составили прямоугольник со сторонами 25 м и 16 м. Какой путь пройдёт каждый ёж до дуба? Сравни, вставь в ответ нужное слово: *больше, меньше*.



Ответ: длина пути второго ежа _____ длины
пути первого ежа на _____ м.

11. Второклассники для выставки принесли рисунки пассажирского транспорта.

Ярослав принёс такие рисунки:



Марина принесла такие рисунки:



Артём принёс такие рисунки:



Кто из ребят выполнил задание правильно?

Ответ: _____.

12. Установи соответствие между словом и его значением, соедини стрелкой.

Инструмент
Деталь
Конструктор

элемент изделия
набор деталей для конструирования
ручное орудие труда

Фамилия, имя _____**школа** _____, **класс** _____

ВАРИАНТ № 3

Прочитай текст.

Ящерица

Среди зелёной травы в ясный солнечный день можно увидеть ящерицу. Свое название это животное получило от слова «ящер». Много видов ящериц обитает в Краснодарском крае. Эти проворные животные встречаются по берегам рек, в горах, на скалах, на лугах и полянах. Любят они греться на жарком солнышке.



Тело ящерицы вытянутое, с длинным хвостом, покрыто чешуйками. Длина тела ящерицы до 25 сантиметров. Окраска тела ящерицы зелёного, коричневого или серого цвета. От змей ящериц отличает наличие маленьких когтистых лапок. Главная пища ящериц – насекомые. Ящерицы ловят добычу длинным языком. Во время охоты ящерицы могут забираться на кусты и ветки деревьев.

Удивительное защитное войство есть у этих животных. В случае опасности ящерица отбрасывает хвост. На его месте вырастет новый.

1. Укажи порядок пунктов плана текста.

- ☐ Удивительное защитное свойство ящериц.
- ☐ Какая она, ящерица?
- ☐ В солнечный день можно увидеть ящерицу.

2. Укажи, какая окраска тела ящерицы?

- ☐ Зелёного, коричневого или чёрного цвета
- ☐ Зелёного, коричневого или серого цвета
- ☐ Жёлтого, коричневого или серого цвета

3. Чем ловят добычу ящерицы? Выпиши из текста это предложение.

4. Укажи правильную информацию из текста.

- ☐ Ящерицу нельзя увидеть днём
- ☐ В Краснодарском крае не водятся ящерицы
- ☐ Тело ящерицы покрыто чешуйками

5. Вставь пропущенные буквы в слова: т...шина, в...сна, зага...ка, кру...ка, солов...и.

Из данных слов выпиши название времени года.

Ответ: _____.

6. Запиши слово, противоположное по смыслу слову *длинный*.

Ответ: _____.

7. Запиши слова по образцу:

конверт из бумаги	<i>бумажный конверт</i>
свет солнца	
лапы лисы	

8. Установи закономерность чисел в таблице и вставь пропущенное число:

4	8	12
10		20
17	23	29

9. Цена ручки – 7 рублей. Сколько ручек по этой цене можно купить на 28 рублей?


Укажи, какое выражение является решением задачи?

28 · 7		28 + 7		28 - 7		28 : 7	
---------------	--	---------------	--	---------------	--	---------------	--

Вычисли и запиши ответ задачи.

Ответ: _____.


10. Пути ежей к дереву составили прямоугольник со сторонами 24 м и 16 м. Какой путь пройдёт каждый ёж к дереву? Сравни, вставь в ответ нужное слово: *больше, меньше*.



Ответ: длина пути первого ежа _____ длины пути второго ежа на _____ м.

11. Второклассники для оформления выставки принесли на урок рисунки домашних животных.

Ксения принесла такие рисунки:



Елисей принёс такие рисунки:



Антон принёс такие рисунки:



Кто из ребят выполнил задание правильно?

Ответ: _____.

12. Установи соответствие между словом и его значением, соедини стрелкой.

Клей
Природные материалы
Шило

колющий инструмент для прокалывания отверстий
липкое вещество для соединения, склеивания чего-нибудь
цветы, семена, листья и ветви деревьев

Фамилия, имя _____**школа** _____, **класс** _____

ВАРИАНТ № 4

Прочитай текст.

Ворона

Ворона – это крупная птица с широким и тупым клювом. Она живёт рядом с человеком. Питается животной и растительной пищей. Окраска перьев вороны серая или чёрная. Голос вороны хриплый, грубый. Вороны выют гнёзда высоко на деревьях. Они строят



гнездо из толстых веток, внутри выстилают мхом, шерстью. А попадётся им человеческий мусор – вата, тряпки, нитки – используют и его.

Однажды ворона нашла сухарь. Хотела отклевать кусочек. Лапами скребёт его, клювом стучит по нему, но ничего у вороны не получается. Очень твёрдый сухарь. Как сделать сухарь мягким?

Не долго думала ворона. Схватила сухарь, подлетела к луже. Бросила сухарь в воду. Подождала. Теперь можно и позавтракать! Ворона – птица сообразительная!

1. Укажи порядок пунктов плана текста.

- | | |
|--------------------------|---------------------------------|
| <input type="checkbox"/> | Ворона нашла сухарь. |
| <input type="checkbox"/> | Не долго думала ворона. |
| <input type="checkbox"/> | Ворона живет рядом с человеком. |

2. Укажи, какая окраска перьев вороны?

- | | |
|--------------------------|----------------------|
| <input type="checkbox"/> | Чёрная или белая |
| <input type="checkbox"/> | Серая или коричневая |
| <input type="checkbox"/> | Чёрная или серая |

3. Где вороны выют гнёзда? Выпиши из текста это предложение.

4. Укажи правильную информацию из текста.

- | | |
|--------------------------|---|
| <input type="checkbox"/> | Вороны не строят гнёзд |
| <input type="checkbox"/> | Ворона питается животной и растительной пищей |
| <input type="checkbox"/> | Ворона – небольшая птица |

5. Вставь пропущенные буквы в слова: гря...ка, гла...ки, расска..., в...дитель, весел...е.

Из данных слов выпиши название профессии.

Ответ: _____.

6. Запиши слово, противоположное по смыслу слову *широкий*.

Ответ: _____.

7. Запиши слова по образцу:

конверт из бумаги	<i>бумажный конверт</i>
джем из клубники	
перья вороны	

8. Установи закономерность чисел в таблице и вставь пропущенное число:

5	9	13
11		21
18	24	30

9. Карандаш стоит 6 р. Сколько карандашей по этой цене можно купить на 24 рубля?


Укажи, какое выражение является решением задачи?

$24 : 6$		$24 \cdot 6$		$24 - 6$		$24 + 6$	
----------	--	--------------	--	----------	--	----------	--

Вычисли и запиши ответ задачи.

Ответ: _____.

11. Тропинки ежей к гнезду под деревом составили прямоугольник со сторонами 27 м и 19 м. Какой путь пройдёт каждый ёж до гнезда? Сравни, вставь в ответ нужное слово: *больше, меньше*.



Ответ: длина пути первого ежа _____ длины
пути второго ежа на _____ м.

12 Второклассники для выставки принесли рисунки явлений природы.

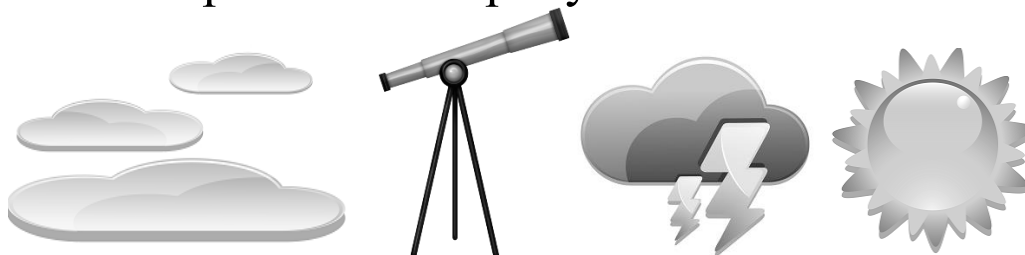
Матвей принёс такие рисунки:



Арина принесла такие рисунки:



Антон принёс такие рисунки:



Кто из ребят выполнил задание правильно?

Ответ: _____.

12. Установи соответствие между словом и его значением, соедини стрелкой.

Циркуль
Орнамент
Пластилин

повторяющийся узор
пластичный материал для лепки
чертёжный инструмент для построения окружностей