

1. _____

1. 11 12 13 14

--	--	--	--

2. 15-8 Запиши ответ:

--	--	--	--	--	--	--	--	--	--	--	--	--	--	--	--	--	--

3. 13+4 Запиши ответ:

--	--	--	--	--	--	--	--	--	--	--	--	--	--	--	--	--	--

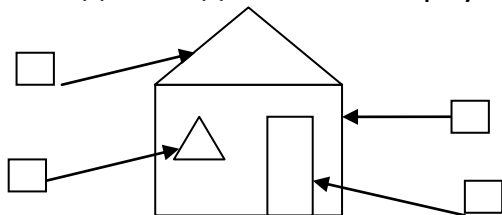
4.



5. 2 9 4 7

--	--	--	--

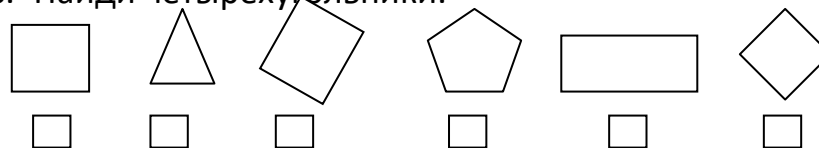
6. Какие детали дома имеют треугольную форму.



7. У Димы 10 рублей. Он купил тетрадь за 5 рублей.

Сколько денег он получит сдачи? Решение:

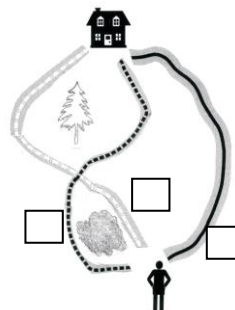
8. Найди четырёхугольники.



9. Альбом стоит 9 рублей, а блокнот на 5 рублей дешевле. Сколько стоит блокнот?

4	5	9	14

10. По какой дороге надо пройти в магазин, чтобы ель была справа, а лужа - слева?



2

1. 14 12 19 17

2. 14-6 Запиши ответ:

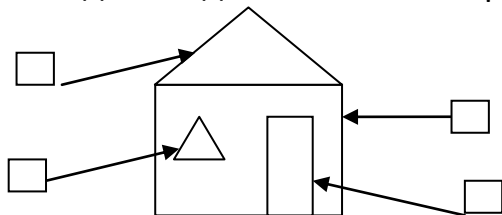
3. 9+4 Запиши ответ:

4.



5. 4 6 10 2

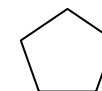
6. Какие детали дома имеют четырёхугольную форму.



7. У Димы 20 рублей. Он купил ручку за 17 рублей.

Сколько денег он получит сдачи? Решение:

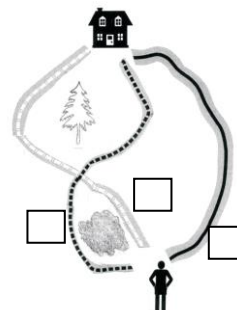
8. Найди треугольники.



9. Книжка стоит 14 рублей, а раскраска на 8 рублей дешевле. Сколько стоит раскраска?

14 6 8 3

10. По какой дороге надо пройти в магазин, чтобы ель была слева, а лужа - справа?

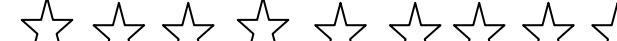


3

--	--	--	--

[illegible][illegible]

4.



--	--	--	--

A diagram of a house with four empty boxes and arrows pointing to its parts: the roof, a window, the door, and the side wall.

Сколько денег она получит сдачи? *Решение:*

[illegible]

6	17	8	9
<input type="text"/>	<input type="text"/>	<input type="text"/>	<input type="text"/>

Сколько может быть конфет у Даши?

[illegible]

4

Отметь число, предшествующее числу 18.

1. 14 12 19 17

☐ ☐ ☐ ☐

2. 14-6 Запиши ответ:

3. 9+7 Запиши ответ:

4.

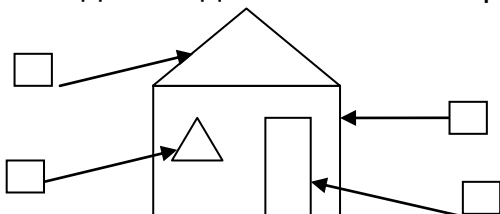


У Саши- 6 марок, а у Миши- 4 марки. Сколько всего марок у детей?

5. 4 6 10 2

☐ ☐ ☐ ☐

6. Какие детали дома имеют четырёхугольную форму.



7. У Маши 16 рублей. Она купила линейку за 8 рублей.

Сколько денег она получит сдачи? Решение:

8. Найди пятиугольники.



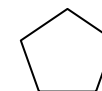
☐




☐



☐



☐



☐



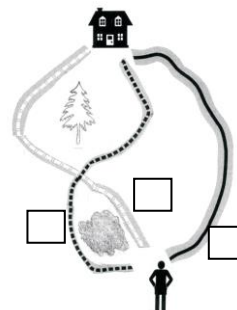
☐

9. Книжка стоит 14 рублей, а раскраска на 6 рублей дешевле. Сколько стоит раскраска?

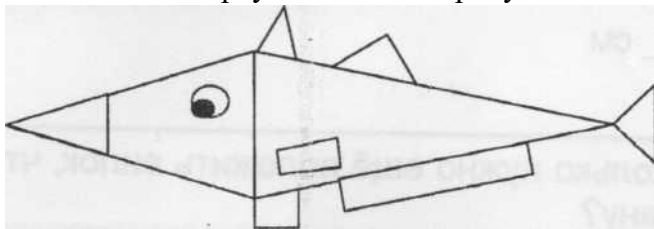
14 9 8 3

☐ ☐ ☐ ☐

10. По какой дороге надо пройти в магазин, чтобы ель была справа, а лужа - слева?




5. 1. Сколько треугольников на рисунке?




ОТВЕТ:

2. Гале нужно раскрасить 13 цветков. Она раскрасила 5 цветков. Сколько осталось раскрасить?




Ответ: ЦВЕТКОВ

3. У Коли было 7 солдатиков. Папа купил ему ещё 5 солдатиков. Сколько солдатиков стало у Коли?



☐ 5 ☐ 7 ☐ 11 ☐ 12

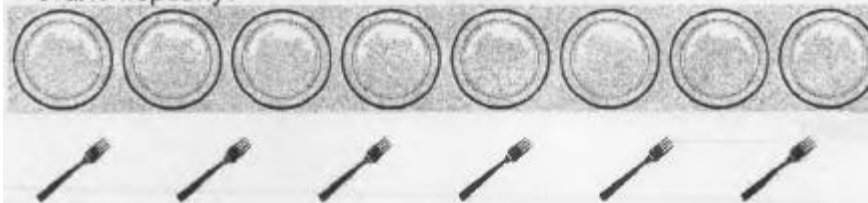
4. Впиши пропущенные числа.



5. Длина зелёного карандаша 7 см. Жёлтый карандаш на 2 см длиннее. Чему равна длина жёлтого карандаша?

Ответ: см

6. Сравни. Сколько нужно ещё положить вилок, чтобы тарелок и вилок стало поровну?




Запиши решение.

Решение:


[illegible]

Ответ: нужно _____ вилки






7. Дорисуй фигуру, чтобы получился четырёхугольник.



8. Витя рисует квадраты по правилу. Угадай правило и нарисуй следующий квадрат.



9. У мальчиков есть самолёты и машинки. Сколько машинок у Бори?

	Самолёты	Машинки
Боря		
Рома		 

Ответ: _____ машинок

10. Выбери число, которое на 3 больше, чем 10. Отметь ☒.

☐ 3 ☐ 7 ☐ 12 ☐ 13

11. Для ответа на какие вопросы к рисунку нужно выполнить вычитание? Отметь ☒.



- ☐ Сколько всего овощей?
- ☐ На сколько больше помидоров, чем картофеля?
- ☐ На сколько меньше картофеля, чем помидоров?
- ☐ Сколько станет овощей, если положить огурец?

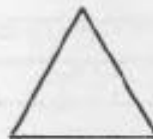
12. В комнате находятся Таня, три её подруги, Коля, Игорь, сестра Тани и кошка Милка. Сколько девочек в комнате? Запиши решение и ответ.

Решение:

[illegible]

Ответ: _____ девочек

13. Рассмотрите фигуры.



Верно ли, что

А) треугольник расположен справа от квадрата? Отметь ☒.

☐ да ☐ нет

Б) все фигуры – прямоугольники? Отметь ☒.

☐ да ☐ нет




В) у всех фигур по четыре стороны? Отметь ☒.

☐ да ☐ нет

14. Эти игрушки нужно разложить в три коробки так, чтобы в первой коробке было ровно две игрушки. Сколько игрушек нужно положить в каждую коробку?

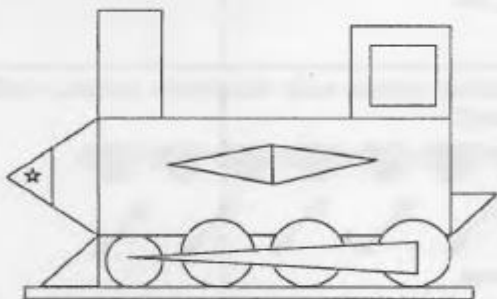
Одно решение уже записано. Запиши другие.



			
Решение 1	2	6	1
Решение 2			
Решение 3			
Решение 4			
Решение 5			
Решение 6			

6..

1. Сколько треугольников на рисунке?



Ответ: _____

2. Васе нужно раскрасить 12 рыбок. Он раскрасил 7 рыбок. Сколько рыбок осталось раскрасить?




Ответ: _____ рыбок

3. У Веры было 8 тетрадей. Сестра купила ей ещё 5. Сколько тетрадей стало у Веры?

Отметить ☒.☐ 8 ☐ 12 ☐ 13 ☐ 14

4. Впиши пропущенные числа.



5. Длина красного карандаша 8 см. Синий карандаш на 2 см короче. Чему равна длина синего карандаша?

Ответ: _____ см

6. Сравни. Сколько нужно ещё положить ложек, чтобы чашек и ложек стало поровну?



Запиши решение.

Решение:


[illegible]

Ответ: нужно _____ ложки

7. Дорисуй фигуру, чтобы получился четырёхугольник.



8. Дина рисует квадраты по правилу. Угадай правило и нарисуй следующий квадрат.



9. На урок труда дети принесли шишки и листья. Сколько шишек принёс Миша?

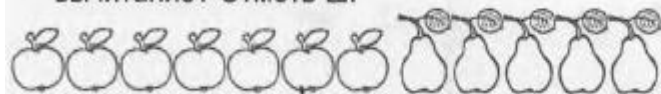
	Шишки	Листья
Миша		
Рита		

Ответ: ____ шишек

10. Выбери число, которое на 4 меньше, чем 10. Отметь ☒.

☐ 14 ☐ 7 ☐ 6 ☐ 5

11. Для ответа на какие вопросы к рисунку нужно выполнить вычитание? Отметь ☒.



- ☐ На сколько больше яблок, чем груш?
- ☐ Сколько всего фруктов?
- ☐ Сколько станет фруктов, если положить апельсин?
- ☐ На сколько меньше груш, чем яблок?

12. На прогулку собрались Петя, два его друга, Катя, Оля, брат Кати и пёс Пети — Рэм. Сколько мальчиков собрались на прогулку?

Запиши решение и ответ.

Решение:

Ответ: ____ мальчика

13. Рассмотри фигуры.



Верно ли, что

А) все фигуры – треугольники? Отметь ☒.

☐ да ☐ нет

Б) у всех фигур есть углы? Отметь ☒.




☐ да ☐ нет

В) прямоугольник расположен слева от треугольника? Отметь ☒.

☐ да ☐ нет

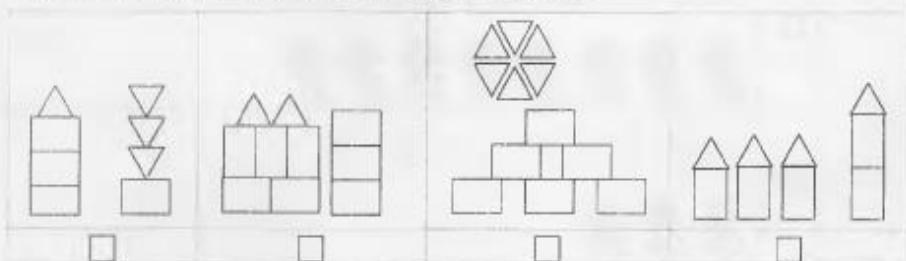
14. Эти машинки нужно разложить в три коробки так, чтобы в первой коробке была ровно одна машинка. Сколько машинок нужно положить в каждую коробку? Одно решение уже записано. Запиши другие.



			
Решение 1	1	7	1
Решение 2			
Решение 3			
Решение 4			
Решение 5			
Решение 6			
Решение 7			

7.

1. Для составления какой картинки использовано самое большое число четырёхугольников? Отметь ответ ☒.



2. Рассмотрим рисунок.



Запиши в таблице числа.

Нарисованы	Число
Собаки	—
Кошки	—
Всего животных	—

3. Выполни действия. Отметь ответ ☒.

10-1-2

9

9

8

9

7

☐

6

☐

4. Выполни действие. Запиши ответ.

$2 + 8 =$

$9 - 7 =$

5. Петя записал числа по порядку от 9 до 15 так:

9, 10, 11, 13, 14, 15.

Какое число он пропустил?

Ответ: _____

6. Карандаш стоит 7 рублей, конверт на 2 рубля дешевле. Сколько стоит конверт?

Выбери верную запись решения. Отметь ответ ☐









- ☐ $7 + 7 = 14$ (p.)
- ☐ $7 - 2 = 5$ (p.)
- ☐ $7 + 2 = 9$ (p.)
- ☐ $7 - 5 = 2$ (p.)

8. Во время циркового представления на сцену выбежали сначала 6 собачек, затем ещё две. Сколько собачек стало на сцене?

Запиши решение.

[illegible]

9. Отметь рисунок, на котором рыб на 3 меньше, чем кошек.
Отметь ☒.

<input type="checkbox"/>	 
<input type="checkbox"/>	 
<input type="checkbox"/>	 
<input type="checkbox"/>	 

10. Из чисел 9, 60, 66, 33, 16, 6 выпиши числа, в записи которых есть цифра 6.

Ответ:

[illegible]

11. Толя заработал в викторине 10 баллов и на все баллы выбрал 2 сувенира. Какие сувениры мог выбрать Толя?

Запиши два решения.

Диск



8 баллов

Часы



4 балла

Mr.



6 баллов

Машина



3 балла

Kot



2 балла

Решение 1:

Решение 2:

12. Представь число 10 в виде суммы двух чисел так, чтобы первое число было больше второго.

Запиши все решения.

Решение 1:

Решение 2:

Решение 3:

Решение 4:

13. В таблице указано, сколько игр купили для первого и сколько для второго класса. Рассмотрите таблицу и ответьте на вопросы.

Игры	Первый класс	Второй класс
Шашки	2	7
Шахматы	1	5
Лото	5	5
Кубики	2	1

а) Каких игр купили поровну?

Ответ: _____

б) На сколько больше игр «Шашки» купили для второго класса?

Ответ: на _____

в) Сколько всего игр купили для первого класса?

Ответ: _____

14. В театр пошли Лена, две её подруги, Вова и Ира с братом Сашей. Сколько девочек пошли в театр? Запиши ответ и решение.

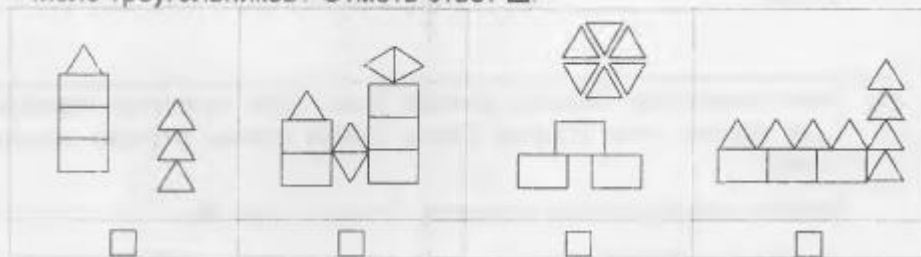
Ответ: _____

Решение:

[illegible]

8.

1. Для составления какой картинки использовано самое большое число треугольников? Отметь ответ ☒.



2. Рассмотрите рисунок.



Запиши в таблице числа.

Нарисованы	Число
Белые кролики	—
Черные кролики	—
Всего	—

3. Выполни действия. Отметь ответ ☒.

10-1-4

10

☐

9

☐

6

☐

5

☐

4. Выполни действие. Запиши ответ.

$9 - 7 =$

$2 + 6 =$

5. Таня записала числа по порядку от 17 до 11 так:

17, 16, 15, 14, 12, 11.

Какое число она пропустила?

Ответ: _____

6. Лена нарисовала отрезок длиной 6 см. Коля нарисовал отрезок на 2 см короче, чем отрезок Лены. Какой длины отрезок нарисовал Коля?


Выбери верную запись решения. Отметь ответ ☒

- ☐ $6 + 6 = 12$ (CM)
- ☐ $6 - 4 = 2$ (CM)
- ☐ $6 + 2 = 8$ (CM)
- ☐ $6 - 2 = 4$ (CM)


7. Найди фигуру, которая расположена между квадратом и треугольником. Отметь ответ ☒.



8. Оля взяла из вазы 6 яблок, Дима взял оставшиеся 3 яблока. Сколько яблок было в вазе? Запиши решение.



9. На каком рисунке дисков на 3 больше, чем конвертов? Отметь ответ ☒



10. Из чисел 7, 9, 98, 90, 88, 99 выпиши числа, в записи которых есть цифра 9.

Ответ:

[illegible]

11. У Мити есть 8 рублей. Он хочет купить как можно больше разных наклеек на эти деньги.

Сколько всего наклеек он может купить?

Какие это наклейки? Запиши их названия

Машина



4 рубля

Слон



3 рубля

Mg²⁺

6 рублей

Cova



1 рубль

Всего наклеек _____

их названия

12. Представь число 9 в виде суммы двух чисел так, чтобы первое число было меньше второго. Запиши четыре решения.

Решение 1: _____

Решение 2: _____

Решение 3: _____

Решение 4: _____

13. Ребята играли на компьютере. В каждой игре побеждает тот, кто заработает больше очков. В таблице указано, сколько очков заработал каждый игрок.

Дети	Игры	
	«Океан»	«Глобус»
Ира	4	5
Жора	7	2
Вера	4	1
Тимур	3	2

а) Кто выиграл в игре «Глобус»?

Ответ:

б) Сколько всего очков заработали все ребята в игре «Глобус»?

Ответ:

в) В какой игре мальчики заработали больше очков, чем девочки?

Ответ:

14. В поход к озеру отправились Гена, два его друга, Маша, Оля, а также брат Маши Витя и пёс Вити – Бим.

Сколько всего мальчиков отправились в поход?

Запиши ответ и решение.

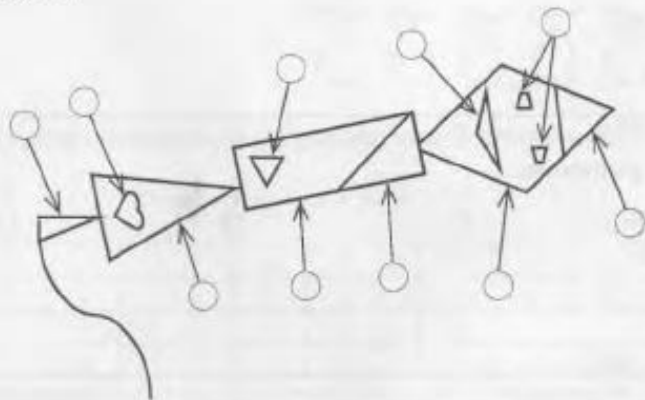
Ответ:

Решение:

[illegible]

9.

1. Какие детали воздушного змея имеют форму треугольника? Отметь их ☒.



2. Выполни действие. Запиши ответ.

$$2 + 9$$

Ответ: _____

3. Выполни действие. Запиши ответ.

$$19 - 7$$

Ответ: _____

4. Впиши пропущенные числа.



5. Ира живёт на седьмом этаже, а Петя на 2 этажа ниже. На каком этаже живёт Петя? Отметь ☒.

на 2 эт. ☐

на 7 эт. ☐

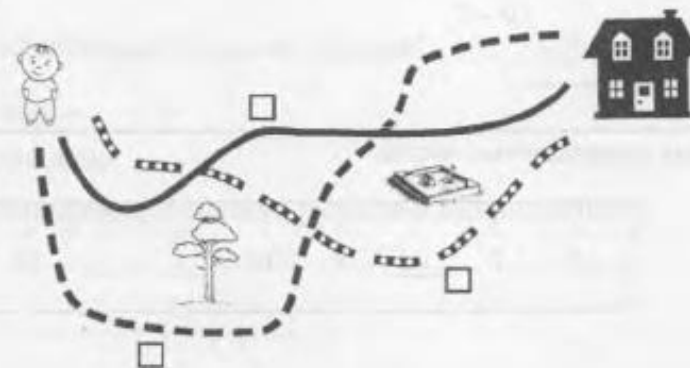
на 9 эт. ☐

на 5 эт. ☐


7. Найди все четырехугольники. Отметь их ☒.



8. Мише надо пройти к дому. По какой дороге ему надо пойти, чтобы сосна была слева, а песочница – справа? Отметь ☒.



9. У Миши солдатики. В какую коробку он может их сложить, если в каждую ячейку можно положить только одного солдата и все ячейки должны быть заняты? Отметь коробку ☒.



10. Выбери число, которое на 4 больше, чем 9. Отметь ☒.

5 ☐

9 ☐

13 ☐

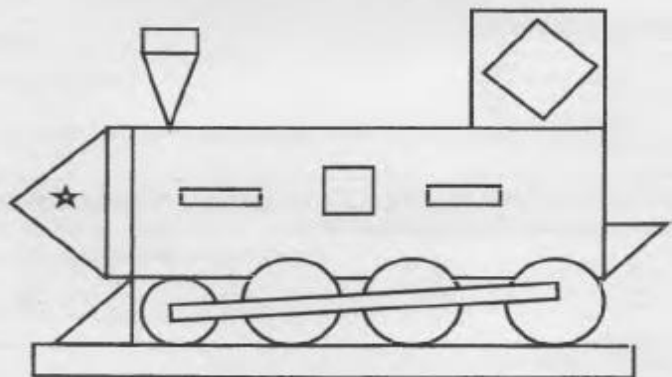
14 ☐

11. Таня наловила бабочек. Бабочек больше 9, но меньше 12. Сколько бабочек могла наловить Таня?

Ответ: _____

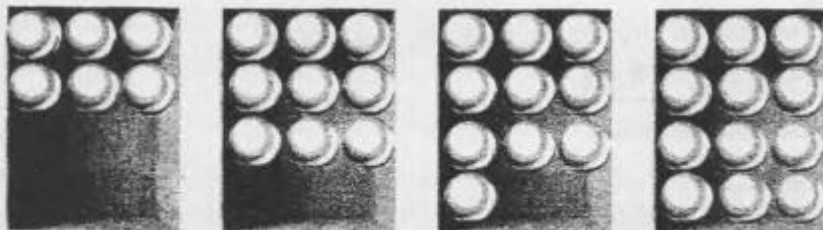
10.

1. Сколько на рисунке четырёхугольников?



Ответ: _____ четырёхугольников

2. Дети разложили шарики в разные коробки. Выбери одну коробку, в которой больше девяти шариков. Отметь ответ ☒.




3. Коля принёс из леса шишки и положил их на стол.



Коля нарисовал кругов на 2 больше, чем шишек. Сколько кругов нарисовал Коля? Отметь ответ ☒.

7



4. Впиши число вместо .


$16 = 10 + \square$

$10 = 12 - \boxed{2}$

5. В вазе было 5 яблок и 7 груш. Дети съели 3 яблока. Сколько яблок осталось в вазе? Отметь ответ ☒.

12 ☐

6. Бабушка положила в шкаф посуду и ложки.



На сколько штук больше чашек, чем ложек?


Ответ: на _____

Запиши решение.

Решение:

A blank coordinate grid with x and y axes ranging from -10 to 10. The grid is used for plotting the graph of the function $y = \frac{1}{2}x^2 - 2x + 2$.

7. Дорисуй картинку так, чтобы у домика была четырёхугольная крыша.



8. Ответь на вопросы.



Вопрос	Ответ
Сколько собак?	_____
На сколько меньше кроликов, чем собак?	На _____

9. Лена и Катя принесли в школу 9 кукол. Лена принесла 6 кукол. Сколько кукол принесла Катя?

Ответ: _____

10. Нарисуй ■, ● и ▲ так, чтобы

● был над ■, а

▲ был справа от ■.

11. Маша нарисовала кубики и половину раскрасила. Она не раскрасила вот столько кубиков.



- а) Сколько кубиков нарисовала Маша?
б) Сколько кубиков она раскрасила?

а) Ответ: _____

б) Ответ: _____

12. На столе лежат 5 картофелин. Гриша положил рядом морковь, 2 свёклы и 3 яблока. Сколько овощей стало на столе? Отметь все верные решения задачи ☒.

- ☐ $5 + 2 + 3$
☐ $5 + 1$
☐ $5 + 1 + 2$
☐ $5 + 3 + 2 + 1$
☐ $5 + 2 + 1$

13. Три девочки стреляли из лука. Каждая сделала по 7 выстрелов. В таблице показано, сколько раз они попали в цель и не попали в цель.

Попала «+»
Не попала «—»

Результаты

	№1	№2	№3	№4	№5	№6	№7
Вера	+	+	+	—	—	—	—
Оля	—	—	+	+	+	+	+
Сима	—	—	—	—	+	+	—

а) Кто из девочек попал 3 раза? Запиши имя.

Ответ: _____

б) Кто из девочек промахнулся больше всех? Запиши имя.

Ответ: _____

14. Вите 6 лет, Соне 4 года. Сколько лет будет Вите, когда Соне будет 7 лет?

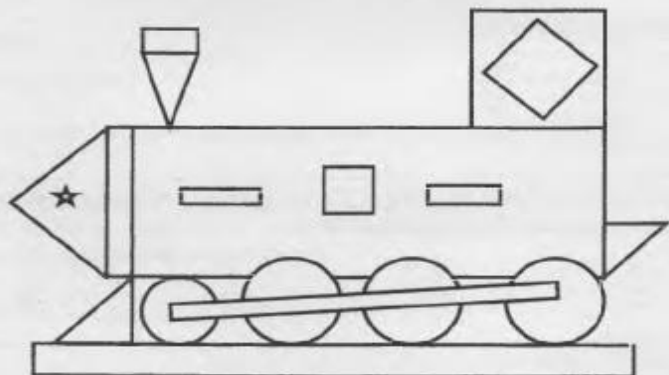
Запиши ответ и объясни его.

Ответ: _____

Объяснение: _____

11.

1. Сколько на рисунке четырёхугольников?



Ответ: _____ четырёхугольников

2. На столе лежат четыре нитки с бусинами. Выбери одну нитку, на которой больше восьми бусин. Отметь ответ ☒.



3. Бабушка купила яблоки и положила их на стол.



Лена нарисовала треугольников на 3 больше, чем яблок. Сколько треугольников нарисовала Лена? Отметь ответ ☒.



4. Впиши число

$17=10+$

$10=14-$

5. В классе 8 девочек и 7 мальчиков. На перемену вышли 3 девочки. Сколько девочек осталось в классе? Отметь ответ ☒.

☐ 18

☐ 12

☐ 5

☐ 4

6. В магазине на полках стоит посуда.




На сколько штук больше кастрюль, чем кружек?

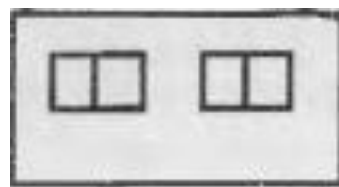
Ответ: на _____

Запиши решение.

Решение:



7. Дорисуй картинку так, чтобы у домика была четырёхугольная крыша.



8. Ответь на вопросы.







Вопрос	Ответ
Сколько кошек?	_____
На сколько меньше собак, чем кошек?	На _____


9. Ира и Света посадили 8 кустов малины. Ира посадила 3 куста. Сколько кустов посадила Света?

Ответ: _____

10. Нарисуй ,  и  так, чтобы

 был слева от , а  был под .

11. Петя нарисовал шарики и половину раскрасил. Он не раскрасил вот столько шариков.



а) Сколько шариков нарисовал Петя?

б) Сколько шариков Петя раскрасил?

а) Ответ: _____

б) Ответ: _____

12. В театр решили пойти 4 девочки. К ним присоединились ещё 2 мальчика и Катя из 5 класса. Сколько детей решили пойти в театр? Отметь все верные решения задачи ☒.

- ☐ $4 + 2$
- ☐ $4 + 5 + 1 + 2$
- ☐ $4 + 2 + 5$
- ☐ $4 + 2 + 1$
- ☐ $4 + 1 + 2$

13. Три мальчика решали задачи. Каждый решил по 7 задач. В таблице показано, какие задачи решены верно и какие неверно.

Верно «+»

Неверно «—»

Результаты решения задач

	№1	№2	№3	№4	№5	№6	№7
Ваня	+	—	+	+	+	—	—
Гена	—	—	+	+	+	+	+
Коля	+	—	+	—	+	—	—

а) Кто из мальчиков решил верно 4 задачи? Запиши имя.

Ответ: _____

б) Кто из мальчиков неправильно решил меньше всех задач? Запиши имя.

Ответ: _____

14. Нине 5 лет, Игорю 7 лет. Сколько лет будет Нине, когда Игорю будет 8 лет? Запиши ответ и объясни его.

Ответ: _____

Объяснение: _____