

ИТОГОВАЯ РАБОТА ПО МАТЕМАТИКЕ ДЛЯ 2 КЛАССА

РЕГИСТРАЦИОННЫЕ ДАННЫЕ

Код
региона

Код
школы

Код
класса

Код
ученика

Фамилия, Имя учащегося _____

ДЕМО

ОСНОВНАЯ ЧАСТЬ

Постарайся выполнить все задания этой части. Выполняй их по порядку.

1 Запиши следующее число последовательности

76 71 66 61 _____

2 Какая из величин больше, чем 14 см? Отметь ответ ☒

☐ 1 дм ☐ 110 мм ☐ 1 дм 2 см ☐ 2 дм

3 В таблице записано, куда хотели бы пойти второклассники в воскресенье.

Куда пойти	Мальчики (чел.)	Девочки (чел.)
Цирк	10	3
Театр	-	8
Кино	-	-
Футбольный матч	5	-
Зоопарк	9	6

а) Куда хотели бы пойти только девочки?

Ответ: _____

б) Сколько ребят хотели бы пойти в зоопарк?

Ответ: _____

4 Вычисли:

64 + 37 = _____ 54 - 27 = _____

5 Разность каких чисел равна 6?

Отметь ответ ☒

☐ 15 и 8

☐ 13 и 6

☐ 19 и 13

☐ 3 и 3

- 6 На столе в тарелке лежали конфеты. Четверо детей разделили конфеты поровну между собой. Каждый получил по 3 конфеты. Сколько конфет было на тарелке?

Ответ: **К.**


- 7 Когда Роме было 12 лет, Оле было 8 лет. Сейчас Оле 10 лет. Сколько лет Роману?

Запиши решение и ответ.

Решение:

[illegible]

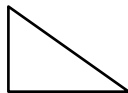
- 8 Коля вырезал из бумаги геометрические фигуры. Какие фигуры **НЕ** имеют прямой угол? Запиши номера этих фигур



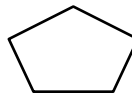
1



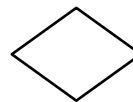
2



3



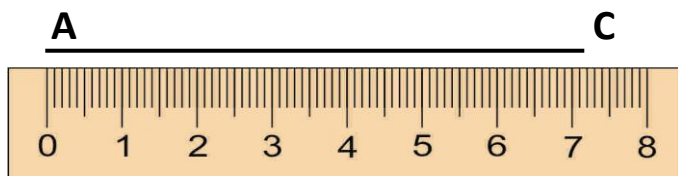
4



5

Ответ:

- 9) Запиши длину отрезка AC в миллиметрах



Ответ: _____

- 10) Выбери число, которое на 4 меньше, чем 9. Ответ отметь ☐

4

11

5

11

9

11

13

☐

- 11) Какое наибольшее число туристов могут разместиться в шести двухместных палатках?
Запиши решение и ответ.

Решение:

[illegible]

-

Ответ: _____

ДОПОЛНИТЕЛЬНАЯ ЧАСТЬ

Задания 13-16 можно выполнять в любом порядке.

-

1-я группа _____

2-я группа

-

Ответ:

Запиши решение.

Решение:

[illegible]

-

1 способ:

[illegible]

Ответ:

2 способ:

[illegible]

Ответ:

-

Используй эти данные для заполнения клеток таблицы.

Предметы	Синие	Красные
Карандаши		
Фломастеры		