

Проверочная работа по математике 1 класс

1. Запиши числа «два», «пять», «семь», «четыре».



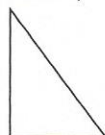
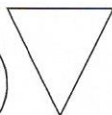


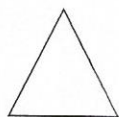
--	--	--	--	--	--	--

2. Дополни ряд. 1, 2, ..., ..., 5, ..., ..., 8, ..., 10.

3. Запиши цифры в порядке увеличения, начиная с самого маленького: 2, 6, 8, 1, 5, 3

--	--	--	--	--	--	--	--	--	--

4. Раскрась треугольники синим карандашом, четырёхугольники – красным.



5. Соедини по линейке цифры по порядку. Отметь количество звеньев.

1 3 5
4 2

6. Обведи примеры с ответом «4».

$6 - 2$	$8 - 2$	$0 + 4$	$7 + 1$	$1 + 3$
$10 - 6$	$4 + 4$	$5 - 1$	$2 + 2$	$1 + 1$

Проверочная работа по математике 1 класс

1. Запиши числа «два», «пять», «семь», «четыре».

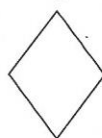
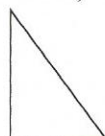


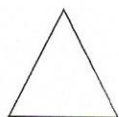
--	--	--	--	--	--	--

2. Дополни ряд. 1, 2, ..., ..., 5, ..., ..., 8, ..., 10.

3. Запиши цифры в порядке увеличения, начиная с самого маленького: 2, 6, 8, 1, 5, 3

--	--	--	--	--	--	--	--	--	--

4. Раскрась треугольники синим карандашом, четырёхугольники – красным.



5. Соедини по линейке цифры по порядку. Отметь количество звеньев.

1 3 5
4 2

6. Обведи примеры с ответом «4».

$6 - 2$	$8 - 2$	$0 + 4$	$7 + 1$	$1 + 3$
$10 - 6$	$4 + 4$	$5 - 1$	$2 + 2$	$1 + 1$