

МБОУ «СШ №24» города Смоленска

Е.В.Ботулева

ЦЕНТРАЛЬНЫЙ ЭКОНОМИЧЕСКИЙ РАЙОН

Теория

Практикум

Вопросы

Задания

Тесты

ГИА



ТЕСТ

1. В состав Центрального района входят:

 А. Брянская, Рязанская, Ярославская

Б. Тверская, Тульская, Белгородская


В. Тамбовская, Омская, Московская

Г. Мурманская, Ленинградская,
Костромская

2. Особенностью ЭГП Центрального района является:

А. Не выходит к государственной
границе

Б. Богат минеральными ресурсами

 В. Расположен на стыке транспортных
путей

Г. Имеет выход к морю

ответы



ТЕСТ

3. Отраслью специализации Центрального района не является:

А. Машиностроение



Б. Цветная металлургия

В. Химическая промышленность

Г. Легкая промышленность

4. Эти города - одни из самых древних в Центральном районе

А. Москва и Тверь

Б. Суздаль и Владимир

В. Ярославль и Рязань



Г. Муром и Ростов

5. На территории Центрального района добывают:

А. природный газ



Б. фосфориты

В. каменный уголь

Г. апатиты



ответы



ВОПРОСЫ



Тверь, Ярославль, Кострома



Москва



легкая промышленность



приборостроение, станкостроение, электротехника, производство электронных систем управления



однородный, преобладают русские



ЗАДАНИЯ

1. Используя карты атласа, материалы урока и учебник составьте сравнительную характеристику двух областей (на выбор), входящих в ЦЭР. Ответ оформите в виде таблицы.

Сделайте вывод об уровне социально-экономического развития этих двух субъектов

характеристика	1 область	2 область
Географическое положение		
Природные условия и ресурсы		
Население		
Хозяйство		
Проблемы и перспективы развития		



ЗАДАНИЯ

2. Проанализируйте структуру хозяйства ЦЭР и выделите те отрасли, которые являются отраслями специализации района на уровне страны в целом.

Ответ можно представить в виде диаграммы и нанести ее на контурную карту России.

Изучая другие экономические районы, контурная карта может дополняться данными по другим районам.

пример



Растениеводство

- зерновое хозяйство
- лён
- сахарная свёкла
- подсолнечник
- картофель и овощи
- сады и виноградники

Животноводство

- скотоводство
- свиноводство
- овцеводство

ПРОМЫШЛЕННОСТЬ

- электроэнергетика
- угольная
- нефтяная
- газовая
- чёрная металлургия
- цветная металлургия
- химическая
- машиностр. и металл.
- лесная
- цементная
- лёгкая
- пищевая
- рыбная

ПРАКТИЧЕСКАЯ РАБОТА

Нанесите на контурную карту:

1. Названия всех субъектов, входящих в состав Центрального Экономического района, покажите границу района

пример

2. Обозначьте круговыми (столбчатыми) диаграммами экономическую специализацию субъектов ЦЭР

пример



Практическая работа



1	Калужская область
2	Орловская область
3	Владимирская область
4	Ивановская область
5	Московская область
6	Ярославская область
7	Костромская область

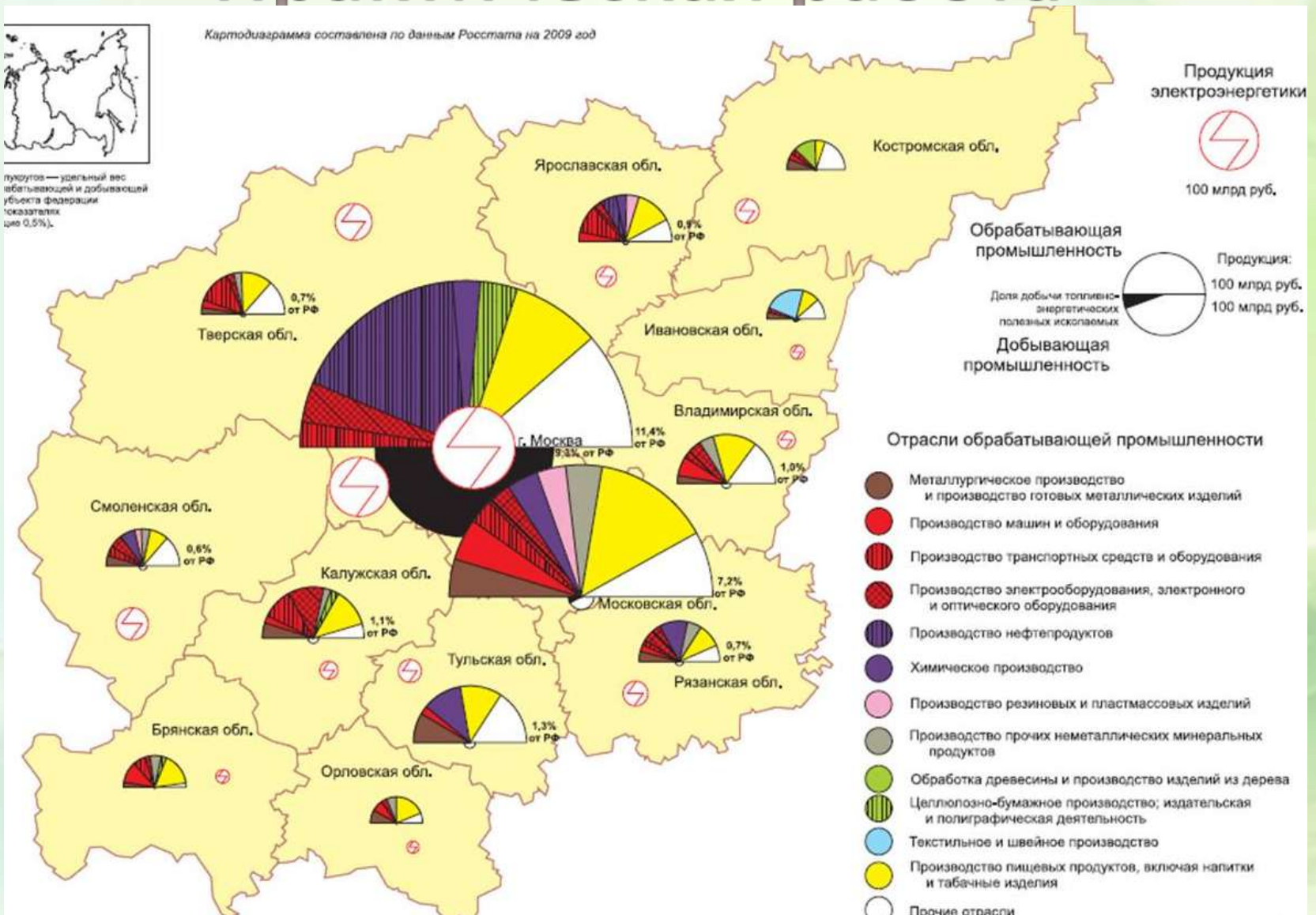


Практическая работа



пиктограммы — удельный вес обрабатывающей и добывающей отраслей в структуре экономики субъекта Федерации (показатель цен 0,5%).

Картодиаграмма составлена по данным Росстата на 2009 год



В1. Установите соответствие между производством и центром его размещения

производство

1. речные суда
2. вагоностроение
3. автобусы

центр размещения

- A. Голицыно
- B. Ярославль
- C. Тверь
- D. Муром

Ответ: 1 – B, 2 – C, 3 – A

В1. Установите соответствие между производством и центром его размещения

производство

1. тепловозы
2. вагоны метро
3. авиационная

центр размещения

- A. Мытищи
- B. Москва
- C. Тверь
- D. Коломна

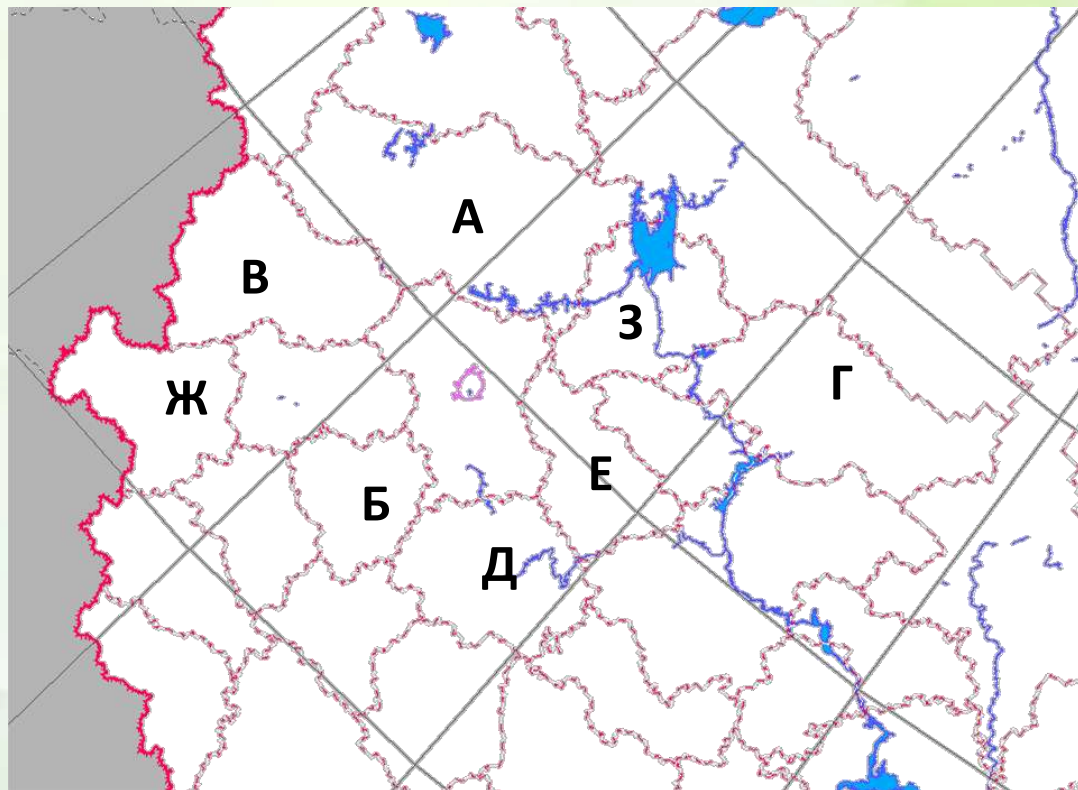
Ответ: 1 – C, 2 – A, 3 – B



В2. Установите соответствие между областью и буквой, которой она обозначена на фрагменте карты

область	буква
1. Костромская	А. А
2. Тульская	В. Б
3. Тверская	С. В
	Д. Г

Ответ: 1 – Г, 2 – Б, 3 – А



область	буква
1. Ярославская	А. Д
2. Владимирская	В. Е
3. Брянская	С. Ж
	Д. З

Ответ: 1 – З, 2 – Е, 3 – Ж

