

1 вариант

Часть А

К каждому заданию части А дано четыре ответа, из которых только один верный. При выполнении заданий части А в бланке ответов под номером выполняемого вами задания (А1 – А15) поставьте цифру в клеточку, которая соответствует цифре выбранного вами ответа.

А1. Наименьшую площадь имеет материк:

- 1) Северная Америка 2) Австралия 3) Африка 4) Евразия

А2. Глубину Средиземного моря определяют по карте:

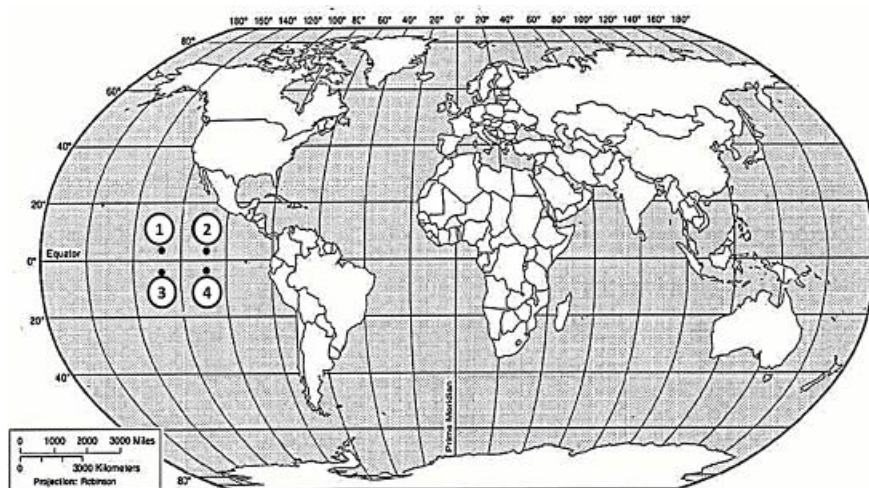
- 1) экономической 2) политической 3) климатической 4) физической

А3. Какая из обозначенных на мира точек имеет географические координаты 5° с.ш. и 115° з.д.?

- 1) А 2) В 3) С 4) D

А4. Земная кора имеет наименьшую

- 1) на Западно-Сибирской равнине
2) в Гималаях
3) на дне океана
4) на Амазонской низменности



карте

115° з.д.?

толщину:

А5. Самая высокая вероятность сильных землетрясений существует на территории:

- 1) полуострова Камчатка 2) острова Великобритания
3) Скандинавского полуострова 4) Канадского Арктического архипелага

А6. Высокая температура и высокая влажность в течение всего года характерны для воздушных масс:

- 1) арктических 2) умеренных 3) тропических 4) экваториальных

А7. Постоянно дующие ветры это:

- 1) муссоны 2) пассаты 3) бриз 4) суховей

А8. Климатический пояс, в котором в течение года происходит смена тропических и экваториальных воздушных масс, называется:

- 1) экваториальным 2) тропическим 3) субтропическим 4) субэкваториальным

А9. По климатической диаграмме определите, в каком месяце выпадает наименьшее количество осадков:

- 1) в январе 2) в марте 3) в июле 4) в ноябре

А10. Тёплым течением является:

- 1) Сомалийское 2) Гольфстрим 3) Калифорнийское 4) Перуанское

А11. С запада Северную Америку омывает океан

- 1) Индийский 2) Тихий 3) Атлантический 4) Северный Ледовитый

А12. Крайней восточной точкой материка Евразия является мыс:

- 1) Дежнёва 2) Челюскин 3) Рока 4) Пиай

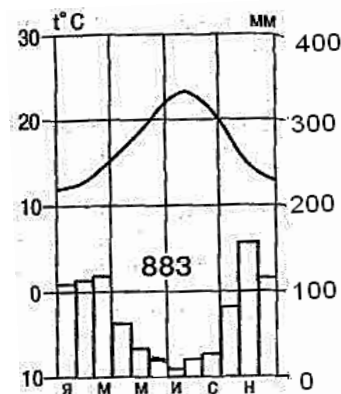
А13. В Австралии обитают

- 1) леопард, горилла, окапи 2) ехидна, утконос, кенгуру
3) пума, ягуар, анаконда 4) опоссум, овцебык, скунс

А14. Равнинами Евразии являются:

- 1) Миссисипская, Восточно-Европейская 2) Восточно-Европейская, Великая Китайская
3) Великая Китайская, Ла-Платская 4) Ла-Платская, Индо-Гангская

А15. В Северной Америке мхи, лишайники, кустарнички, карликовые берёзы, олени карibu – характерные представители природной зоны:



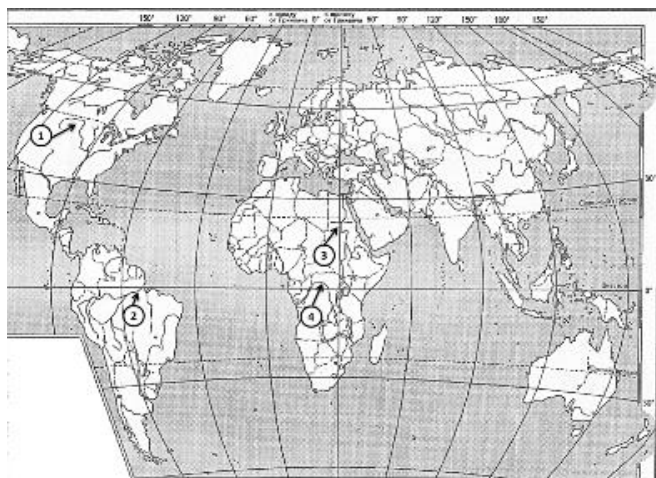
- 1) тундры 2) тайги 3) широколиственных лесов 4) смешанных лесов

Часть В

1 вариант

Ответом к заданиям части В является набор цифр, которые следует записать в бланк справа от номера соответствующего задания, начиная с первой клеточки. Каждую цифру пишете в отдельной клеточке.

В1. Установите какой цифрой (на карте 1) обозначены реки перечисленные ниже



НАЗВАНИЯ РЕК

- A) Нил
B) Амазонка
C) Конго
D) Миссисипи

В2. Установите какой цифрой

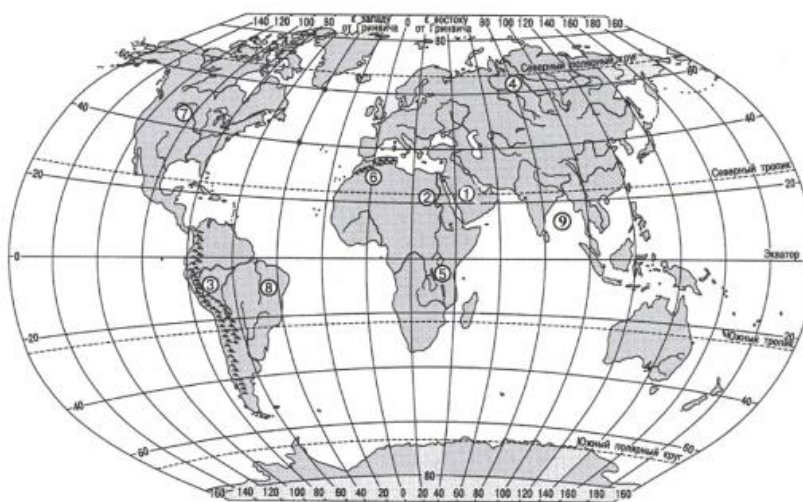
(на карте 2) обозначены объекты перечисленные ниже.

ГЕОГРАФИЧЕСКИЕ ОБЪЕКТЫ

- A) горы Атлас
B) Бразильское плоскогорье

- C) Аравийский полуостров
D) горы Анды

карта 1



В3. Выберите три верных утверждения.

- 1) Самый многочисленный народ мира – китайцы.
- 2) Испания является островным государством.
- 3) Большой Барьерный риф протянулся вдоль северо-восточного побережья Австралии.
- 4) Японцы – самый низкорослый народ, живущий в Африке.
- 5) Крупнейшее государство Южной Америки – Бразилия.
- 6) Россия – самая маленькая по площади страна мира.

карта 2

Часть С

Определите страну по её краткому описанию.

1. Это древнейшая африканская страна, большая часть населения которой проживает в долине великой реки мира, протекающей по самой крупной пустыне. Запасы нефти, орошаемые земли, рекреационные ресурсы основные богатства этой страны, она обладает также выгодным экономико-географическим положением: выходом к морю, близостью к развитым странам и функционированием на её территории одного из крупнейших каналов мира.

Определите, о какой природной зоне говорится:

2. «Характерны глеевые и тундро-глеевые почвы. Мхи, лишайники, карликовые деревья. Характерные представители животного мира: песцы, северные олени, волки, белые совы, овцебык».

Часть А

Часть А содержит 15 заданий с выбором ответа. К каждому заданию даётся четыре варианта ответа, только один из которых верный. При выполнении заданий этой части в бланке ответов под номером выполняемого вами задания (А1–А15) поставьте цифру в клеточке, которая соответствует цифре выбранного вами ответа.

А1. Какой материк Земли самый сухой?

- 1) Евразия 2) Африка 3) Австралия 4) Южная Америка

А2. Какие горы расположены на материке Африка:

- 1) Пиренеи, Драконовы, Гималаи; 2) Атлас, Капские, Драконовы;
3) Альпы, Капские, Анды. 4) Атлас, Карпаты, Кордильеры

А3. Относительно устойчивые и выровненные участки земной коры, лежащие в основании современных материков, - это:

- 1) материковые отмели 2) платформы
3) сейсмические пояса 4) острова

А4. Какая из перечисленных территорий расположена в пределах сейсмического пояса?

- 1) Японские острова 2) острова Новая Земля
3) полуостров Таймыр 4) полуостров Ямал

А5. Самый низкий от поверхности Земли слой атмосферы – это:

- 1) Тропосфера; 2) Стратосфера;
3) Ионосфера. 4) Верхние слои

А6. Какой буквой на карте (карта 1) обозначен вулкан Килиманджаро?

- 1) А 2) Б 3) В 4) Г

А7. Для какого типа климата умеренного климатического пояса характерны самые низкие зимние температуры?

- 1) морского 2) умеренно - континентального
3) резко - континентального 4) муссонного

А8. Какое из перечисленных морских течений действует в Тихом океане? карта 1

- 1) Гольфстрим 2) Бразильское 3) Гвинейское 4) Куроисио.

А9. Какая амплитуда колебаний температур (на рис. 1) более верная?

- 1) 5° 2) 10° 3) 15° 4) 20°

А10. Укажите ошибку в сочетании «материк - животное».

- 1) Африка — гепард 2) Австралия — коала
3) Южная Америка — пума 4) Евразия — скунс

А11. В саваннах Африки растут

- 1) сейба, саксаул, гевея 2) зонтичная акация, баобаб, молочай
3) лиственница, полынь, ковыль 4) эвкалипт, пихта, бамбук

А12. Какие координаты имеет самая восточная точка Африки?

- 1) 16° ю.ш.; 3° в.д. 2) 10° с.ш.; 51° в.д.
3) 51° с.ш.; 11° в.д. 4) 16° с.ш.; 3° з.д.

А13. По карте плотности населения определите, какая из названных территорий заселена больше?

- 1) Европа; 2) Южная Америка;
3) Австралия; 4) север Африки.

А14. Укажите самое большое по площади озеро Африки?

- 1) Чад; 2) Ньяса; 3) Виктория 3) Каспийское

А15. Определите, водами, каких заливов омывается материк Северная Америка:

- 1) Гудзонов, Мексиканский; 2) Гвинейский, Бенгальский;
3) Мексиканский, Бискайский 4) Гудзонов, Персидский

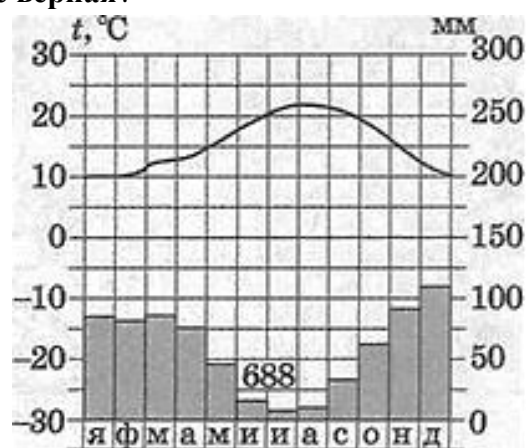
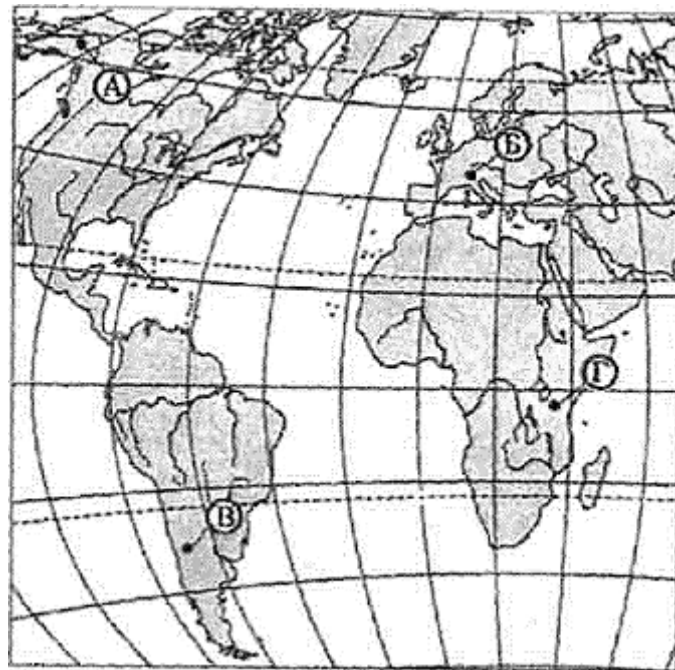


рис.1

Ответом к заданиям части В является набор цифр, которые следует записать в бланк справа от номера соответствующего задания, начиная с первой клеточки. Каждую цифру пишите в отдельной клеточке.

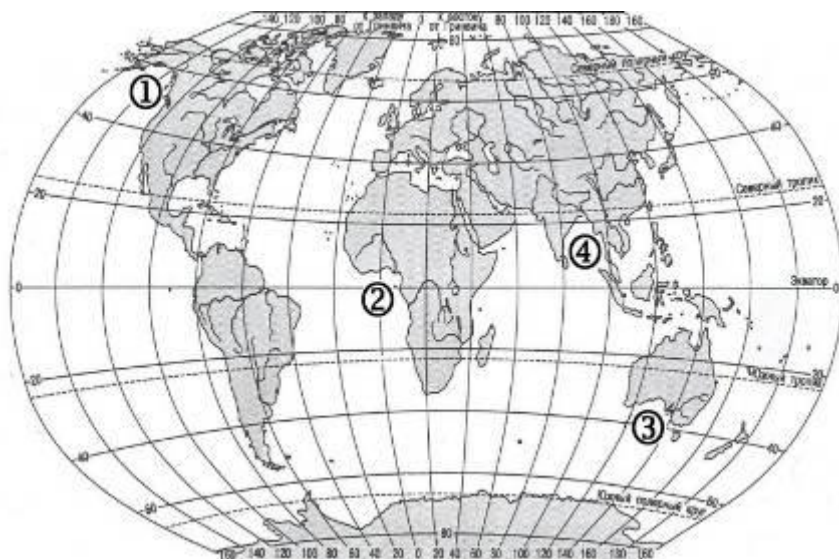
В1. Установите соответствие между строением земной коры и рельефом.

ГОРЫ

- 1) Гималаи
- 2) Кордильеры
- 3) Капские
- 4) Аппалачи

ВОЗРАСТ СКЛАДЧАТОСТИ

- А. Мезозойский
- Б. Кайнозойский
- С. Герцинский
- Д. Байкальский



(карта 2)

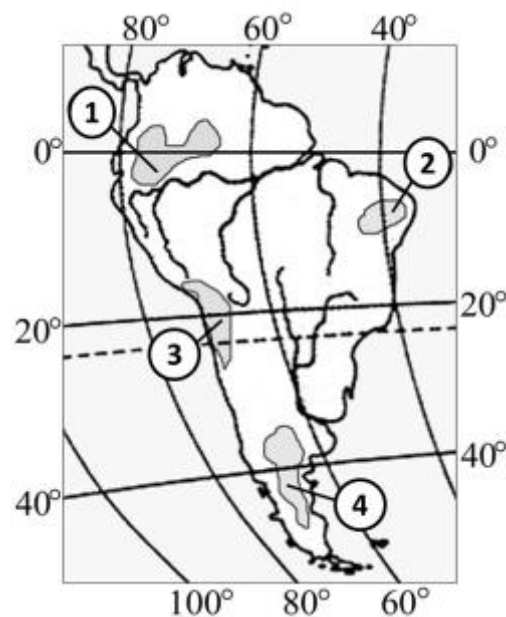
В3. С помощью карты (рис.2) сравните среднегодовое количество осадков в точках, обозначенных на карте цифрами 1, 2, 3, 4. Расположите эти точки в порядке увеличения количества осадков, выпадающих в них. Запишите в таблицу получившуюся последовательность цифр.

В2. Установите соответствие между заливом и его расположением на карте (карта2), обозначенным цифрой.

ЗАЛИВ

- А) Гвинейский
- Б) Бенгальский
- С) Аляска
- Д) Большой Австралийский залив

Запишите в таблицу цифры, соответствующие выбранным ответам.



(рис.2)

Часть С

Определите страну по её краткому описанию

1. Территория этой американской страны вытянута в меридиональном направлении более чем на 3,7 тыс. км и поэтому расположена в трех климатических поясах: тропическом, субтропическом и умеренном. Горы на территории этой страны местные жители называют «Медными», при этом в столице проживает треть населения страны. На мировом рынке выступает как крупный поставщик медных руд, продовольствия и сельскохозяйственного сырья.

Определите, о какой природной зоне говорится:

2. «Характерны красно-жёлтые ферралитные почвы. Всегда жарко, а дожди идут только летом. Преобладает травянистая растительность с кустами зонтичной акации. Характерные представители животного мира: гепарды, зебры, носороги, слоны».

Часть А														
А 1	А 2	А 3	А 4	А 5	А 6	А 7	А 8	А 9	А 10	А 11	А 12	А 13	А 14	А 15
2	4	2	3	1	4	2	4	4	2	2	1	2	2	1
Часть В														
	А	В	С	Д		А	В	С	Д					
В1	3	2	4	1	В2	6	8	1	3	В3	1	3	5	
Часть С														
С1	Египет													
С2	Тундра													
Для исправления ошибочных ответов														
А		А		А		рядом с буквой пишем номер исправляемого ответа и в соседние клетки вписываем правильный ответ								
А		А		А										
В						В								

Часть А														
А 1	А 2	А 3	А 4	А 5	А 6	А 7	А 8	А 9	А 10	А 11	А 12	А 13	А 14	А 15
3	2	2	1	1	4	3	4	3	4	2	2	1	3	1
Часть В														
	А	В	С	Д		А	В	С	Д					
В1	2	1	4	3	В2	1	4	1	3	В3	3	4	2	1
Часть С														
С1	Чили													
С2	Саванны													
Для исправления ошибочных ответов														
А		А		А		рядом с буквой пишем номер исправляемого ответа и в соседние клетки вписываем правильный ответ								
А		А		А										
В					В									