

Тема: СТЕКЛЯННЫЕ ТОВАРЫ

ВАРИАНТ 1

1. Назовите основное сырье для производства стеклотоваров: _____.


2. Найти соответствие способов выработки стеклянных изделий:

1. Прессование	1. Определенная весовая капля стекломассы подается в форму, в которую опускают пуансон, оказывающий давление на стекломассу, которая заполняет все пространство между формой и пуансоном
2. Выдувание	2. В быстро вращающуюся форму подается определенная порция стекломассы, которая равномерно распределяется и приобретает конфигурацию готового изделия
3. Прессовыдувание	3. Разогретый конец трубки опускают в стекломассу, которая прилипает к нагретому металлу. На трубку навивают определенное количество стекла, выравнивают его на металлическом столе, раздувают пузырек и окончательно выдувают изделие
4. Литье	4. Вначале выпрессовывают заготовку и отделяют края изделия, а затем заготовку выдувают сжатым воздухом до заданных размеров
5. Центробежное литье	5. Стеклomассу заливают в специальную форму, в которой она охлаждается и принимает очертания формы

3. Назовите украшения стеклоизделий:

1. Украшение, выполняемое с помощью переводных картинок - _____,
2. Украшение золотом, полоска толщиной 14мм - _____,
3. Многократная обработка поверхности изделия плавиковой кислотой вручную кисточкой - _____.


4. Найти соответствие наносимых украшений на стеклоизделия в горячем состоянии:

1. Цветные нити и полосы	<div>1. </div>
--------------------------	--

2. Украшение под мрамор	<div data-bbox="885 548 917 584" data-label="Text">2.</div> <div data-bbox="930 73 1385 580" data-label="Image"> </div>
3. Кракле	<div data-bbox="885 1048 917 1084" data-label="Text">3.</div> <div data-bbox="930 591 1385 1079" data-label="Image"> </div>
4. Иризация	<div data-bbox="885 1585 917 1621" data-label="Text">4.</div> <div data-bbox="930 1095 1385 1619" data-label="Image"> </div>
5. Люстры	<div data-bbox="885 2069 917 2105" data-label="Text">5.</div> <div data-bbox="930 1632 1324 2105" data-label="Image"> </div>

5. Перечислите групповой ассортимент стеклоизделий _____,
_____, _____, _____, _____.

6. Определите дефект стеклоизделия:

	<ol style="list-style-type: none">1. Осыпь2. Морщинки3. Свиль4. Пузырь5. Шлир
---	---

7. Назовите дефекты выработки:

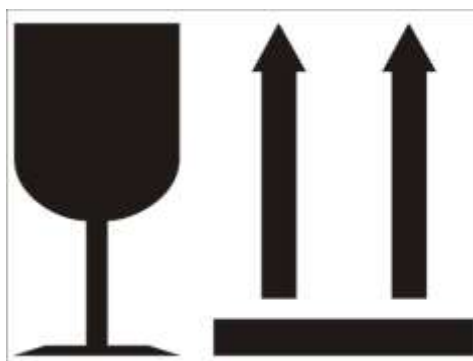
1. мелкие сколы - _____,
2. неровность в виде ряби на поверхности - _____,
3. неровность поверхности карманообразной формы - _____.

8. Выберите правильный ответ:

1. Фужер 2. Бокал 3. Бокальчик 4. Рюмка	Вместимость, см ³
	1. 15-25 2. 30-100 3. 110-150 4. 175-350

9. Допишите предложение: «Выдувные изделия маркируют бумажной этикеткой, которую наносят на _____ с указанием _____,
_____.

10. Назовите манипуляционные знаки:



Тема: СТЕКЛЯННЫЕ ТОВАРЫ




ВАРИАНТ 2

1. Назовите виды стекла по составу стекломассы: _____ - _____, _____ - _____, _____ - _____.

2. Дополните основные этапы производства стеклянных изделий:

1. Приготовление стекломассы
2. _____
3. _____
4. Отжиг
5. _____

3. Найти соответствие наносимых украшений на готовые изделия в холодном состоянии механическим способом:

1. Матовая лента	1. 
2. Номерная шлифовка	2. 
3. Алмазная грань	3. 

4. Гравировка	<div data-bbox="647 73 1145 568" data-label="Image"> </div> <div data-bbox="603 539 632 568" data-label="Text">4.</div>
5. Прямая широкая грань	<div data-bbox="647 577 1145 896" data-label="Image"> </div> <div data-bbox="603 866 632 896" data-label="Text">5.</div>

4. Назовите украшения стеклоизделий:

1. Один слой цветного стекла покрывается одним или двумя слоями интенсивно окрашенного стекла - _____,
2. Выдувание без формы с углублениями, выпуклостями и прилепами - _____,
3. Прокатывание разогретого изделия по измельченному цветному стеклу, которое приплавляется к поверхности - _____.

5. Назовите группы дефектов стеклоизделий: _____, _____, _____.


6. Определите дефект стеклоизделия:

<div data-bbox="248 1554 767 2130" data-label="Image"> </div>	<ol style="list-style-type: none"> 1. Осыпь 2. Морщинки 3. Свиль 4. Пузырь 5. Шлир
---	---

7. Назовите дефекты стеклоизделий:

1. мелкая волнистость поверхности - _____,
2. петлеобразные, нитевидные, волосяные включения - _____,
3. повреждения с раковистой структурой на торце - _____.

8. Определите вид изделия:

	<ol style="list-style-type: none">1. Рюмка для водки2. Бокальчик3. Рюмка для коньяка4. Рюмка для ликера5. Фужер
---	---

9. Вставьте пропущенные слова: «Прессованные и прессовываемые изделия маркируют в процессе _____. В маркировке указывается _____ или _____».

10. Перечислите манипуляционные знаки, наносимые на тару со стеклянными изделиями.