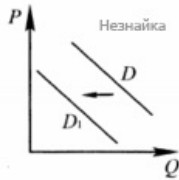


Экономика: задания на анализ графической информации

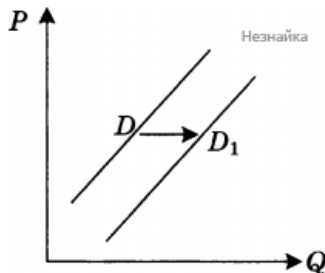
Ответами к заданиям являются слово, словосочетание, число или последовательность слов, чисел. Запишите ответ без пробелов, запятых и других дополнительных символов.

- 1 На рисунке отражено изменение спроса на инвентарь для зимних видов спорта (беговые лыжи, коньки, сноуборды и проч.). Что из приведённого ниже могло вызвать сдвиг кривой спроса из положения D в положение — D_1 ? (На графике P - цена товара; Q - количество товара.)



1. неудачная рекламная акция производителей
2. популяризация зимних видов спорта
3. открытие новых лыжных центров
4. начало предолимпийского сезона
5. наступление весны

- 2 На графике отражено изменение спроса на мобильные телефоны новых моделей: линия спроса D переместилась в новое положение D_1 (P — цена товара, Q — количество товара). Какие из перечисленных факторов могут вызвать такое изменение? Запишите цифры, под которыми они указаны.



1. укрупнение компаний, предоставляющих услуги мобильной связи
2. снижение цен на популярные модели телефонов
3. утверждение плоской шкалы налогообложения
4. рост покупательной способности населения
5. удорожание услуг стационарной телефонной связи

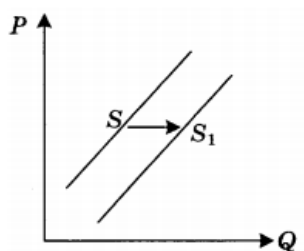
- 3 На рисунке отражена ситуация на рынке бытовой медицинской техники. Что из приведённого ниже могло вызвать сдвиг кривой спроса из положения D в положение — D_1 ? (На графике P - цена товара; Q - количество товара.)



1. внедрение новой высокопроизводительной технологии производства бытовой медицинской техники
2. снижение стоимости медицинских услуг в частных клиниках

3. повышение внимания граждан к собственному здоровью
4. развитие фундаментальных исследований в области медицины
5. успешное проведение рекламной кампании бытовой медицинской техники

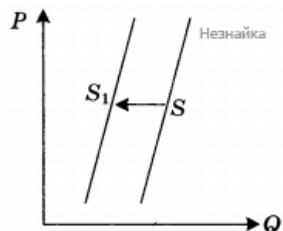
- 4 На графике отражена ситуация на рынке парикмахерских услуг: линия предложения S переместилась в новое положение — S_1 (P — цена товара, Q — количество товара).



Какие из перечисленных факторов могут вызвать такое изменение? Запишите цифры, под которыми они указаны.

1. расширение сети парикмахерских
2. новые модные веяния в стилях причесок
3. снижение налогов с предприятий малого бизнеса
4. использование новых средств по уходу за волосами
5. изменение ставки подоходного налога

- 5 На графике отражена ситуация на рынке обуви: линия предложения S переместилась в новое положение S_1 (P — цена товара, Q — количество товара).



Какие из перечисленных факторов могут вызвать такое изменение? Запишите цифры, под которыми они указаны.

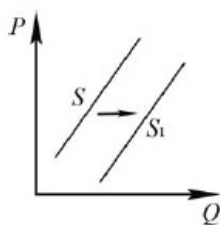
1. обострение конкуренции между производителями
2. вступление экономики в фазу подъема
3. рост цен на используемое сырье и фурнитуру
4. ослабление рекламной кампании по продвижению новых моделей
5. увеличение транспортных расходов по доставке товара в магазины

- 6 На рисунке отражено изменение предложения молочных продуктов на соответствующем рынке: линия предложения S переместилась в новое положение — S_1 . (P — цена; Q — количество.)

4

5

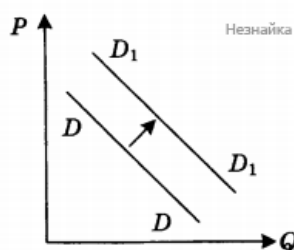
6



Какие из перечисленных факторов могут вызвать такое изменение? Запишите цифры, под которыми они указаны.

1. уменьшение стоимости кормов для коров
2. ожидания роста потребления молочной продукции
3. банкротство нескольких молочных ферм
4. повышение цен на энергоносители
5. строительство новых заводов молочной продукции

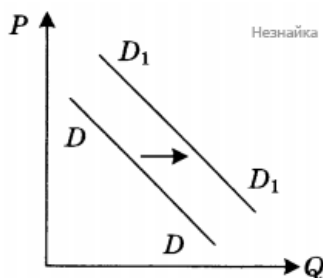
- 7 На графике отражена ситуация на рынке сельскохозяйственной техники: линия спроса D переместилась в новое положение D_1 (P — цена товара, Q — объем спроса товара).



Какие из перечисленных факторов могут вызвать такое изменение? Запишите цифры, под которыми они указаны.

1. расширение посевных площадей
2. развитие потребительской кооперации
3. концентрация производства на крупных предприятиях
4. вступление экономики в фазу подъема
5. изменение ставки налога на прибыль

- 8 На графике отражена ситуация на рынке бытовой химии: линия спроса D переместилась в новое положение D_1 (P — цена товара, Q — объем спроса товара).



Какие из перечисленных факторов могут вызвать такое изменение? Запишите цифры, под которыми они указаны.

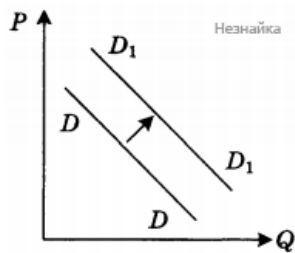
1. расширение числа производителей бытовой химии
2. заселение многоэтажных домов новых микрорайонов
3. технические нововведения на предприятиях бытовой химии

7

8

4. увеличение налогов, уплачиваемых производителями
5. реклама новой продукции предприятий бытовой химии

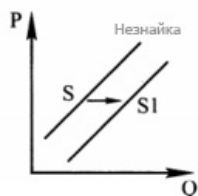
- 9 На графике отражена ситуация на рынке яхт и яхтенного оборудования: линия спроса D переместилась в новое положение D_1 (P — цена товара, Q — объем спроса товара).



Какие из перечисленных факторов могут вызвать такое изменение? Запишите цифры, под которыми они указаны.

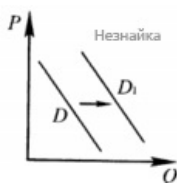
1. появление новых производителей яхт и яхтенного оборудования
2. снижение пошлин на ввоз импортных яхт
3. предложение яхт новых моделей
4. рост доходов покупателей яхт
5. легкость приобретения в связи с расширением возможностей покупок яхт в Интернет-магазинах

- 10 На графике отражена ситуация на рынке мебели для дома. Что из приведённого ниже могло вызвать сдвиг кривой предложения S в положение S_1 ? (На графике P — цена товара; Q — количество товара).



1. плохие отзывы покупателей
2. увеличение количества производителей мебели
3. дефицит дерева для производства мебели
4. снижение доходов потребителей
5. увеличение объемов жилищного строительства

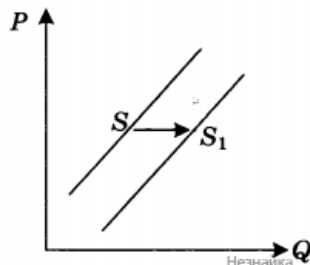
- 11 На рисунке отражена ситуация на рынке спортивных тренажёров для дома. Что из приведённого ниже могло вызвать сдвиг кривой спроса из положения D в положение D_1 ? (На графике P — цена товара; Q — количество товара.)



1. снижение уровня жизни населения
2. уменьшение доходов потребителей

3. хорошие отзывы покупателей о спортивных тренажёрах для дома
4. снижение цен на посещение тренажёрных залов
5. повышение внимания граждан к собственному здоровью

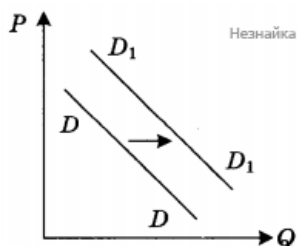
- 12 На графике отражена ситуация на рынке бытовой техники: линия предложения S переместилась в новое положение — S_1 (P — цена товара, Q — количество товара).



Какие из перечисленных факторов могут вызвать такое изменение? Запишите цифры, под которыми они указаны.

1. увеличение доходов потребителей бытовой техники
2. широкая реклама в СМИ бытовой техники новых марок
3. применение технологий, сокращающих издержки производства
4. ожидание роста потребительских цен
5. выход на рынок нового крупного производителя бытовой техники

- 13 На графике отражена ситуация на рынке изделий из текстиля (постельного белья, махровых полотенец и др.): линия спроса D переместилась в новое положение D_1 (P — цена товара, Q — объем спроса товара).



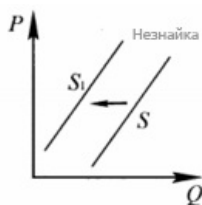
1. расширение гостиничного бизнеса
2. появление новых видов искусственных тканей
3. увеличение числа производителей домашнего текстиля
4. рост налогов с производителей текстильной продукции
5. рост доходов потребителей текстильных изделий

- 14 На рисунке отражено изменение предложения школьно-письменных принадлежностей на соответствующем рынке. Что из приведённого ниже могло вызвать сдвиг кривой предложения из положения S в положение S_1 ? (На графике P — цена товара; Q — количество товара.)

12

13

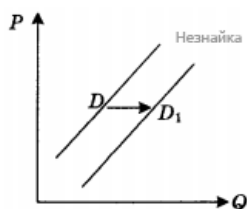
14



1. сокращение количества предприятий в отрасли
2. увеличение общего числа школьников
3. рост доходов населения
4. внедрение новых технологий производства
5. увеличение налогов с предприятий отрасли

- 15 На графике отражено изменение спроса на бытовые товары длительного пользования на соответствующем рынке: линия спроса D переместилась в положение D_1 (P — цена товара, Q — количество товара).

15

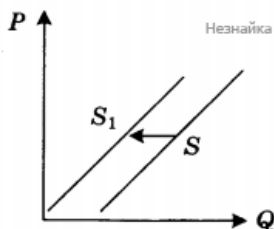


Какие из перечисленных факторов могут вызвать такое изменение? Запишите цифры, под которыми они указаны.

1. повышение ставки подоходного налога
2. появление бытовой техники нового поколения
3. монополизация в отраслях, производящих бытовую технику
4. рост благосостояния населения
5. создание условий для развития малого бизнеса

- 16 На графике отражена ситуация на рынке ремонтно-строительных услуг: линия предложения S переместилась в новое положение S_1 (P — цена товара, Q — количество товара).

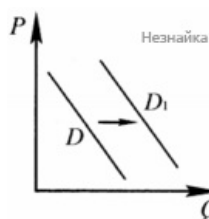
16



Какие из перечисленных факторов могут вызвать такое изменение? Запишите цифры, под которыми они указаны.

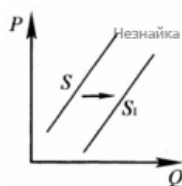
1. выдача льготных кредитов организациям, занимающимся строительством и ремонтом
2. увеличение доходов потребителей услуг рынка
3. развитие рынка жилищного строительства
4. рост налогов, уплачиваемых ремонтно-строительными организациями
5. повышение цен на строительные материалы

- 17 На рисунке отражено изменение спроса на биологически активные добавки к пище для улучшения зрения на соответствующем рынке. Что из приведённого ниже могло вызвать сдвиг кривой спроса из положения D в положение D_1 ? (На графике P - цена товара; Q - количество товара.)



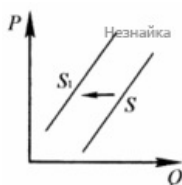
1. массовые положительные отзывы покупателей
2. пропаганда профилактики глазных болезней
3. повышение безопасности компьютерной техники для здоровья человека
4. уменьшение объёмов производства биологически активных добавок к пище
5. снижение доходов населения

- 18 На рисунке отражено изменение ситуации на рынке кухонной мебели. Что из приведённого ниже могло вызвать сдвиг кривой предложения из положения S в положение S_1 ? (На графике P - цена товара; Q - количество товара.)



1. рост затрат производителей кухонной мебели
2. увеличение количества производителей кухонной мебели
3. снижение доходов потребителей
4. предоставление субсидий производителям кухонной мебели
5. повышение пошлин на импортные комплектующие

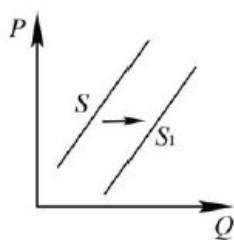
- 19 На рисунке отражена ситуация на рынке легковых автомобилей. Что из приведённого ниже могло вызвать сдвиг кривой предложения из положения S в положение S_1 ? (На графике P - цена товара; Q - количество товара.)



1. повышение цен на энергоносители
2. рост доходов населения
3. спад в автомобильной отрасли
4. ввод в строй новых предприятий по сборке автомобилей
5. расширение рынка автокредитов

потребительском рынке: кривая предложения переместилась из положения S в положение S_1 . (На графике P – цена товара; Q – количество товара.)

Какие из перечисленных факторов могут вызвать такое изменение? Запишите цифры, под которыми они указаны.



1. увеличение количества производителей автомобилей
2. снижение возраста получения водительского удостоверения
3. снижение цен на комплектующие изделия для автомобилей
4. рост тарифов на электроэнергию
5. повышение процентов по автокредитам

Ответы

1	15
2	245
3	35
4	13
5	35
6	125
7	14
8	25
9	45
10	25
11	35
12	35
13	15
14	15
15	24
16	45
17	12
18	24
19	13
20	13

Обо всех неточностях пишите на почту (с указанием темы и формулировки задания):
dasha@neznaika.pro

Источник: <http://neznaika.pro/test/obch/262>