

**ПРОВЕРОЧНАЯ РАБОТА  
ПО МАТЕМАТИКЕ ДЛЯ 1-го КЛАССА**

**Вариант № 1**


Школа \_\_\_\_\_ Класс 1 \_\_\_\_\_

Фамилия, имя \_\_\_\_\_

**Прочитай и выполни задания. В работе 9 заданий.  
Постарайся выполнить все задания. Желаем тебе  
успеха!**

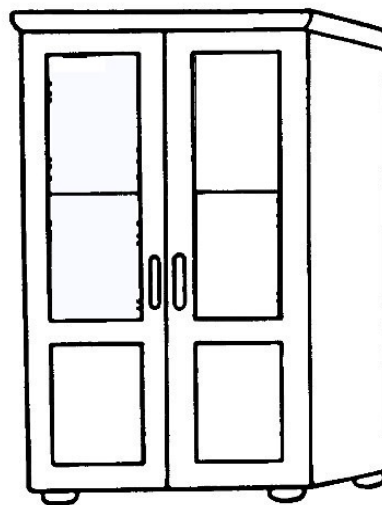
1

Рассмотри рисунок.  
Посчитай, сколько треугольников на рисунке.  
Запиши ответ цифрой.



Ответ: \_\_\_\_\_.

- 2 У мамы стояли 6 чашек на полках и 5 чашек в шкафу. Сколько всего было чашек?



Отметь ☒ верный ответ.

☐ 5

☐ 6

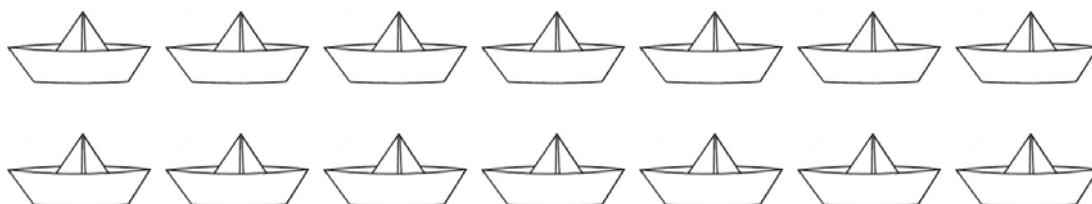
☐ 11

☐ 15

- 3 Рассмотрю таблицу.  
Заполни все пустые ячейки этой таблицы.

Слагаемое	<b>7</b>	<b>3</b>	
Слагаемое		<b>6</b>	<b>2</b>
Сумма	<b>9</b>		<b>10</b>

- 4 Ване надо сделать 14 бумажных корабликов. Он уже сделал 8 корабликов. Сколько корабликов осталось сделать Ване?



Ответ: осталось сделать \_\_\_\_\_ бумажных корабликов.

5

Серёжа и Миша собрали марки и значки. Их количество мальчики записали в таблицу.

Мальчики	Марки	Значки
Серёжа	7	5
Миша	6	9

Сколько значков собрал Серёжа?

Ответ: \_\_\_\_ значков.

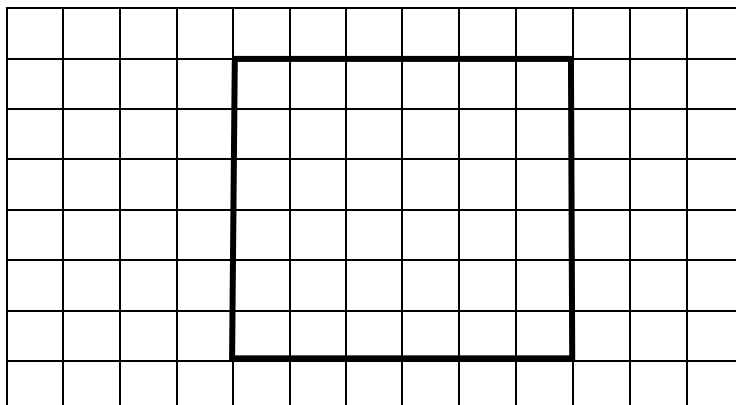
6

На столе лежали четыре груши, 5 пирожных и 3 яблока. Сколько всего фруктов лежало на столе? Запиши решение и ответ.

Решение:																			
Ответ:																			

7

Используй линейку и карандаш. Раздели квадрат одной линией так, чтобы получилось два треугольника.



8 У Юли было 5 таких монет:

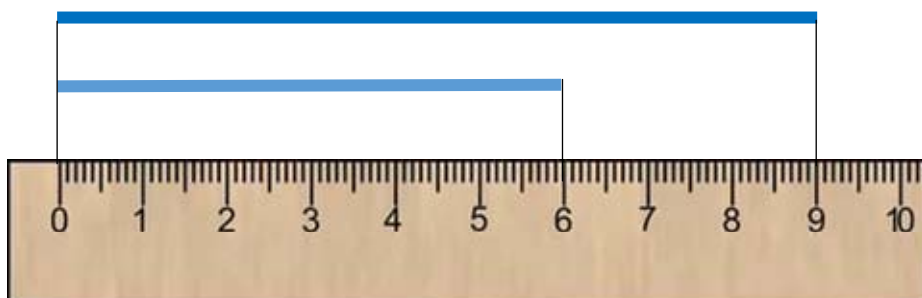


Юля купила тетрадь за 3 рубля и карандаш за 2 рубля.  
Сколько денег осталось у Юли после покупки?  
Запиши ответ цифрой.

Ответ: \_\_\_\_\_ р.

9

Рассмотри рисунок.  
Для ответа на какой вопрос нужно выполнить действие  
вычитание?



Отметь ☒ верный ответ.

- ☐ Как найти длину каждого отрезка?
- ☐ Какова длина верхнего отрезка?
- ☐ На сколько сантиметров длина верхнего отрезка больше длины нижнего отрезка?
- ☐ Какова длина двух отрезков?