

**ПРОВЕРОЧНАЯ РАБОТА
ПО МАТЕМАТИКЕ ДЛЯ 1-го КЛАССА**

Вариант № 2


Школа _____ Класс 1 _____

Фамилия, имя _____

**Прочитай и выполни задания. В работе 9 заданий.
Постарайся выполнить все задания. Желаем тебе
успеха!**

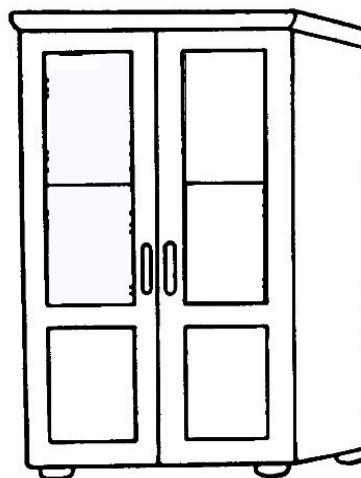
1 Рассмотри рисунок.

Посчитай, сколько треугольников на рисунке.
Запиши ответ цифрой.



Ответ: _____.

- 2 У бабушки стояли 4 тарелки на полке и 8 тарелок в шкафу. Сколько всего было тарелок?



Отметь ☒ верный ответ.

☐ 4

☐ 12


☐ 8

☐ 14

- 3 Рассмотри таблицу.
Заполни все пустые ячейки этой таблицы.

Слагаемое	6	4	
Слагаемое		3	5
Сумма	8		9

- 4 Саше к празднику надо надуть 16 шариков. Он уже надул 9 шариков. Сколько шариков осталось надуть Саше?



Ответ: осталось надуть _____ шариков.

- 5
- Даша и Оля собрали открытки и конверты. Их количество девочки записали в таблицу.

Девочки	Открытки	Конверты
Даша	9	7
Оля	5	8

Сколько открыток собрала Оля?


Ответ: ____ открыток.

- 6
- На столе лежали шесть мандаринов, 5 конфет и 2 апельсина. Сколько всего фруктов лежало на столе? Запиши решение и ответ.

Решение:																			
Ответ:																			

7

Используй линейку и карандаш. Раздели прямоугольник одной линией так, чтобы получилось два треугольника.



8

У Коли было 5 таких монет:



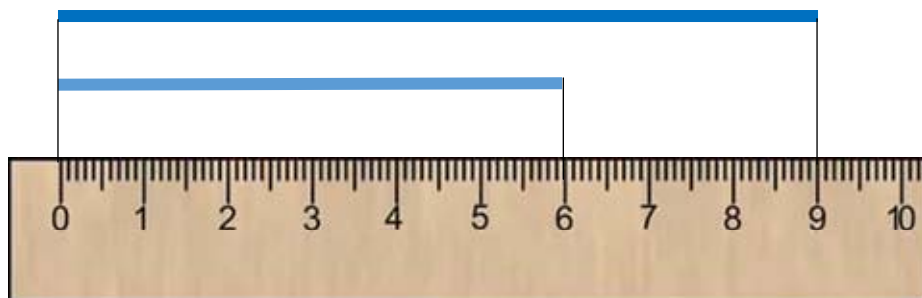
Коля купил ластик за 2 рубля и линейку за 3 рубля. Сколько денег осталось у Коли после покупки?
Запиши ответ цифрой.

Ответ: _____ р.

9

Рассмотри рисунок.

Для ответа на какой вопрос нужно выполнить действие сложение?



Отметь ☒ верный ответ.

- ☐ Как найти длину каждого отрезка?
- ☐ Какова длина верхнего отрезка?
- ☐ На сколько сантиметров длина верхнего отрезка больше длины нижнего отрезка?
- ☐ Какова длина двух отрезков?