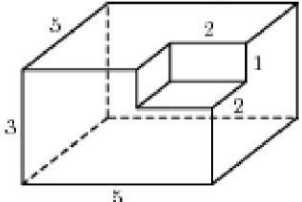
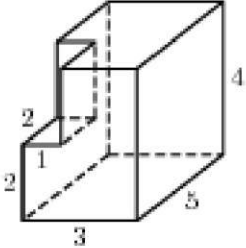
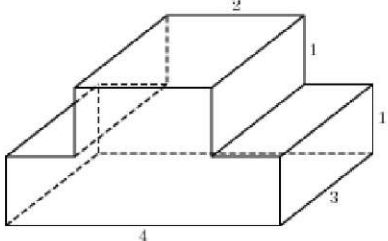
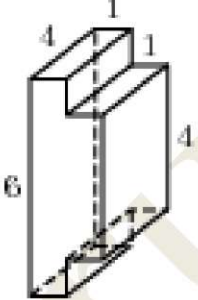
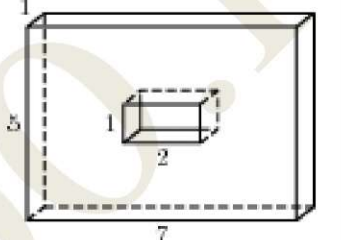
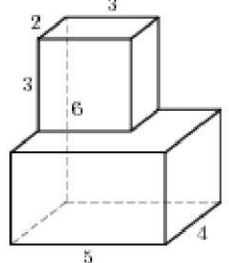
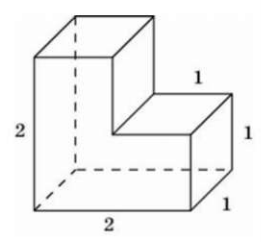
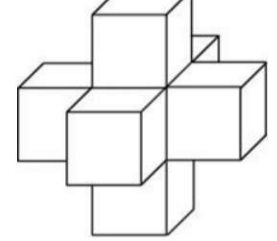
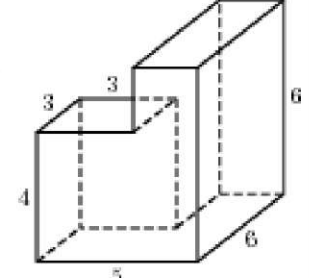
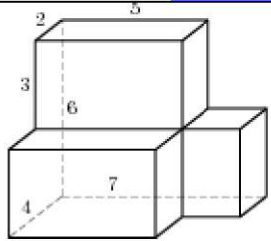
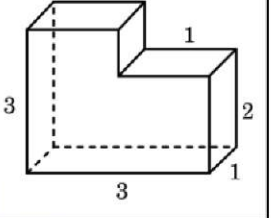
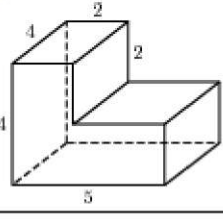
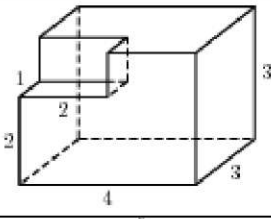
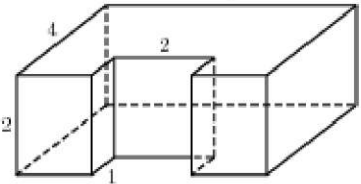


## ПЛОЩАДЬ ПОВЕРХНОСТИ И ОБЪЕМ СОСТАВНОГО МНОГОГРАННИКА

1.	Найдите площадь поверхности многогранника, изображенного на рисунке (все двугранные углы прямые).	
2.	Найдите площадь поверхности многогранника, изображенного на рисунке (все двугранные углы прямые).	
3.	Найдите площадь поверхности многогранника, изображенного на рисунке (все двугранные углы прямые).	
4.	Найдите площадь поверхности многогранника, изображенного на рисунке (все двугранные углы прямые).	
5.	Найдите площадь поверхности многогранника, изображенного на рисунке (все двугранные углы прямые).	
6.	Найдите площадь поверхности многогранника, изображенного на рисунке (все двугранные углы прямые).	
7.	Найдите площадь поверхности многогранника, изображенного на рисунке (все двугранные углы прямые).	

Задание №8 профильного ЕГЭ

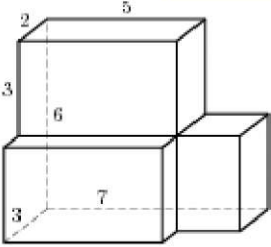
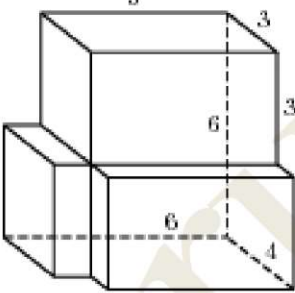
8.	Найдите площадь поверхности многогранника, изображенного на рисунке (все двугранные углы прямые).	
9.	Найдите площадь поверхности многогранника, изображенного на рисунке (все двугранные углы прямые).	
10.	Найдите площадь поверхности многогранника, изображенного на рисунке (все двугранные углы прямые).	
11.	Найдите площадь поверхности многогранника, изображенного на рисунке (все двугранные углы прямые).	
12.	Найдите площадь поверхности многогранника, изображенного на рисунке, все двугранные углы которого прямые.	
13.	Найдите площадь поверхности пространственного креста, изображенного на рисунке и составленного из единичных кубов.	
14.	Найдите площадь поверхности многогранника, изображенного на рисунке (все двугранные углы прямые).	

15.	Найдите площадь поверхности многогранника, изображенного на рисунке (все двугранные углы прямые).	
16.	Найдите площадь поверхности многогранника, изображенного на рисунке (все двугранные углы прямые).	
17.	Найдите объем многогранника, изображенного на рисунке (все двугранные углы многогранника прямые).	
18.	Найдите объем многогранника, изображенного на рисунке (все двугранные углы прямые).	
19.	Найдите объем многогранника, изображенного на рисунке (все двугранные углы прямые).	
20.	Найдите объем многогранника, изображенного на рисунке (все двугранные углы прямые).	
21.	Найдите объем многогранника, изображенного на рисунке (все двугранные углы прямые).	
22.	Найдите объем многогранника, изображенного на рисунке (все двугранные углы прямые).	

Задание №8 профильного ЕГЭ

23.	Найдите объем многогранника, изображенного на рисунке (все двугранные углы прямые).	
24.	Найдите объем многогранника, изображенного на рисунке (все двугранные углы прямые).	
25.	Найдите объем многогранника, изображенного на рисунке (все двугранные углы прямые).	
26.	Найдите объем многогранника, изображенного на рисунке (все двугранные углы прямые).	
27.	Найдите объем многогранника, изображенного на рисунке (все двугранные углы прямые).	
28.	Найдите объем многогранника, изображенного на рисунке (все двугранные углы прямые).	

Задание №8 профильного ЕГЭ

29.	<p>Найдите объем многогранника, изображенного на рисунке (все двугранные углы прямые).</p>	
30.	<p>Найдите объем многогранника, изображенного на рисунке (все двугранные углы прямые).</p>	
31.	<p>Найдите объем многогранника, изображенного на рисунке (все двугранные углы прямые).</p>	