

Муниципальное бюджетное общеобразовательное учреждение
средняя общеобразовательная школа №4

Контрольно-измерительные материалы
для проведения административной контрольной работы по математике
2 класс

Составила: Галимова Гульнара Дамировна,
учитель начальных классов
высшей квалификационной категории

2019 г.

АДМИНИСТРАТИВНАЯ КОНТРОЛЬНАЯ РАБОТА ПО МАТЕМАТИКЕ
за 1 полугодие 2019-2020 учебного года (2 класс)

ВАРИАНТ I

1. Отметь наибольшее однозначное число.

- A) 12 Б) 8 В) 13 Г) 4

2. Укажи строку, в которой число представлено в виде суммы разрядных слагаемых.

- A) $95=50+40+5$
 Б) $95=50+45$
 В) $95=90+5$
 Г) $95=100-5$

3. В каком числовом выражении нужно поставить знак «+»?

- A) $15 \dots 9 = 6$ Б) $12 \dots 4 = 8$ В) $18 \dots 2 = 20$ Г) $30 \dots 10 = 20$

4. Прочитай задачу. Запиши решение задачи и полный ответ.

Один арбуз весит 13 кг, а другой 9 кг. На сколько килограммов один из них легче другого?





Ответ:

5. Реши задачу и выбери правильный ответ.

Когда Игорь решил 16 примеров, ему осталось решить ещё 9. Сколько всего примеров нужно решить Игорю?

- A) 26 Б) 7 В) 25 Г) 27

6. Укажи фигуру, которая не является многоугольником?

- A)  B)  B)  Γ) 

7. Вычисли.

$$56 - 9 + 27 = \underline{\hspace{2cm}}$$

8*Вычисли периметр прямоугольника со сторонами 7 см и 4 см. Выбери правильный ответ.

А) 11 см Б) 20 см В) 22 см Г) 21 см

АДМИНИСТРАТИВНАЯ КОНТРОЛЬНАЯ РАБОТА ПО МАТЕМАТИКЕ
за 1 полугодие 2019-2020 учебного года (2 класс)

ВАРИАНТ II

1. Отметь наименьшее однозначное число.

A) 19 Б) 11 В) 6 Г) 8

2. Укажи строку, в которой число представлено в виде суммы разрядных слагаемых.

A) $73 = 70 + 3$

Б) $73 = 50 + 20 + 3$

B) $73 = 50 + 23$

Г) $73 = 80 - 7$

3. В каком числовом выражении нужно поставить знак « - »?

A) $15 \dots 9 = 24$ Б) $12 \dots 4 = 16$ В) $42 \dots 2 = 40$ Г) $70 \dots 10 = 80$

4. Прочитай задачу. Запиши решение задачи и полный ответ.

Масса дыни 7 кг, а масса тыквы 13 кг. На сколько килограммов тыква тяжелее дыни?

ОТВЕТ:

5. Реши задачу и выбери правильный ответ.


Когда Лена вымыла 7 тарелок, то ей осталось вымыть ещё 8. Сколько всего тарелок нужно вымыть Лене?

A) 16 Б) 14 В) 15 Г) 17

6. Укажи фигуру, которая является прямоугольником?



A)



Б)



B)



1)

7. Вычисли.

$$74 - 8 + 34 = \underline{\hspace{2cm}}$$

8*. Вычисли периметр прямоугольника со сторонами 9 см и 3 см. Выбери правильный ответ.

- А) 12 см Б) 24см В) 22 см Г) 13 см

**Таблица рекомендаций для оценивания
выполнения заданий контрольной работы
по математике за 1 полугодие (2 класс)**

№ зад	Правильное решение или ответ	
	ВАРИАНТ 1	ВАРИАНТ 2
1.	Ответ:8	Ответ: 6
	1 балл – верно выбран ответ 0 баллов – неверно выбран ответ	
2.	Ответ: В)	Ответ: А)
	1 балл – верно выбран ответ 0 баллов – неверно выбран ответ	
3.	Ответ: В)	Ответ: В)
	1 балл – верно выбран ответ 0 баллов – неверно выбран ответ	
4.	Ответ: 13 – 9 = 4 (кг)	Ответ: 13 – 7=6 (кг)
	2 балла – дано правильное решение и записан верный ответ	
	1 балл – дано правильное решение, но допущена ошибка в вычислениях	
	0 баллов – неверное решение	
5.	Ответ: В)	Ответ: В)
	1 балл – верно выбран ответ 0 баллов – неверно выбран ответ	
6.	Ответ: А)	Ответ: Г)
	1 балл – верно выбран ответ 0 баллов – неверно выбран ответ	
7.	Ответ: 74	Ответ: 98
	1 балл – найдено правильное значение выражения 0 баллов – допущена ошибка	
ИТОГО базовый уровень: 8 баллов		
8*.	Ответ: В)	Ответ: Б)
	1 балл – верно выбран ответ 0 баллов – неверно выбран ответ	
ИТОГО повышенный уровень: 1 балл		

Базовый уровень:

«5» - 8 баллов

«4» - 7 - 6 баллов

«3» - 5 баллов

«2» - 4 и менее баллов

Повышенный уровень*:

«5» - 1 балл