

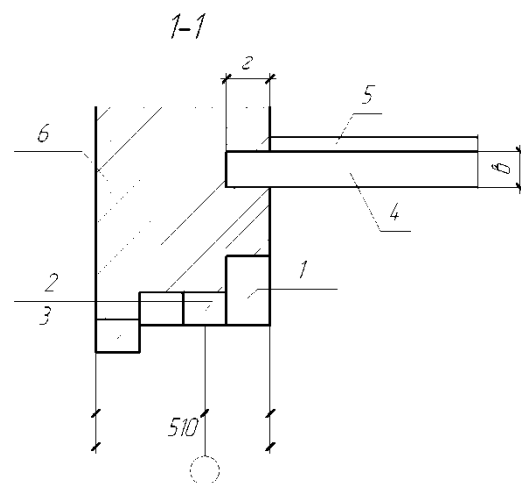
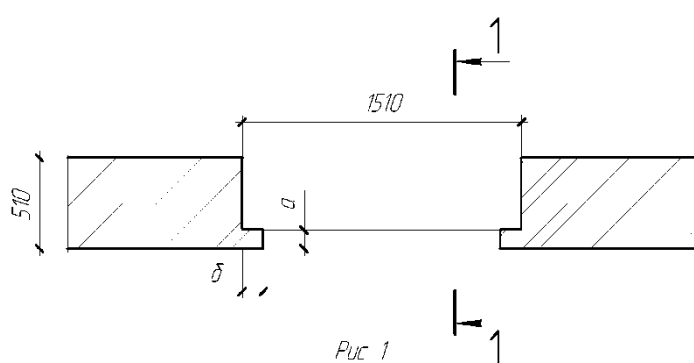
Задание: В рабочей тетради выполнить задание №1, №2.

Срок выполнения: до 20.04.2020

Фото выполненных заданий скидываем в группу ВК или на электронную почту: ulyau-2010.volkova@yandex.ru

Задание 1

1. Назовите конструктивные элементы, обозначенные поз. 1...6.
2. Определите тип здания, в котором эти элементы применяются.
3. Дополните недостающие размеры, обозначенные буквами а, б, в, г.
4. Запроектируйте необходимые длины поз. 1,2,3.



Задание 2

1. Назовите вид крыши, изображенный на рис. 1.
2. Объясните в каких типах зданий применяют такие крыши.
3. Расшифруйте названия элементов, обозначенных поз. 1...7.
4. Объясните назначение слуховых окон.

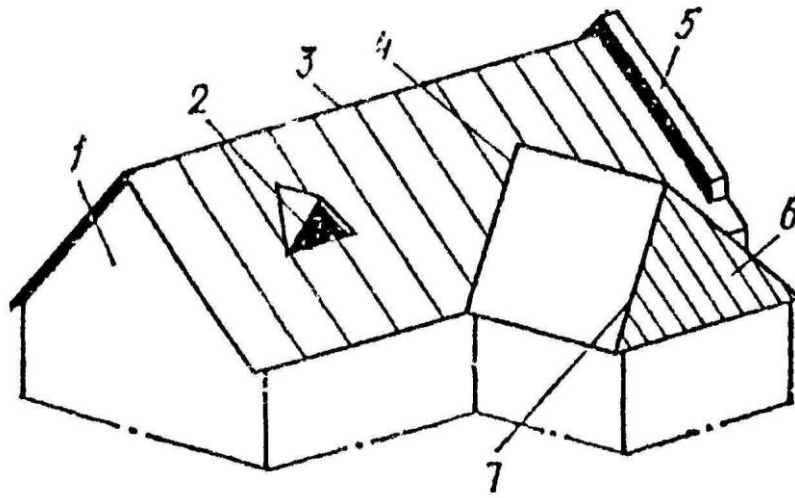


Рис. 1