

1 П О Л Я Р Н А Я

2 Г Л О Б У С

3  
4

5  
6

7

1 П О Л Я Р Н А Я

2 Г Л О Б У С

3 Л У Н А

4

5

6

7









## Цели:

1. Вспомнить, что такое планеты.
2. Узнать, как на звездном небе находить планеты.
3. Узнать, какие планеты входят в Солнечную систему.

# Астроном





## Алгоритм работы:

1. Прочитать абзац.
2. Выделить главную мысль абзаца.
3. Сформулировать пункт плана.

## План:

1. Наблюдать звезды в  
безлунную ночь.

## План:

1. Наблюдать звезды в безлунную ночь.
2. В течение нескольких вечеров нужно проследить за одним из немерцающих кружочков на небе.

## План:

1. Наблюдать звезды в безлунную ночь.
2. В течение нескольких вечеров нужно проследить за одним из немерцающих кружочков на небе.
3. Если кружок через 2-3 дня переместится на фоне неподвижных мерцающих звезд, то это планета.

# Алгоритм работы с карточками:

1. Прочитать текст на карточке.
2. Собраться в группу.
3. Обсудить информацию о планете в группе.
4. Выбрать одного представителя от группы.

## План рассказа:

1. Как называется планета?
2. Какая эта планета по счету от Солнца?
3. В честь кого планета названа?
4. Интересные факты о планете из карточки.

# Меркурий




# Венера



# Земля




# Марс



# Юпитер




# Сатурн



# Уран




# Нептун



# Плутон





**ВЕНЕРА**

**МАРС**

**ЮПИТЕР**

**УРАН**

**НЕПТУН**

**ПЛУТОН**

**МЕРКУРИИ**

**ЗЕМЛЯ**

**САТУРН**

1. Солнце – это ...

а) звезда

б) созвездие

в) планета

1. Солнце – это ...

а) звезда

б) созвездие

в) планета

## 2. Планеты имеют форму ...

а) овала

б) шара

в) квадрата

## 2. Планеты имеют форму ...

а) овала

б) шара

в) квадрата

3. На какой планете существует  
жизнь:

- а) на Марсе
- б) на Венере
- в) на Земле

3. На какой планете существует  
жизнь:

а) на Марсе

б) на Венере

в) на Земле

4. Наша планета называется....

а) Марс

б) Меркурий

в) Земля

4. Наша планета называется....

а) Марс

б) Меркурий

в) Земля

5. В Солнечную систему входит ...

а) 7 планет

б) 8 планет

в) 9 планет

5. В Солнечную систему входит ...

а) 7 планет

б) 8 планет

в) 9 планет

6. Земля совершает оборот  
вокруг своей оси за ...

а) за 1 год

б) за сутки

в) за неделю

6. Земля совершает оборот  
вокруг своей оси за ...

а) за 1 год

б) за сутки

в) за неделю

7. Главным источником света и тепла на Земле является ...

- а) Луна
- б) Солнце
- в) звезды

7. Главным источником света и тепла на Земле является ...

а) Луна

б) Солнце

в) звезды

8. За какое время Земля совершает полный оборот вокруг Солнца?

а) За сутки

б) за 1 год

в) за 6 месяцев

8. За какое время Земля совершает полный оборот вокруг Солнца?

а) За сутки

б) за 1 год

в) за 6 месяцев

*Раньше я думал ...*

*Теперь я думаю ...*