

# Открытый урок по математике 2 класс

Разработала: учитель  
начальных классов

МАОУ Гагинская СШ  
*Волкова Н.И.*





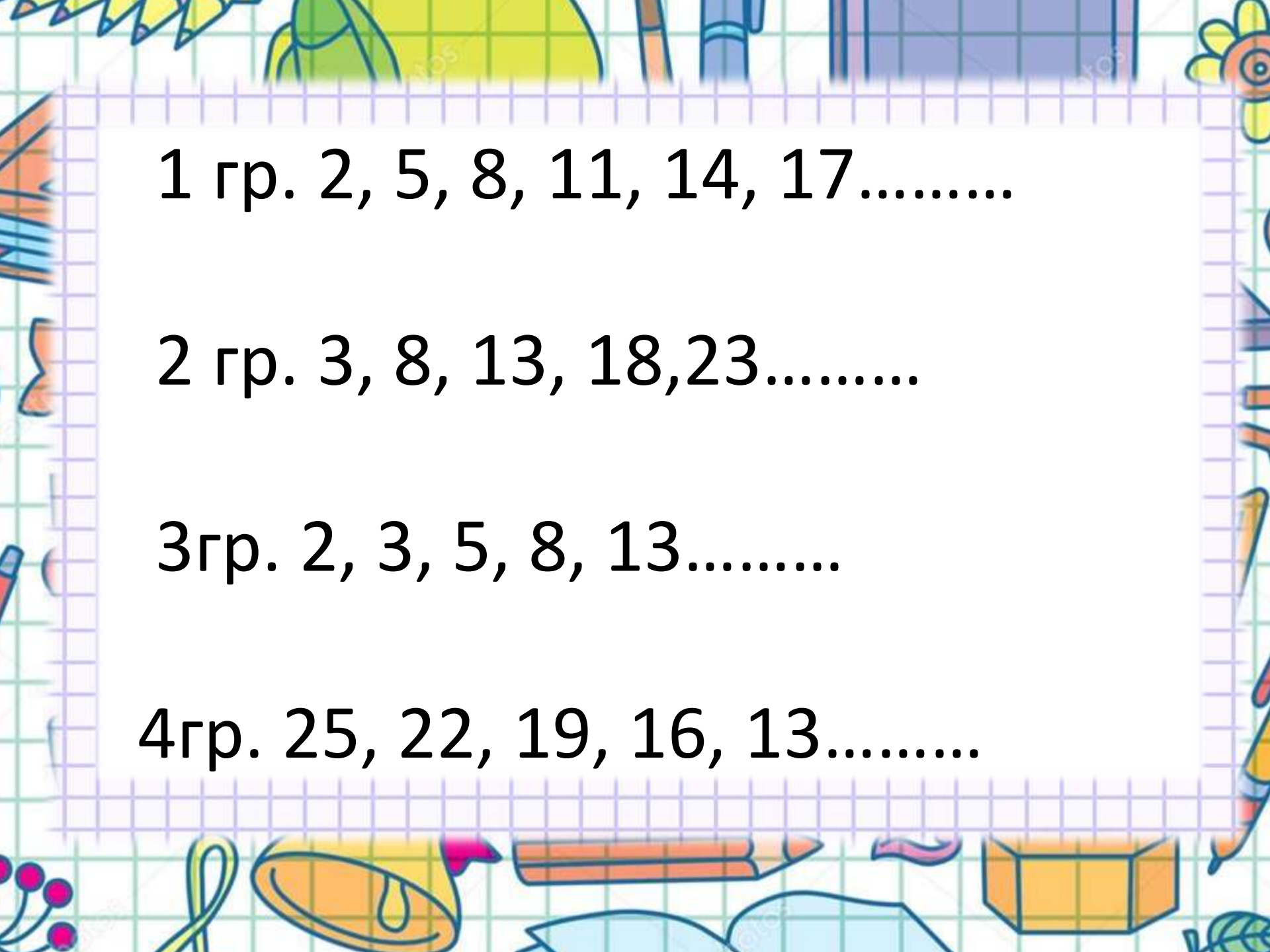
*Девиз нашего урока*  
**Кто хочет много знать  
Должен сам всё постигать!**





# *Устный счёт*





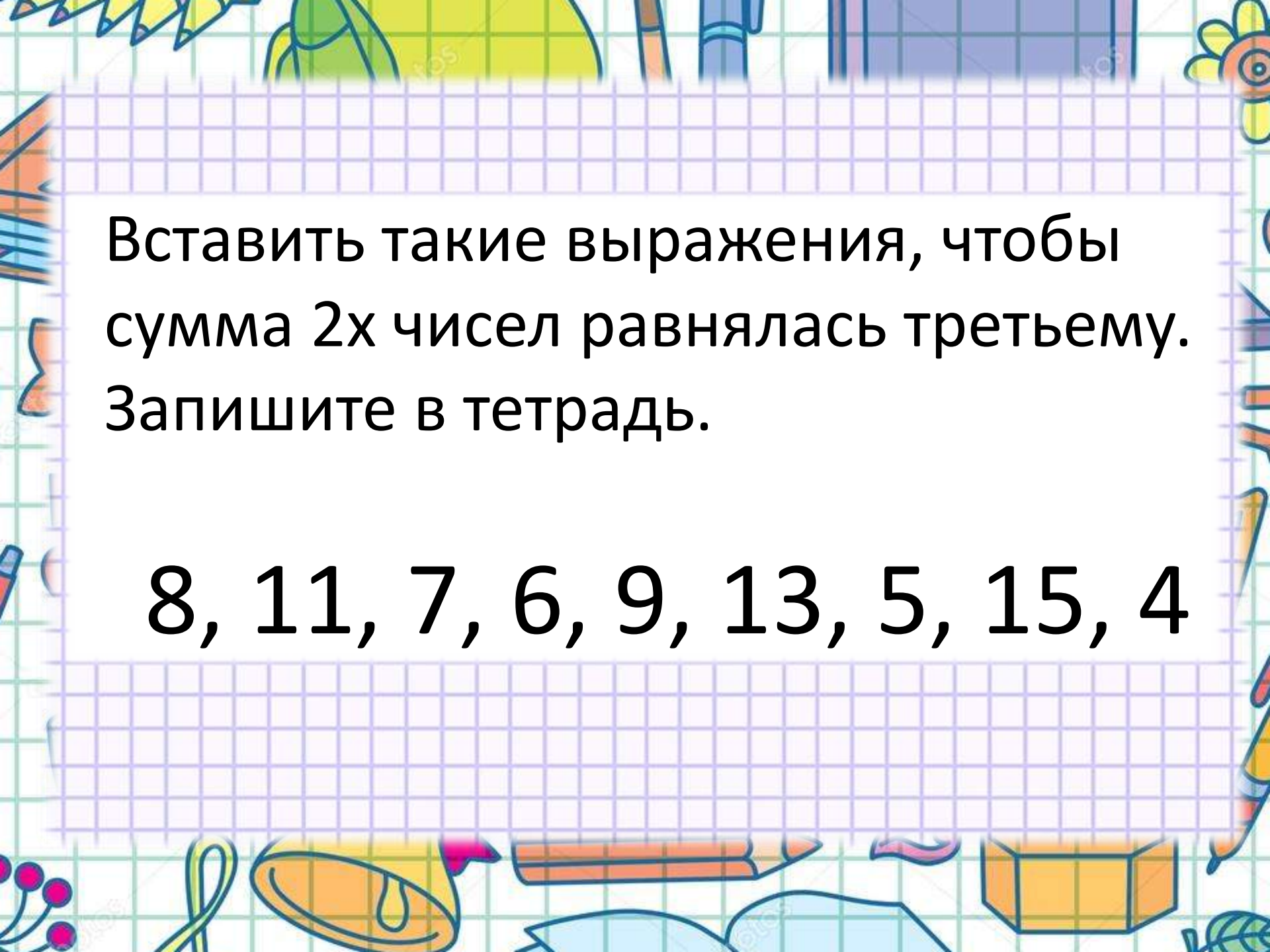
1 гр. 2, 5, 8, 11, 14, 17.....

2 гр. 3, 8, 13, 18, 23.....

3 гр. 2, 3, 5, 8, 13.....

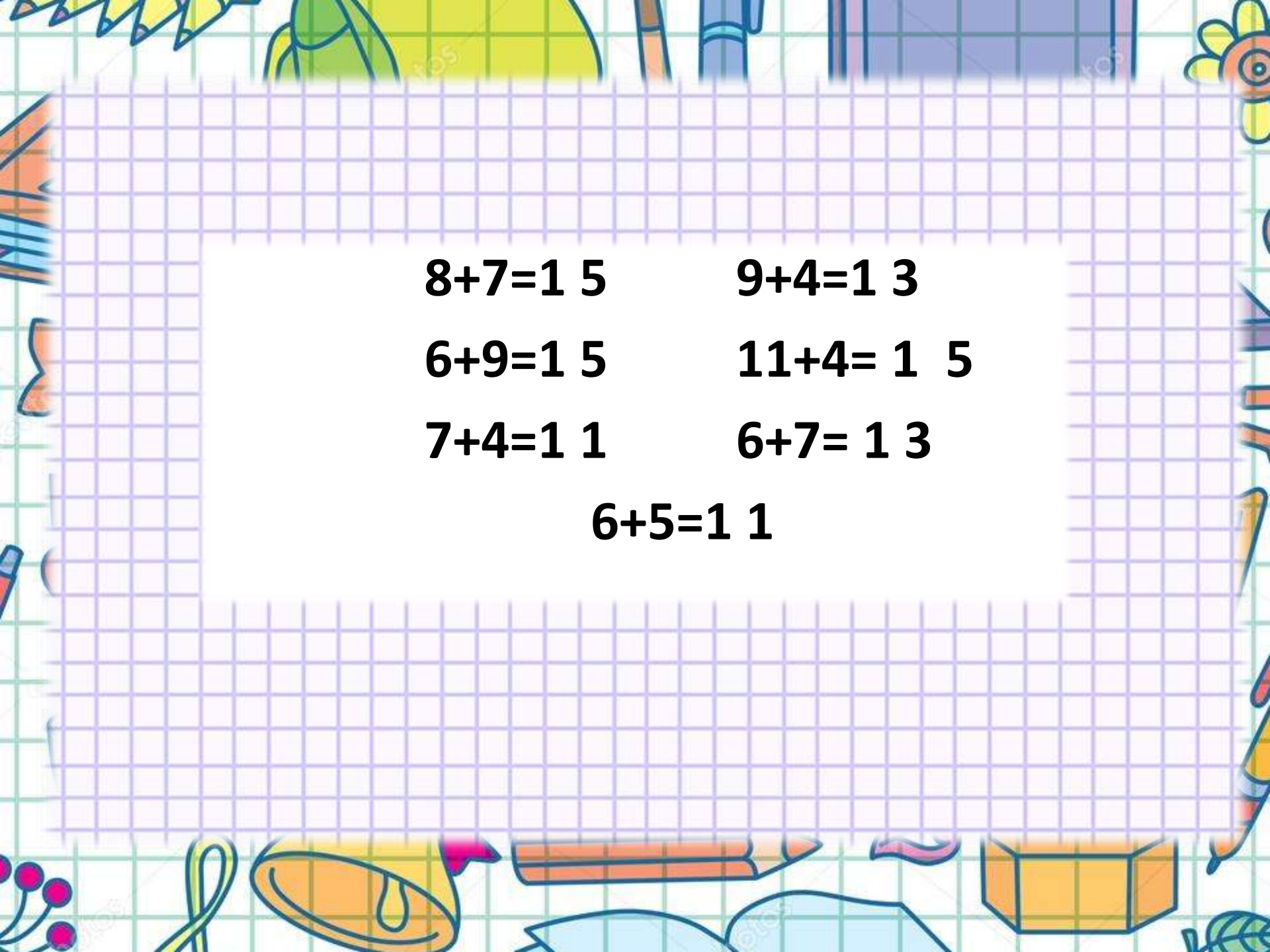
4 гр. 25, 22, 19, 16, 13.....





Вставить такие выражения, чтобы  
сумма 2х чисел равнялась третьему.  
Запишите в тетрадь.

8, 11, 7, 6, 9, 13, 5, 15, 4


$$8+7=15$$

$$9+4=13$$

$$6+9=15$$

$$11+4=15$$

$$7+4=11$$

$$6+7=13$$

$$6+5=11$$

9	6	2
6	8	3
2	11	4
14		3
	5	1

8	5	7
7	4	9
9		1
2	7	
	6	8





**Миша на 4 года старше Мити.  
Сколько лет каждому, если  
вместе им 14 лет?**

**Миша на 4 года старше Мити.  
Сколько лет каждому, если  
вместе им 14 лет?**

**5 и 9 лет**



**Сколько минут составляет  
полтора часа?**



**Сколько минут составляет  
полтора часа? Полтора часа -  
это час и половина часа.**

**90 минут**





**Сколько раз при записи чисел от  
0 до 20 встречается цифра 3?**



**Сколько раз при записи чисел от  
0 до 20 встречается цифра 3?**

**2 раза**

**3 и 13**

**Сколько раз при записи чисел от  
0 до 20 встречается цифра 5?**



**Сколько раз при записи чисел от  
0 до 20 встречается цифра 5?**

**2 раза**

**5 и 15**



**Решите задачу:**

В вазе 4 яблока и 3 груши.  
СКОЛЬКО СЛИВ В ВАЗЕ?



Условие  
Вопрос  
Решение  
Ответ



$$4 + 3$$

$$4 - 3$$



# **Тема урока:** **« Решение задач »**





# Памятка

Составь план решения задачи.

Запиши решение задачи.

Прочитай главный вопрос задачи.

Внимательно прочитай задачу.

Определи, что известно в задаче, и что  
неизвестно

# Цели урока:

- Учиться решать задачи на нахождение суммы, в которых требуется по двум данным числам найти третье.
- Совершенствовать вычислительные навыки, умение сравнивать.
- Развивать логическое мышление.
- Воспитывать и развивать стремление к знаниям.

# Станция «Отдыхай»





В вазе 4 яблока и 3 груши, а слив  
столько, сколько яблок и груш  
вместе. Сколько слив в вазе?

В вазе 4 яблока и 3 груши, а слив  
столько, сколько яблок и груш  
вместе. Сколько слив в вазе?









В вазе 4 яблока и 3 груши, а слив  
столько, сколько яблок и груш  
вместе. Сколько слив в вазе?



В вазе 4 яблока и 3 груши, а слив  
столько, сколько яблок и груш  
вместе. Сколько слив в вазе?



Яблоки – 4 шт.

Яблоки – 4 шт.

Груши – 3 шт.

Яблоки – 4 шт.  
Груши – 3 шт. } ? СЛИВЫ

$$4 + 3 = 7 \text{ (с.)}$$

Ответ: 7 слив в вазе.



# *Работа по учебнику*



Страница 63 № 1

П. – 6 шт.

П. — 6 шт.

Ог. — 5 шт.



П. — 6 шт.  
Ог. — 5 шт.

?Ред.

$$5 + 6 = 11 \text{ (шт.)}$$



$$5 + 6 = 11 \text{ (шт.)}$$

Ответ: 11 редисок  
пошло на салат.

Страница 63 № 2

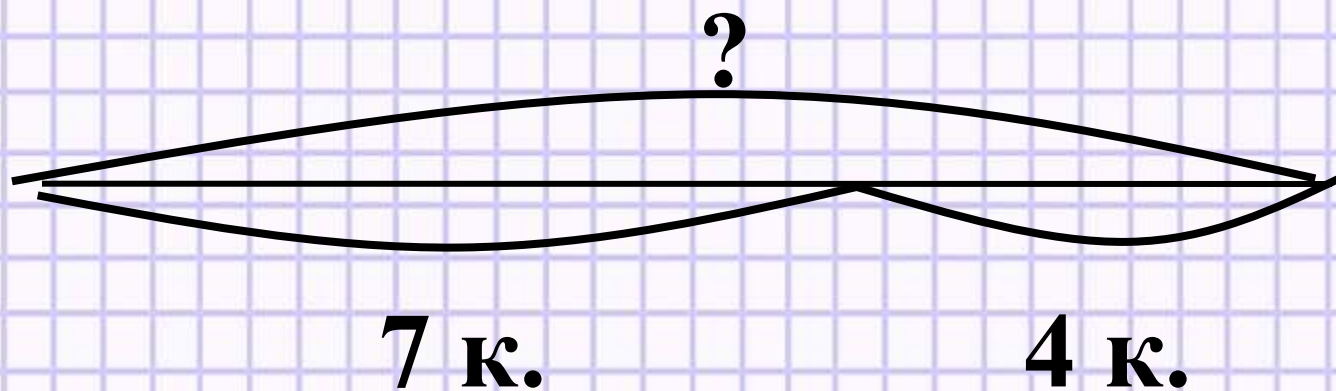
Кр. — 7 к.

Кр. — 7 к.

Гол. — 4 к.

Кр. — 7 к.  
Гол. — 4 к. } Зел.







$$7 + 4 = 11 \text{ (κ.)}$$

$$7 + 4 = 11 \text{ (к.)}$$

Ответ: 11 зелёных  
квадратов.

1 гр.

Мама купила 7 ручек,  
5 карандашей, а линеек  
столько, сколько ручек  
и карандашей вместе.  
Сколько линеек купила  
мама?

2 гр.

Лена нарисовала 8  
флажков, 4 квадратики, а  
цветочков столько,  
сколько флажков и  
квадратиков вместе.  
Сколько цветочков  
нарисовала Лена?

3 гр.

Катя повесила на ёлку  
5 шаров, 9 шишек, а  
снежинок столько,  
сколько шаров и шишек  
вместе. Сколько  
снежинок Катя  
повесила на ёлку?

4 гр.

В зоопарке было 3 енота,  
7 барсуков, а попугаев  
столько, сколько енотов  
и барсуков вместе.

Сколько попугаев было в  
зоопарке?



Страница 63 № 5



## *Работа в парах.*



*Работая, будьте взаимовежливы!*

$$9 + 6 = 6 + 9$$

$$8 + 7 = 9 + 6$$

$$12 - 7 < 12 - 5$$

$$14 - 8 > 11 - 8$$

$$9^{15} + 6 = 6^{15} + 9$$

$$8^{15} + 7 = 9^{15} + 6$$

$$12^5 - 7 < 12^7 - 5$$

$$14^6 - 8 > 11^3 - 8$$

# Самостоятельная работа.

$$63+4$$

$$45+20$$

$$57+2$$

$$78-4$$

$$50-20$$

$$90-10$$

67, 59, 30, 65, 74, 80;



# Рефлексия.

Сегодня на уроке я  
узнал, открыл для себя...  
научился, смог...  
могу похвалить себя и  
своих одноклассников за  
...



Домашнее задание:

Учебник: страница 63 № 4.