

# Электронное мультимедийное дидактическое пособие для работы с детьми подготовительной группы на тему «Путешествие девочки Маши»

Подготовила: воспитатель

Джанарсланова Ю.Б.

МДОАУ д/с «Солнышко» г.Пыть-Ях





Здравствуйте дорогие друзья, я хочу пригласить вас в математическое путешествие, где нас ждут интересные задания. Вы должны будете показать свои знания, умения и сообразительность.

Маша





1 2 3 4 5

6 7 8 9 10







# Сколько ёлочек на опушке?









# собрать грибы



$$3 + 3 =$$



$$2 + 7 =$$



$$4 + 1 =$$



$$5 + 4 =$$



$$3 + 7 =$$



$$1 + 8 =$$



$$2 + 6 =$$



$$3 + 6 =$$



$$2 + 2 =$$



$$2 + 1 =$$



$$8 + 1 =$$





# собрать грибы



$$3 + 3 =$$



$$4 + 1 =$$



$$5 + 4 =$$



$$3 + 7 =$$



$$1 + 8 =$$



$$2 + 6 =$$



$$3 + 6 =$$



$$2 + 2 =$$



$$2 + 1 =$$



$$8 + 1 =$$



9



# собрать грибы



$$3 + 3 =$$



$$4 + 1 =$$



$$3 + 7 =$$



$$1 + 8 =$$



$$2 + 6 =$$



$$3 + 6 =$$



$$2 + 2 =$$



$$2 + 1 =$$



$$8 + 1 =$$



9



# собрать грибы



$$3 + 3 =$$



$$4 + 1 =$$



$$3 + 7 =$$



$$2 + 6 =$$



$$3 + 6 =$$



$$2 + 2 =$$



$$2 + 1 =$$



$$8 + 1 =$$



9



# собрать грибы



$$3 + 3 =$$



$$4 + 1 =$$



$$3 + 7 =$$



$$2 + 6 =$$



$$2 + 2 =$$



$$2 + 1 =$$



9



$$8 + 1 =$$



# собрать грибы



$$3 + 3 =$$



$$4 + 1 =$$



$$3 + 7 =$$



$$2 + 6 =$$



$$2 + 2 =$$



$$2 + 1 =$$



9



# Сколько ромашек ?





8





# Помоги лисенку поймать рыбу



$$9 - 2$$



$$1 + 7$$




$$3 + 4$$



$$8 - 1$$



$$3 + 3$$



$$6 + 1$$



$$3 - 1$$





$$1 + 7$$




$$3 + 4$$



$$8 - 1$$



$$3 + 3$$



$$6 + 1$$



$$3 - 1$$





7




$1 + 7$



$8 - 1$



$3 + 3$



$6 + 1$



$3 - 1$






$$1 + 7$$



$$3 + 3$$



$$6 + 1$$



$$3 - 1$$





$$1 + 7$$



$$3 + 3$$



$$3 - 1$$




Расставь яблони от большей к  
меньшей











$$1 + 3$$

$$2 - 1$$

$$3 + 3$$

$$7 - 1$$

$$4 - 3$$

$$6 - 2$$


$$8 - 2$$

$$9 - 3$$

$$5 + 1$$

6





$$2 - 1$$

$$3 + 3$$

$$7 - 1$$

$$4 - 3$$

$$6 - 2$$

$$8 - 2$$


$$9 - 3$$

$$5 + 1$$

$$1 + 3$$

6





$$3 + 3$$

$$7 - 1$$

$$4 - 3$$

$$6 - 2$$

$$8 - 2$$

$$9 - 3$$


$$5 + 1$$

$$1 + 3$$

$$2 - 1$$

6





$$7 - 1$$

$$4 - 3$$

$$6 - 2$$

$$8 - 2$$

$$9 - 3$$

$$5 + 1$$


$$3 + 3$$

$$1 + 3$$

$$2 - 1$$

6





$$7 - 1$$

$$6 - 2$$

$$8 - 2$$

$$9 - 3$$

$$5 + 1$$

$$1 + 3$$


$$2 - 1$$

$$4 - 3$$

$$3 + 3$$

6





$$7 - 1$$

$$6 - 2$$

$$8 - 2$$

$$9 - 3$$

$$1 + 3$$

$$2 - 1$$


$$4 - 3$$

$$3 + 3$$

$$5 + 1$$

6





$$7 - 1$$

$$8 - 2$$

$$9 - 3$$

$$1 + 3$$

$$2 - 1$$

$$4 - 3$$


$$6 - 2$$

$$3 + 3$$

$$5 + 1$$

6





$$8 - 2$$

$$9 - 3$$

$$3 + 3$$

$$5 + 1$$

$$1 + 3$$


$$2 - 1$$

$$4 - 3$$

$$6 - 2$$

$$7 - 1$$

6



$9 - 3$

$1 + 3$

$2 - 1$

$4 - 3$

$6 - 2$

$7 - 1$


$3 + 3$

$5 + 1$

$8 - 2$

6





$1 + 3$

$2 - 1$

$4 - 3$

$6 - 2$

$7 - 1$

$3 + 3$

$5 + 1$

$8 - 1$

$9 - 3$

6

Сколько щенят остались без  
миски ?







$> = <$

4  3



= <

4 > 3





Молодцы