

Знаки "<" и ">"

стр. 44-47

Урок № 20

Подготовила учитель начальных классов
Рыбьякова Ирина Анатольевна
МБОУ СОШ п.Зеленоборск Советский район



Школа России
Математика 1 класс






Сказка "Колобок"







3

1

2

3

4

2

1

5

3

2

4

1


4

1

3

2

5




3

2

4

1

5




1

3

2

4

Физкультминутка



На зарядку солнышко поднимает нас,
Поднимаем руки мы по команде раз,
А над нами весело шелестит листва,
Опускаем руки мы по команде два.
Соберём в корзинку ягоды, грибы –
Дружно наклоняемся по команде три.
На четыре и на пять
Будем дружно мы скакать.
Ну, а по команде шесть
Всем за парты тихо сесть!




3




2

Больше



Меньше



Равно







$$3 > 2$$



2 < 3



$$3 = 3$$





$$2=2$$



- Сколько на рисунке зелёных мячей?
Сколько розовых мячей?



Каких мячей больше: зелёных или розовых?
Заполни пропуски.

Больше _____ мячей, чем _____.

Запиши это с помощью цифр и знаков $>$, $<$.

[illegible]

Каких мячей меньше: больших или маленьких?

Меньше _____ мячей, чем _____.

Запиши это с помощью цифр и знаков $>$, $<$.

[illegible]



Узнаем, какими знаками в математике обозначают слова: *больше, меньше, равно*.
Будем учиться использовать эти знаки в записях.



$$3 > 2$$

$$2 < 3$$

$$5 > 4$$

$$4 < 5$$

$$5 = 5$$




$$3 + 1 = 4$$

$$4 > 3$$




$$4 - 1 = 3$$

$$3 < 4$$



$$\square + \square = \square$$


$$\square > \square$$



$$\square - \square = \square$$

$$\square < \square$$

Рассмотри рисунок и определи, можно ли из всех этих отдельных колец собрать обе пирамидки.




$$3 + 1 = 4$$

$$4 > 3$$




$$4 - 1 = 3$$

$$3 < 4$$



$$\square + \square = \square$$


$$\square > \square$$



$$\square - \square = \square$$

$$\square < \square$$

Рассмотри рисунок и определи, можно ли из всех этих отдельных колец собрать обе пирамидки.



Рефлексия

- Скажите, что вы для себя узнали нового?
- О чем должны помнить, когда ставим знаки сравнения?





ped-kopilka.ru

