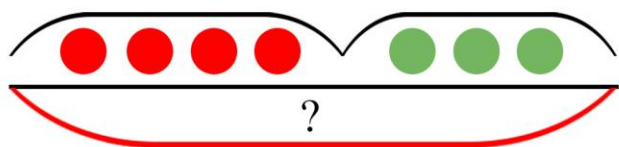
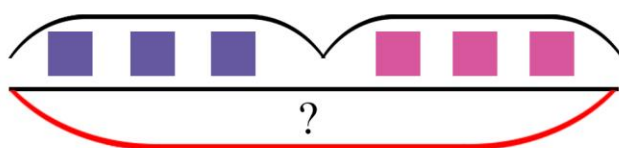


Визуализированные задачи. Адаптированный тренажер.

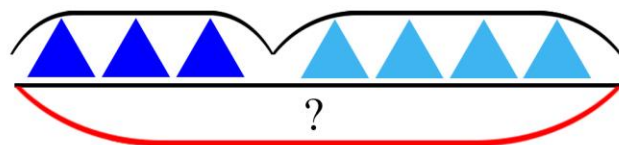
Было 4 красных круга.
Прибавили еще 3 зеленых круга.
Сколько всего кругов стало?



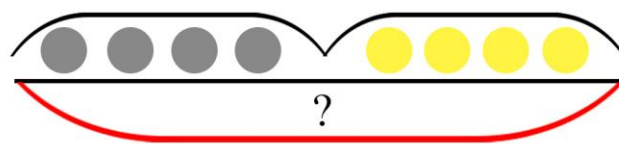
К 3-м фиолетовым квадратам
прибавили еще 3. Сколько
квадратов стало?



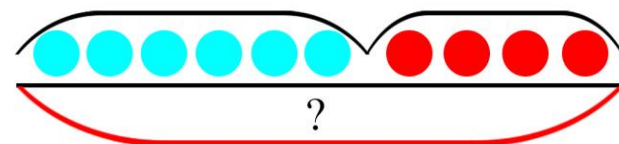
Было 3 синих треугольника.
Прибавили еще 4 голубых.
Сколько всего треугольников?



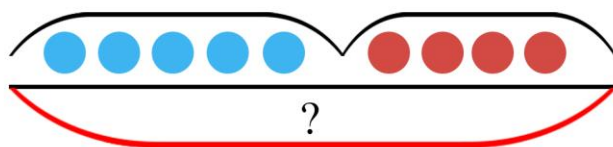
К четырем серым кружкам
прибавили 4 желтых.
Сколько всего стало кругов?



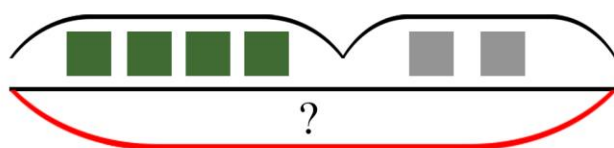
Было 6 голубых кругов.
Прибавили еще 4 красных.
Сколько всего стало кругов?



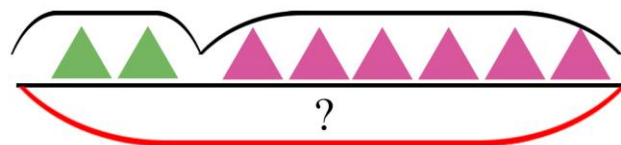
Нарисовали 5 голубых кругов.
К ним прибавили еще 4.
Сколько всего кругов стало?



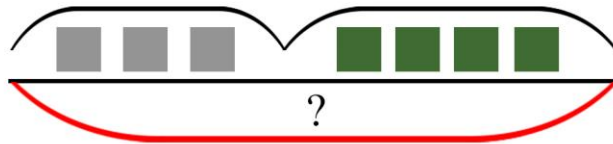
Было нарисовано 4 зеленых
квадрата. Прибавили еще 2
серых. Сколько всего стало?



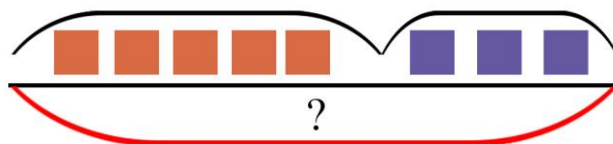
К 2-м зеленым треугольникам
прибавили 6 розовых. Сколько
всего треугольников стало?



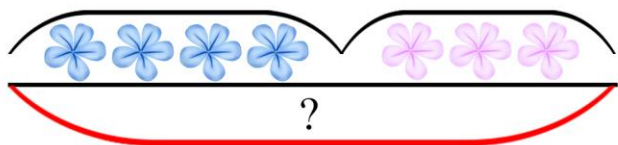
К трем серым квадратам
добавили 4 зеленых.
Сколько всего стало квадратов?



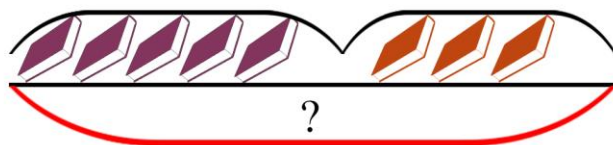
К пяти оранжевым квадратам
прибавили 3 фиолетовых.
Сколько всего стало квадратов?



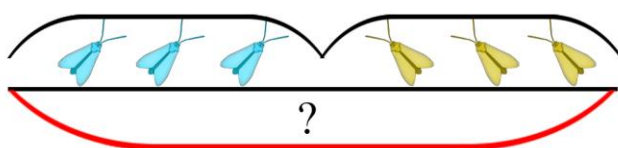
Лежало 4 голубых цветка.
Добавили еще 3 розовых цветка.
Сколько всего стало цветов?



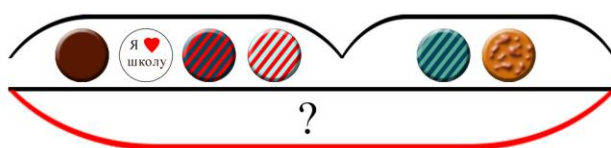
На столе лежит 5 книг.
Положили еще 3 книги.
Сколько всего стало книг?



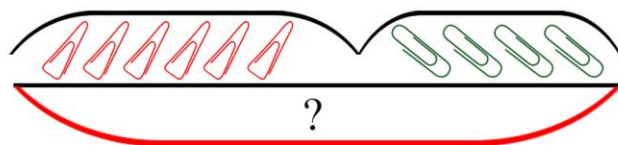
На окне 3 голубых жука.
Прилетели еще 3 желтых жука.
Сколько всего стало жуков?



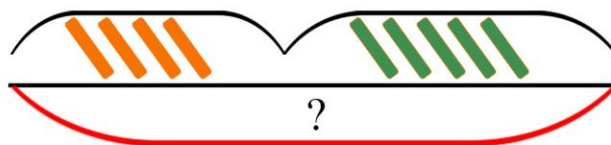
На столе лежали 4 значка.
Положили еще 2.
Сколько всего значков стало?



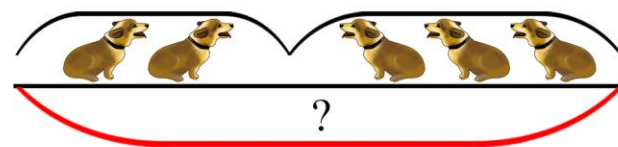
В коробке 6 красных скрепок
и 4 зеленых скрепки.
Сколько всего скрепок?



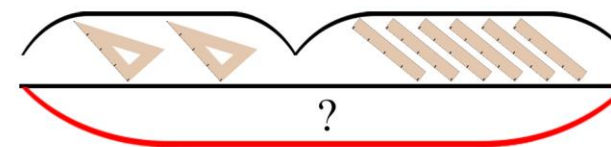
Для примера взяли 4 зеленых
счетных палочки и 2 оранжевых.
Сколько всего палочки?



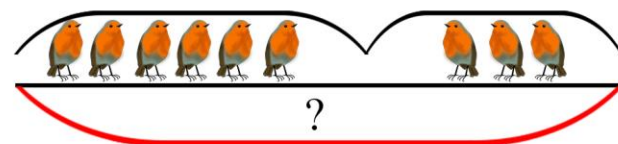
В парке бегали 2 собаки. После
прибежали еще 3.
Сколько всего собак в парке?



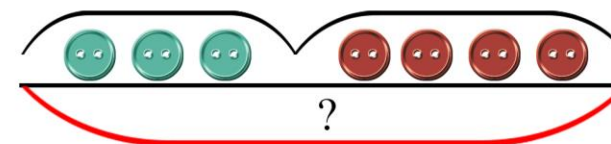
Для примера взяли 4 зеленых
счетных палочки и 2 оранжевых.
Сколько всего палочки?



В ветке сидят 6 птиц. Прилетели
еще 3 птицы. Сколько всего
птиц стало на ветке?




Пришили 3 бирюзовых
пуговицы и 4 коричневых.
Сколько всего пуговиц?



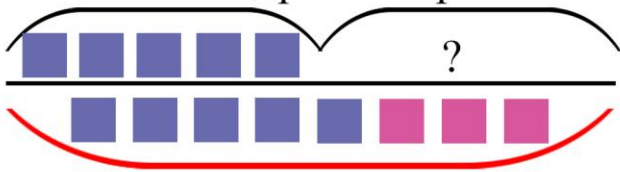
В тетради 4 круга. Нарисовали еще несколько кругов. Всего стало 8 кругов.

Сколько добавили кругов?



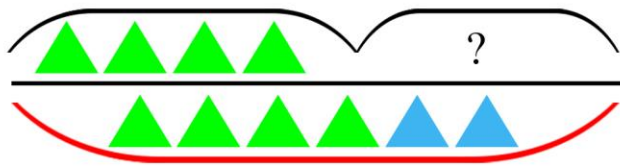
Было 5 фиолетовых квадрата. Прибавили еще несколько розовых и их стало 8.

Сколько квадратов прибавили?



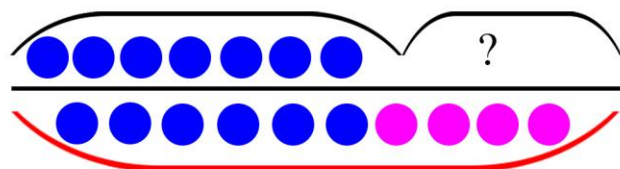
На листе нарисовано 4 зеленых треугольника и несколько голубых. Всего их 6.

Сколько голубых треугольников?



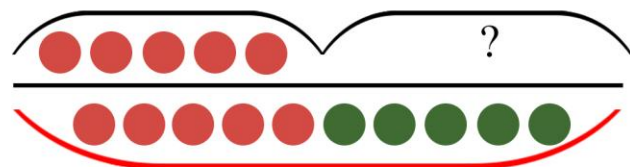
Нарисовано 7 синих кругов и несколько розовых. Всего их 10.

Сколько розовых кругов?



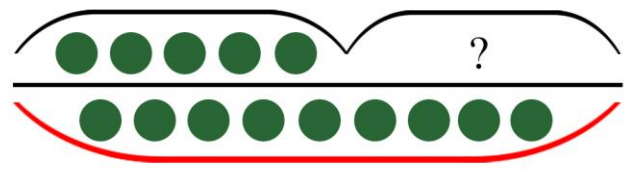
К пяти оранжевым кругам прибавили еще несколько зеленых и стало 10.

Сколько зеленых кругов?



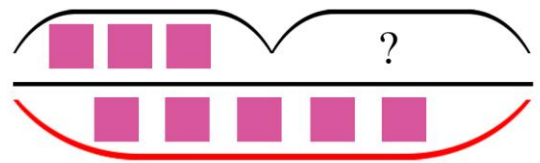
К 4-м кружкам добавили еще несколько кружков и их стало 9.

Сколько кружков добавили?



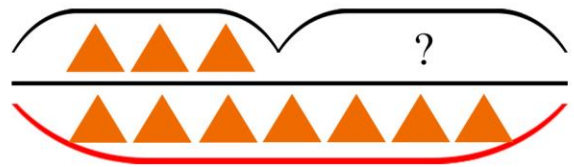
К трем квадратам прибавили еще несколько и их стало 5.

Сколько квадратов прибавили?



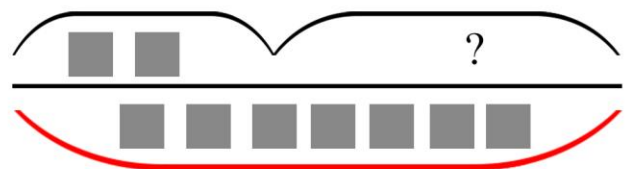
Было 3 треугольника. Прибавили еще несколько. Всего стало 7 треугольников.

Сколько треугольников прибавили?



К двум квадратам прибавили несколько. Всего их стало 7.

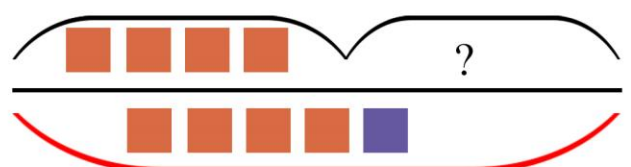
Сколько квадратов прибавили?




Нарисовано 4 оранжевых квадрата и фиолетовые.

Всего их 5. Сколько

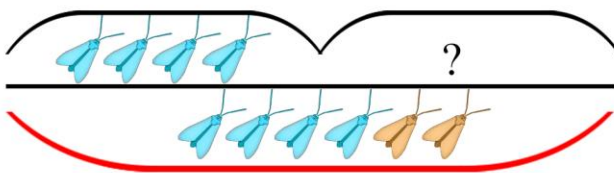
фиолетовых квадратов?



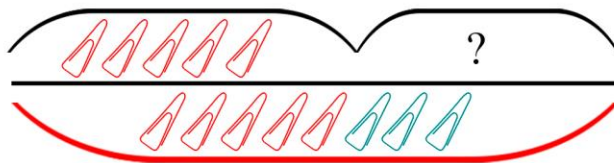
Сперва нарисовали 3 голубых цветка. Потом добавили еще несколько цветов и их стало 7. Сколько добавили цветов?



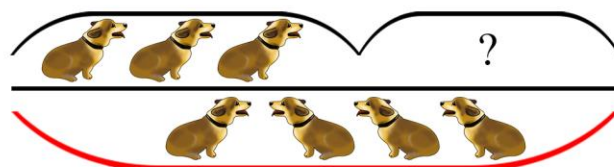
На окне было 4 бирюзовых жука и несколько рыжих. Всего их 6. Сколько рыжих жуков?



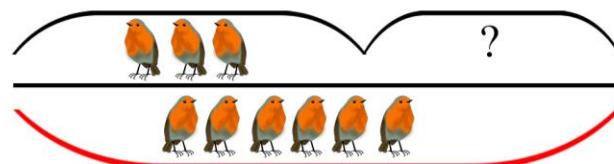
В коробке 6 красных скрепок и несколько голубых. Всего их 8. Сколько голубых скрепок?



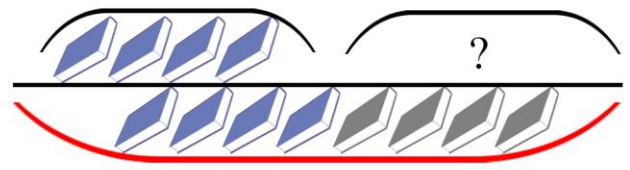
На полянке сидят 3 собаки. Когда пришли еще собаки их стало 4. Сколько собак пришли на поляну?



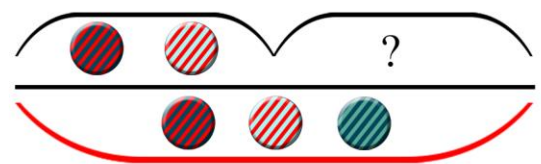
В кормушке были 3 птицы. Прилетели еще несколько и стало 6. Сколько птиц прилетело?



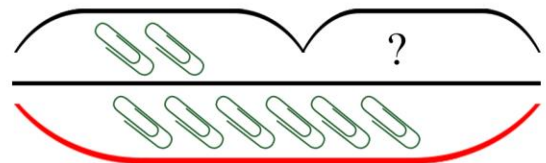
На полке стояли 4 фиолетовые книги и несколько серых. Всего их 8. Сколько серых книг?



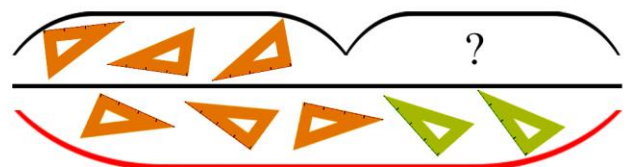
На одежду прикололи 2 значка. Когда прикололи еще значки их стало 3. Сколько значков прикололи?



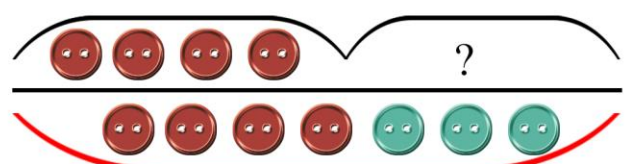
Использовали 2 скрепки. Потом еще несколько. Всего 6 скрепок. Сколько скрепок использовали потом?



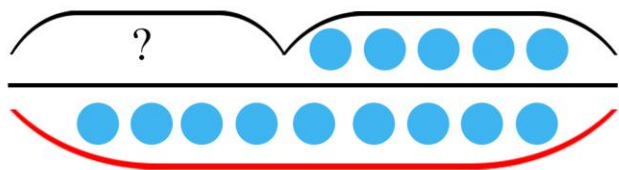
На столе лежат 3 оранжевых линейки и несколько зеленых. Всего их 5. Сколько зеленых линеек?



Купили 4 красных пуговицы и несколько бирюзовых. Всего купили 7. Сколько бирюзовых пуговиц купили?

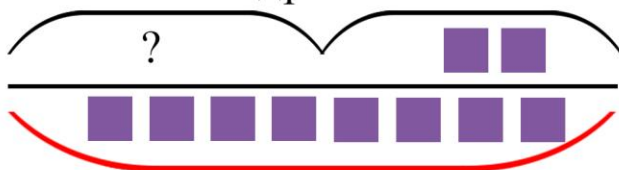


Было нарисовано несколько кругов. Нарисовали еще 5 кругов. Всего их стало 9. Сколько кругов было изначально?

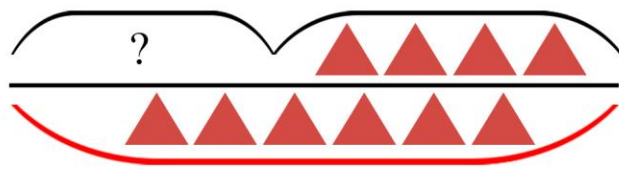


Было нарисовано несколько квадратов. Когда нарисовали еще 2, их стало 8.

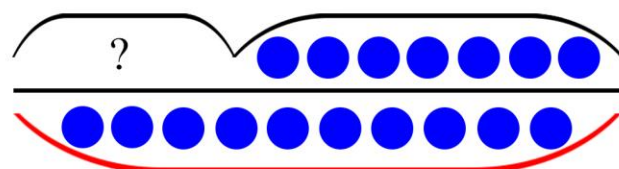
Сколько квадратов было?



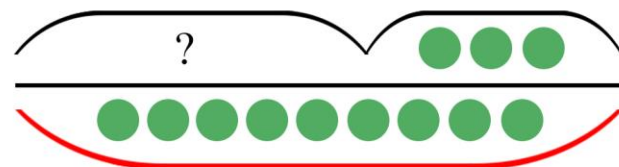
На листе были треугольники. Когда нарисовали еще 4, их стало 6. Сколько треугольников было изначально?



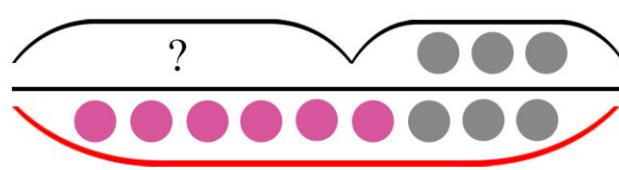
К кругам на листе прибавили еще 7 кругов. Их стало 10. Сколько кругов было изначально?



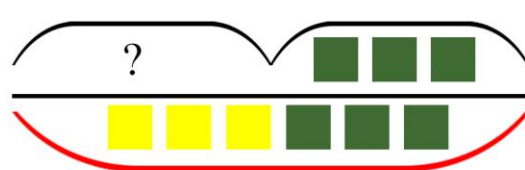
К кружкам прибавили еще 3 кружка, после чего их стало 9. Сколько кружков было изначально?



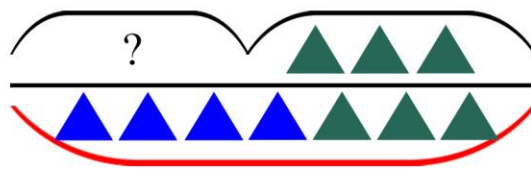
Были нарисованы розовые круги. Когда нарисовали еще 3 серых, их стало 9. Сколько было серых кругов нарисовано?



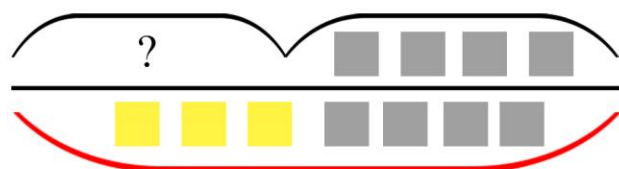
К желтым квадратам прибавили еще 3 зеленых и их стало 6. Сколько желтых квадратов?



К трем синим треугольникам прибавили 3 зеленых. Всего треугольников было 7. Сколько было синих треугольников?

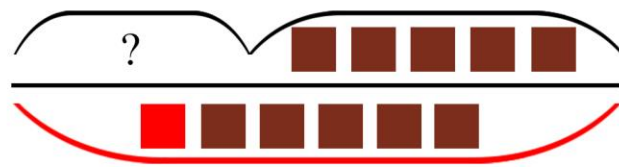


К желтым квадратам прибавили 4 серых квадрата. После чего их стало 7. Сколько было желтых квадратов?




Были нарисованы квадраты. Из них красные и 5 коричневых. Всего их 6.

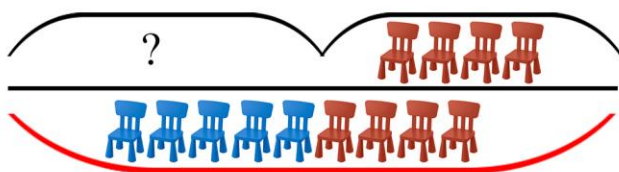
Сколько красных квадратов?



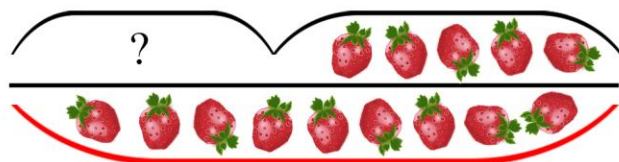
В вазе стояли несколько цветов. Потом поставили еще 4 цветка и стало 6. Сколько цветов было в вазе изначально?



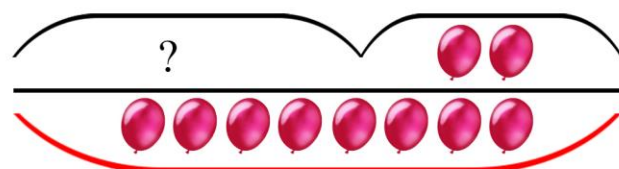
В комнате стояли стулья. Когда к ним поставили еще 4, их стало 9. Сколько стульев было?



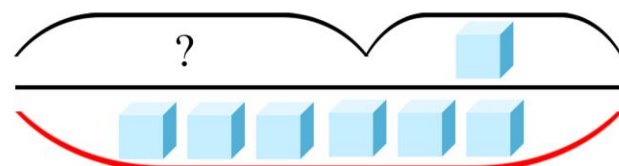
В ящике было несколько ягод клубники. Добавили еще 5 и их стало 9. Сколько ягод лежало в ящике?



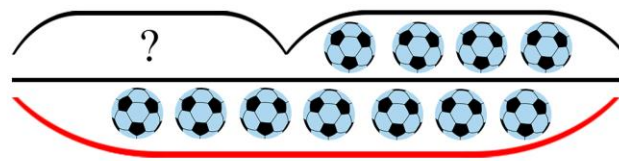
Вале надули несколько шариков. Лене надули 2 шарика. Вместе у них стало 8. Сколько шаров у Вали?



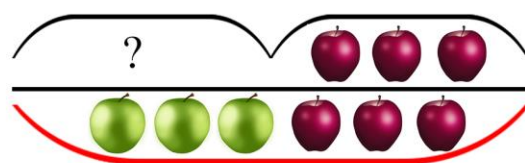
На столе лежали кубики. К ним добавили еще 1 и стало 6. Сколько кубиков было?



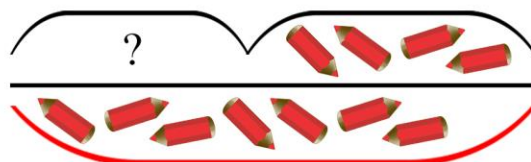
В тренерской лежало несколько мячей. Когда положили еще 4, их стало 7. Сколько мячей было в тренерской?



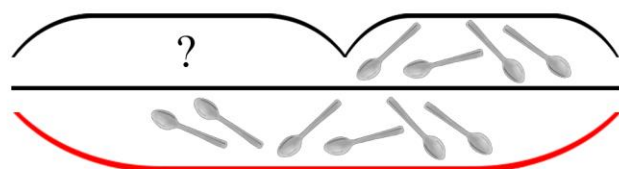
В вазе лежало яблоки. К ним положили еще 3 и стало 6 яблок. Сколько яблок было в вазе изначально?



В стакане были карандаши. К ним добавили еще 4 и стало 7. Сколько карандашей стояло в стакане изначально?



На столе лежали ложки. Когда положили еще 4 ложки, их стало 6. Сколько ложек было на столе?



Ваня съел несколько ягод малины. Лена съела остальные 3. Всего они съели 7. Сколько ягод съел Ваня?

