

**Всеобщая история. 5 класс. гл.1-3.**

**1. Перед вами фотографии, иллюстрирующие деятельность разных историков. Выберите номера изображений, связанных с работой археологов.**



**Варианты:**

1) 1, 3, 4

2) 2, 3, 4

3) 2, 5, 6

4) 3, 4, 5

5) 1, 3, 5

**Ответ:** \_\_\_\_\_.

*Максимум за задание – 3 балла.*

**2. Расставьте годы и века в верной хронологической последовательности.**

А) I век до н. э.

Б) 232 год до Р. Х.

В) 1325 год н. э.


Г) XIII век

**Ответ:**

1	2	3	4

Максимум за задание – 4 балла.

**3. Рассмотрите предложенные изображения и выполните задания.**



**3.1.** Заполните пропуск в предложении: «Изображения отражают разные этапы процесса биологической \_\_\_\_\_ человека».

**Ответ:** \_\_\_\_\_.

Максимум – 2 балла.

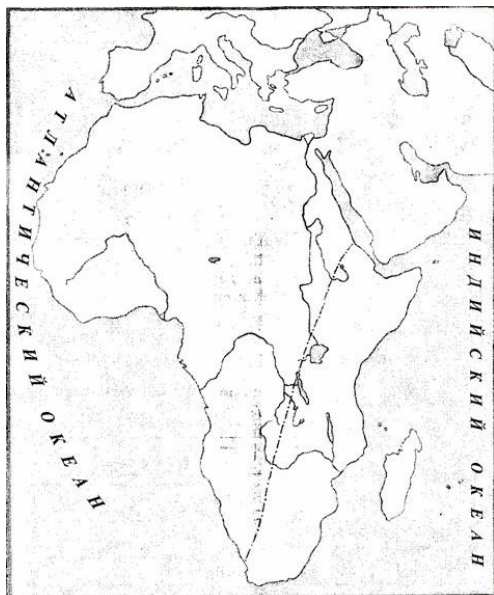
**3.2.** Расставьте эти изображения в верной хронологической последовательности данного процесса.

**Ответ:** \_\_\_\_\_.

Максимум – 5 баллов.

Максимум за задание – 7 баллов.

**4. Работа с контурной картой.**



**4.1.** Надпишите название материка, на котором найдены кости и орудия труда древнейших людей.

**Ответ:** \_\_\_\_\_.

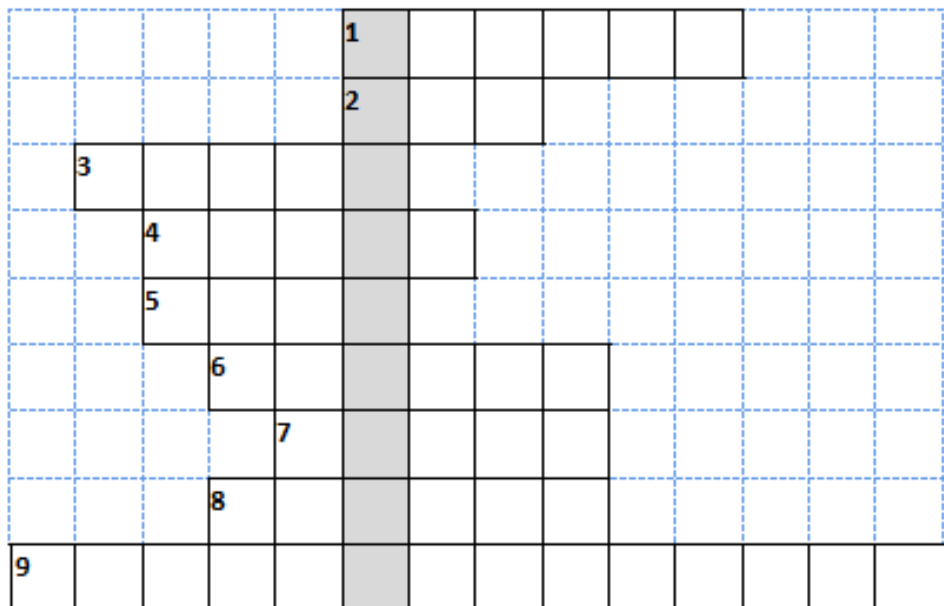
Максимум – 2 балла.

**4.2.** Закрасьте предполагаемую область прародины человека.

Максимум – 2 балла.

Максимум за задание – 4 балла.

**5.** Решите кроссворд «Первобытное общество» и укажите ключевое слово.



1. Материк, где по предположениям ученых, жили древнейшие люди.
2. Оружие охотников, которым можно поразить цель на большом расстоянии.
3. Первая сила природы, которой овладели первобытные люди.
4. Занятие первобытных людей, позволявшее добыть мясную пищу.
5. Сверхъестественное существо, в которое верили первобытные люди; обитает в каждом человеке.
6. Самое крупное из животных, на которое охотились древние люди.
7. Рогатый зверь, которого часто изображали первобытные художники.
8. Орудие, которым ловили рыбу.
9. Занятие, позволявшее добыть в основном растительную пищу.

Ключевое слово- \_\_\_\_\_

За каждое правильное слово по 1 баллу, за ключевое слово – 2 балла, за объяснение ключевого слова – 3 балла, максимально – 14 баллов.

## 5 КЛАСС/ ОТВЕТЫ

**1. Ответ:** 3.

*Максимум за задание – 3 балла.*

**2. Ответ:**

1	2	3	4
Б	А	Г	В

*Максимум за задание – 4 балла.*

**3.**

3.1. Заполните пропуск в предложении: «Изображения отражают разные этапы процесса биологической \_\_\_\_\_ человека».

**Ответ:** ЭВОЛЮЦИЯ.

*Максимум – 2 балла.*

3.2. Расставьте эти изображения в верной хронологической последовательности данного процесса.

**Ответ:** 4,5,2,1,3.

*Максимум – 5 баллов.*

*Максимум за задание – 7 баллов.*

**4.**

4.1. Надпишите название материка, на котором найдены кости и орудия труда древнейших людей.

**Ответ:** АФРИКА.

*Максимум – 2 балла.*

4.2. Закрасьте предполагаемую область прародины человека.

*Максимум – 2 балла.*

*Максимум за задание – 4 балла.*

**5.**

**Ответ:** 1-Африка, 2-лук, 3-огонь, 4-охота, 5-душа, 6-мамонт, 7-бизон, 8-гарпун, 9-собирательство.

Ключевое слово- АЛЬТАМИРА, пещера в которой была впервые найдена наскальная живопись.

*За каждое правильное слово по 1 баллу, за ключевое слово – 2 балла, за объяснение ключевого слова – 3 балла, максимально – 14 баллов.*

**ВСЕГО: 32 балла**