


$34-5$




$22+10$






$55-12$





$19-6$





$18+23$





$96:6$



$48:4$



$54:9$



$21 \cdot 3$



$12 \cdot 3$





10 M

10 M

Что бы найти площадь
прямоугольника, нужно длину
умножить на ширину

S - площадь

b - ширина

a - длина

$$S = a * b$$





10 M

10 M

ЗАДАЧА №1

Длина платочка 10 см, а его ширина 7 см. Найдите площадь данного платка.

10 см

7 см




$S=?$



ЗАДАЧА №2

У прямоугольника длина одной стороны 15 см, а ширина 4 см. Найдите площадь этого прямоугольника.



ЗАДАЧА №3

Вычислите площадь учебника, если известно, что длина равна 14 см, а его ширина 7 см.

7 см

14 см



Мир, чистота, благородство

Цвет неба, верности, правды

Отвага, мужество, героизм

ВЫЧИСЛИТЕ ПЛОЩАДЬ ФЛАЖКА





РОССИЯ

