

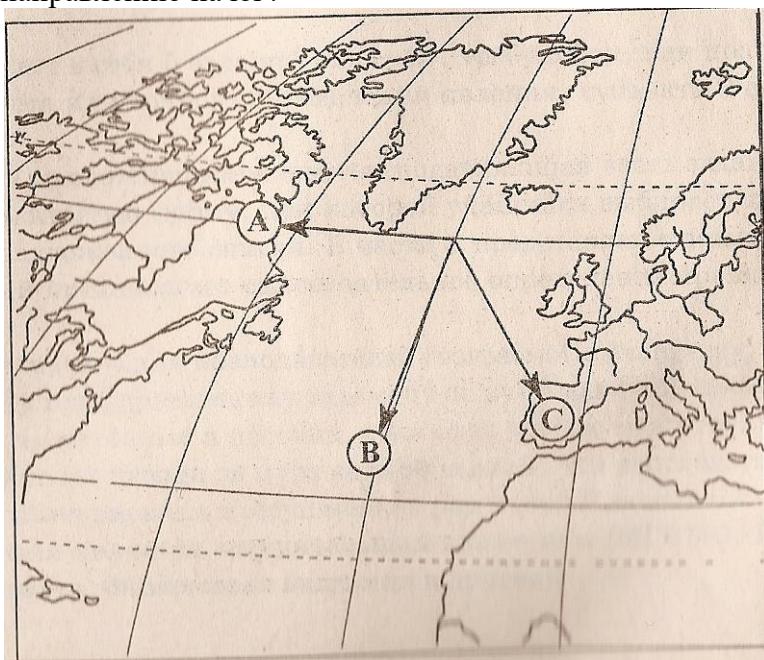
Вариант 1

Часть 1

1. Самую большую площадь бассейна имеет река:

- 1) Миссисипи
- 2) Амазонка
- 3) Янцзы

2. Какой буквой на фрагменте карты мира обозначена стрелка, соответствующая направлению на юг?



- 1) А
- 2) В
- 3) С

3. Определите, в каком городе возможны катастрофические землетрясения:

- | | | |
|-----------|----------|----------|
| 1) Сидней | 2) Токио | 3) Париж |
|-----------|----------|----------|

4. Российская кругосветная экспедиция открыла материк:

- | | | |
|--------------|-----------|---------------|
| 1) Австралию | 2) Африку | 3) Антарктиду |
|--------------|-----------|---------------|

5. Солнце бывает в зените на всех широтах между:

- 1) Северным и Южным полярными кругами
- 2) Северным и Южным тропиками
- 3) экватором и Южным тропиком

6. Сезонный ветер, меняющий направление два раза в год, называется:

- | | | |
|-----------|---------|-----------|
| 1) пассат | 2) бриз | 3) муссон |
|-----------|---------|-----------|

7. Укажите верное утверждение. К обломочным горным породам относятся:

- 1) гранит и известняк
- 2) гравий и галька

3) базальт и мрамор

8. Какое течение омывает северо-западное побережье Евразии?

1) Северо-Атлантическое 2) Куроисио 3) Муссонное

9. К какому типу природных ресурсов относятся биологические ресурсы Мирового океана?

1) неисчерпаемым
2) исчерпаемым возобновимым
3) исчерпаемым невозобновимым

10. На каком материке находятся самые высокие в мире горы?

1) Африка
2) Южная Америка
3) Евразия
4) Северная Америка

11. Влажные экваториальные леса, распространенные на Амазонской низменности в Южной Америке, называется:

1) сельва 2) скрэб 3) буш

12. С каким из перечисленных государств Россия имеет сухопутную границу?

1) Финляндия
2) Армения
3) Болгария
4) Турция

13. Какой федеральный округ российской федерации состоит из наименьшего количества субъектов федерации (шести)?

1) Дальневосточный
2) Северо-Западный
3) Уральский
4) Южный

14. Какая из геологических платформ расположена вне пределов России?

1) Восточно-Европейская
2) Таримская
3) Западно-Сибирская
4) Сибирская

15. В каком из перечисленных регионов России ведется добыча железной руды?

1) Брянская область
2) Республика Калмыкия
3) Курская область
4) Чувашская республика

16. По добыче какого из перечисленных полезных ископаемых выделяется Западная Сибирь?

1) калийные соли
2) медные руды

- 3) природный газ
- 4) бокситы

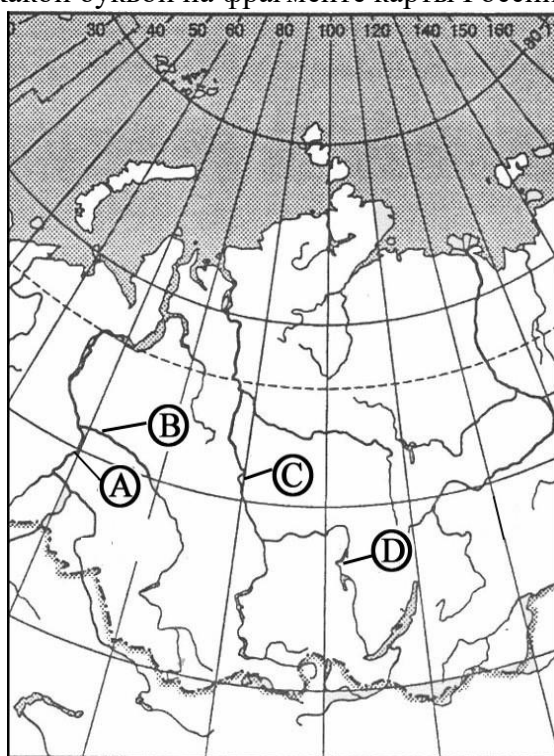
17. Для какого типа климата умеренного климатического пояса характерны самые низкие зимние температуры?

- 1) морского
- 2) умеренно континентального
- 3) резко континентального
- 4) муссонного

18. Что характерно для циклонов?

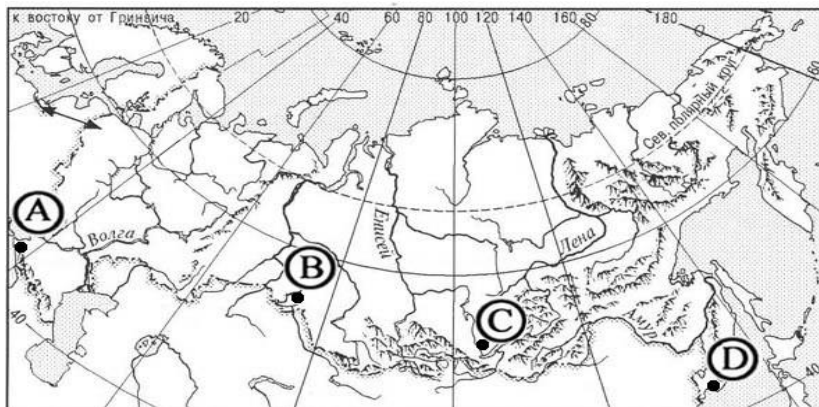
- 1) нисходящее движение воздуха
- 2) отсутствие облачности
- 3) осадки
- 4) отсутствие ветра

19. Какой буквой на фрагменте карты России обозначена река Енисей?



- А) А
- Б) В
- В) С
- Г) D

20. В каком из городов, обозначенных буквами на карте России, зима наиболее теплая?



- 1) A 2) B 3) C 4) D

Часть 2

- Определите поясное время в Барнауле, если в Магадане 22 часа. Ответ запишите цифрами.
- Расположите страны в порядке уменьшения их площади:
1) Болгария 2) Латвия 3) Мексика
Запишите в таблицу получившуюся последовательность букв.
- Установите соответствие между субъектом Российской Федерации и цифрой, которой он обозначен на фрагменте политико-административной карты.



| СУБЪЕКТ РФ | РАСПОЛОЖЕНИЕ НА КАРТЕ |
|-------------------------|-----------------------|
| А) Псковская область | 1) 1 |
| Б) Мурманская область | 2) 2 |
| В) Оренбургская область | 3) 3 |
| | 4) 4 |

Запишите в таблицу цифры, соответствующие выбранным ответам.

Часть 3

- О каких ветрах идет речь?

Их называют ветрами экваториальных периферий. Над океаном они дуют весь год, так как субтропические барические максимумы здесь постоянны, а над сушей – лишь зимой. Этим ветрам свойственно постоянное направление: северо-восточное – в Северном полушарии, юго-восточное – в Южном.

2. В этой таблице можно найти сведения о событиях геологического прошлого, получить краткую информацию о типичных организмах различных геологических эпох, увидеть время образования складчатых поясов.

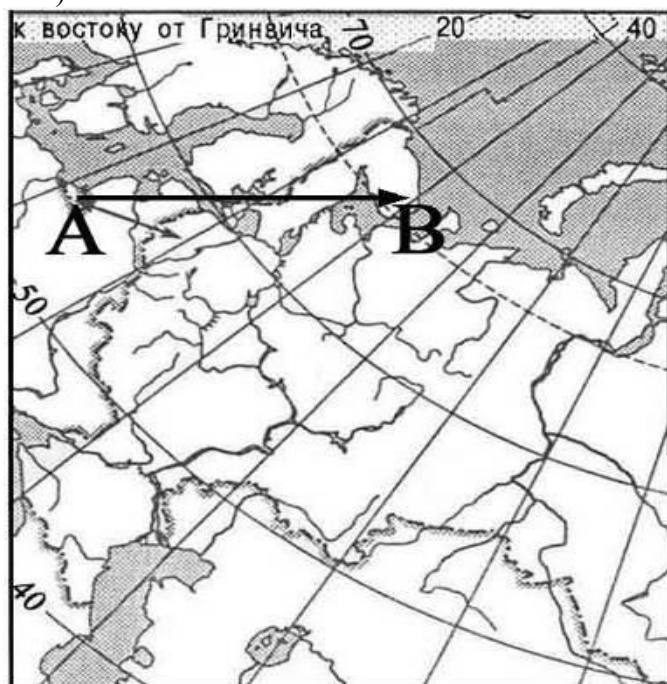
Вариант 2

Часть 1

1. Максимальная мощность земной коры составляет:
 - 1) 35 км
 - 2) 75 км
 - 3) 55 км
2. Самый широкий пролив Мирового океана назван в честь:
 - 1) Витуса Беринга
 - 2) Фрэнсиса Дрейка
 - 3) Фернана Магеллана
3. Максимальной продолжительности полярный день достигает на широте:
 - 1) 90^0
 - 2) $66,5^0$
 - 3) $23,5^0$
4. Озоновый экран в атмосфере располагается на высотах около:
 - 1) 10-12 км
 - 2) 25-25 км
 - 3) 40-42 км
5. Самая протяженная горная система мира находится на материке:
 - 1) Южная Америка
 - 2) Евразия
 - 3) Австралия
6. Какое море можно отнести к внутренним морям?
 - 1) Карибское
 - 2) Баренцево
 - 3) Балтийское
7. К какому типу природных ресурсов относятся железные руды?
 - 1) неисчерпаемым
 - 2) исчерпаемым возобновимым
 - 3) исчерпаемым невозобновимым
8. Периодически пересыхающая река в Австралии называется:
 - 1) вади
 - 2) крик
 - 3) бора
 - 4) шотты
9. С каким государством граница России проходит по реке Уссури?
 - 1) КНДР
 - 2) Китай
 - 3) Монголия
 - 4) Казахстан
10. Незамерзающий порт России:
 - 1) Тикси
 - 2) Магадан
 - 3) Мурманск
 - 4) Архангельск
11. Какое утверждение о географическом положении России является верным?
 - 1) На юго-западе Россия граничит с Украиной.
 - 2) Крайняя северная точка страны находится на полуострове Ямал.
 - 3) Площадь территории страны превышает 20 млн. кв. км.
 - 4) Россия омывается морями четырех океанов.
12. Какому направлению соответствует направление А – В на карте

Европейской части России?

- 1) север
- 2) северо-восток
- 3) восток
- 4) юго-восток



13. Какая из перечисленных территорий расположена в пределах сейсмического пояса?

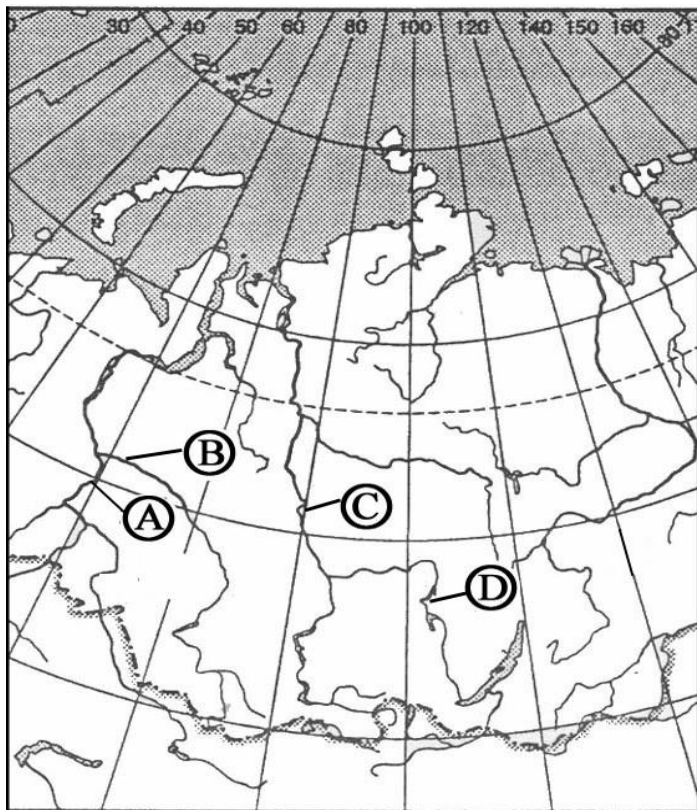
- 1) остров Сахалин
- 2) острова Новая Земля
- 3) полуостров Таймыр
- 4) полуостров Ямал

14. Для какого типа климата умеренного климатического пояса характерны самые низкие зимние температуры?

- 1) морского
- 2) умеренно континентального
- 3) резко континентального
- 4) муссонного

15. Какой буквой на фрагменте карты России обозначена река Обь?

- А) А
- Б) В
- В) С
- Г) D



16. Какие из перечисленных государств имеют сухопутную границу с Россией?

- 1) Эстония и Грузия
- 2) Швеция и Армения
- 3) Молдавия и Украина
- 4) Армения и Азербайджан

17. Характерной чертой Западно-Сибирской равнины является:

- 1) холмистый рельеф
- 2) морской климат
- 3) заболоченность
- 4) повсеместное распространение мерзлоты

18. На границе с каким из перечисленных государств расположена крайняя южная точка России?

- 1) Китай
- 2) Грузия
- 3) Азербайджан
- 4) Казахстан

19. Как называется атмосферный вихрь с пониженным давлением в центре?

- 1) антициклон
- 2) циклон
- 3) пассат
- 4) ветер

20. Какой из перечисленных факторов не является климатообразующим?

- 1) географическая широта
- 2) циркуляция воздушных масс

- 3) рельеф
- 4) состав горных пород

Часть 2

1. Определите поясное время в Комсомольске-на-Амуре, если в Омске 13 часов. Ответ запишите цифрами.

2. Расположите города в порядке увеличения в них континентальности климата.

- 1) Омск
- 2) Воронеж
- 3) Иркутск

3. Туристические фирмы разных регионов России разработали слоганы (рекламные лозунги) для привлечения туристов в свои регионы. Установите соответствие между слоганом и регионом.

СЛОГАН

- А) Соверши восхождение на высочайшую вершину России!
- Б) Перейди границу частей света!

РЕГИОН

- 1) Кабардино-Балкарская Республика
- 2) Республика Алтай
- 3) Челябинская область
- 4) Чукотский АО

Часть 3

1. О какой тематической карте идет речь?

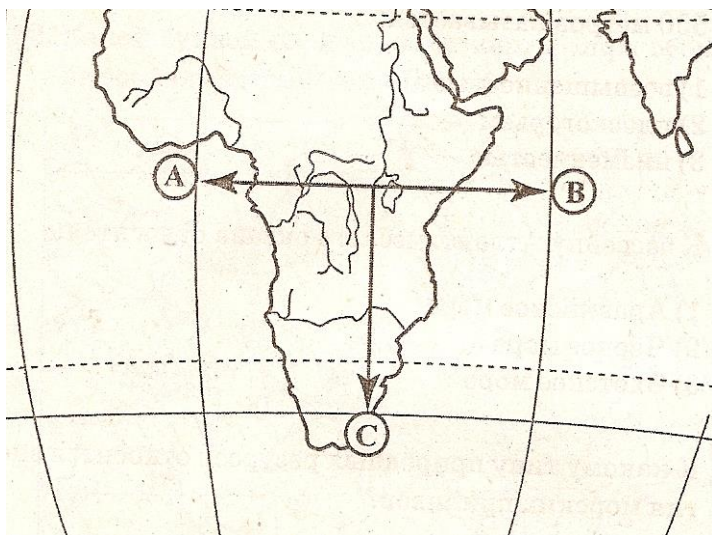
На этой карте выделены территории, формирование складчатой структуры которых завершилось в разные геологические эпохи. Древние платформы. Плиты, щиты и обрамляющие их складчатые пояса окрашены в разные цвета, а сейсмические области показаны красной штриховкой.

2. Самые плодородные почвы Земли – черноземы. Гумусовый слой в этих почвах достигает 70-90 см. С какими факторами связано образование мощного слоя гумуса в этих почвах?

Вариант 3

Часть 1

- Северный тропик Земли находится на широте:
 - 23,5° с.ш.
 - 28,5° с.ш.
 - 33,5° с.ш.
- Какой буквой на фрагменте карты мира обозначена стрелка, соответствующая направлению на восток?

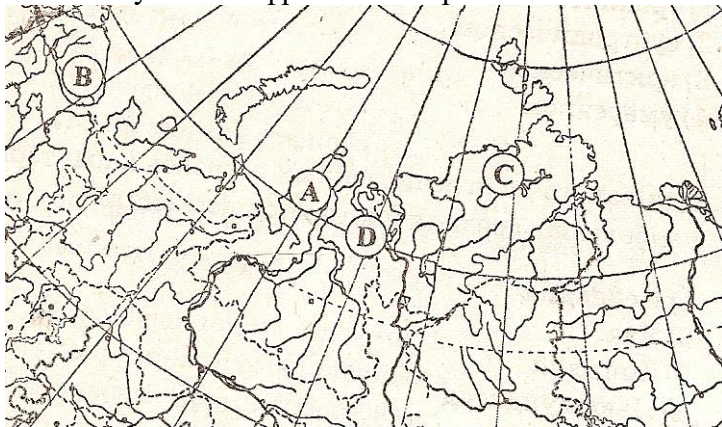


- 1) А 2) В 3) С

- Какой из полуостровов находится в субтропическом поясе:
 - Индокитай
 - Сомали
 - Пиренейский
- Из руководителей российского белого движения до революции был полярным исследователем:
 - Ф.П. Врангель
 - Л.Г. Корнилов
 - А.И. Колчак
- Линии тропиков и полярных кругов являются границами:
 - климатических поясов
 - природных зон
 - поясов освещенности
- Участок суши с абсолютными высотами от 200 до 500 метров называется:
 - возвышенностью
 - плоскогорьем
 - низменностью
- К бассейну атлантического океана относится:
 - Аравийское море
 - Черное море
 - Охотское море
- К какому типу природных ресурсов относится энергия морских приливов?
 - неисчерпаемым

- 2) истощаемым возобновимым
- 3) истощаемым невозновнимым

9. Какой буквой на фрагменте карты России показан полуостров Таймыр?



- 1) А
- 2) В
- 3) С
- 4) D

10. С каким государством граница России проходит по проливу Лаперуза?

- 1) США
- 2) Китай
- 3) Япония
- 4) Украина

11. Какая из перечисленных территорий расположена в пределах сейсмического пояса?

- 1) Кольский полуостров
- 2) Прикаспийская низменность
- 3) полуостров Камчатка
- 4) полуостров Таймыр

12. Континентальный климат умеренного пояса характерен для...

- 1) южных районов Дальнего Востока
- 2) Западной Сибири
- 3) европейской части России
- 4) Восточной Сибири

13. Что характерно для антициклонов?

- 1) нисходящее движение воздуха
- 2) отсутствие облачности
- 3) осадки
- 4) отсутствие ветра

14. Какими морями омывается территория Восточной Сибири?

- 1) Японским и Карским
- 2) Беринговым и Охотским
- 3) Восточно-Сибирским и Лаптевых
- 4) Лаптевых и Карским

15. Какие из перечисленных государств имеют сухопутную границу с Россией?

- 1) Эстония и Швеция
- 2) Швеция и Армения
- 3) Белоруссия и Украина
- 4) Армения и Азербайджан

16. Характерной чертой Восточно-Сибирского плоскогорья является:

- 1) холмистый рельеф
- 2) морской климат
- 3) заболоченность

4) повсеместное распространение мерзлоты

17. Сколько платформ известно на территории России?

- 1) одна
- 2) две
- 3) три
- 4) четыре

18. Климат какого из северных морей России является менее суровым?

- 1) Баренцево море
- 2) Чукотское море
- 3) Карское море
- 4) море Лаптевых

19. Как называется атмосферный вихрь с повышенным давлением в центре?

- 1) антициклон
- 2) циклон
- 3) пассат
- 4) ветер

20. На каком из перечисленных островов расположена крайняя восточная островная точка России?

- 1) о. Рудольфа
- 2) о. Врангеля
- 3) о. Ратманова
- 4) о. Сахалин

Часть 2

1. Определите поясное время в Норильске, если в Москве 15 часов.

Ответ запишите цифрами.

2. Расположите субъекты Российской Федерации в порядке увеличения их площади.

- 1) Республика Саха (Якутия)
- 2) Республика Коми
- 3) Республика Хакасия

Запишите в таблицу получившуюся последовательность букв.

3. Установите соответствие между республикой в составе России и ее столицей.

РЕСПУБЛИКА

СТОЛИЦА

- А) Татарстан
- Б) Карелия
- В) Дагестан

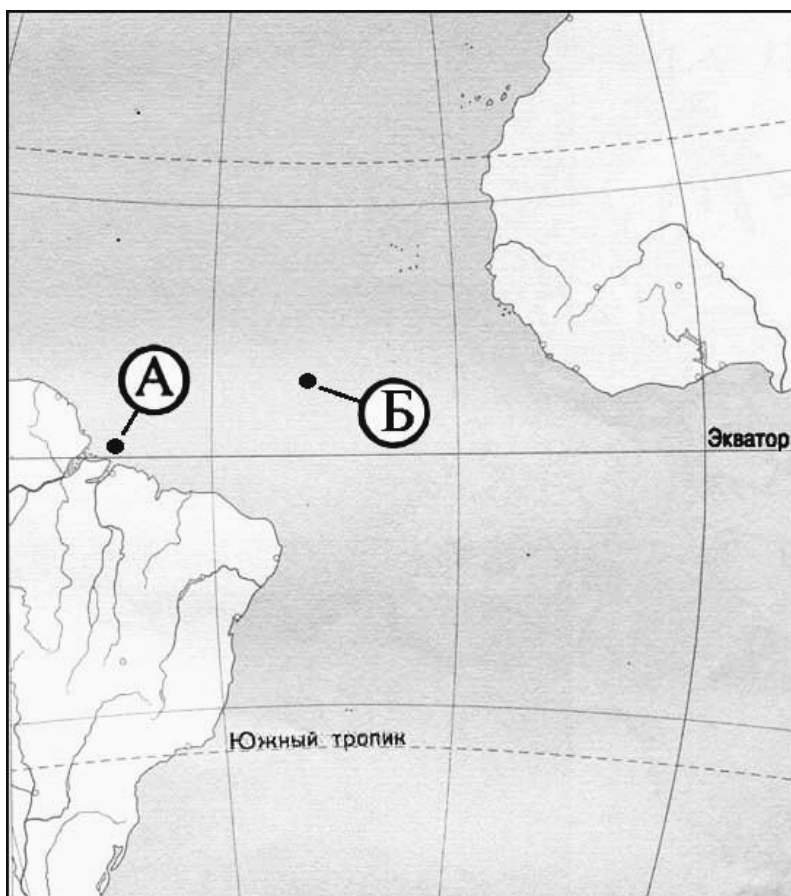
- 1) Элиста
- 2) Махачкала
- 3) Петрозаводск
- 4) Казань

Часть 3

1. О каком дне и явлении идет речь?

В этот день солнечные лучи в полдень отвесно падают на параллель $23,5^{\circ}$ южной широты. На всех параллелях южнее экватора до $66,5^{\circ}$ ю.ш. день длиннее ночи, а на всех параллелях севернее экватора до $66,5^{\circ}$ с.ш. день короче ночи.

2. Считается, что средняя соленость поверхностных вод Атлантического океана наибольшая, по сравнению с другими океанами. Однако в экваториальных широтах в точке А она существенно ниже, чем в точке Б. Объясните, с чем это связано, назовите одну причину.



Бланк для ответов

Фамилия, имя _____

Класс _____

Вариант _____

Часть 1

| Вопрос | Ответ | Вопрос | Ответ |
|--------|-------|--------|-------|
| 1 | | 11 | |
| 2 | | 12 | |
| 3 | | 13 | |
| 4 | | 14 | |
| 5 | | 15 | |
| 6 | | 16 | |
| 7 | | 17 | |
| 8 | | 18 | |
| 9 | | 19 | |
| 10 | | 20 | |

Часть 2

[illegible]

Часть 3

This image shows a single sheet of white paper with horizontal blue or grey ruling lines. The lines are evenly spaced and run across the width of the page. There are no margins, text, or other markings on the paper.