



Урок математики

$$2 * 7$$

$$3 * 5$$

$$8 * 8$$

$$9 * 2$$

$$4 * 6$$

$$65 - 40$$


$$88 - 74$$

$$40 - 22$$

$$5 + 19$$

$$100 - 36$$

13 апреля
Классная работа



Длина коробки 28 см, а
ширина – 16 см. На
сколько длина коробки
больше ее ширины?

На сколько?

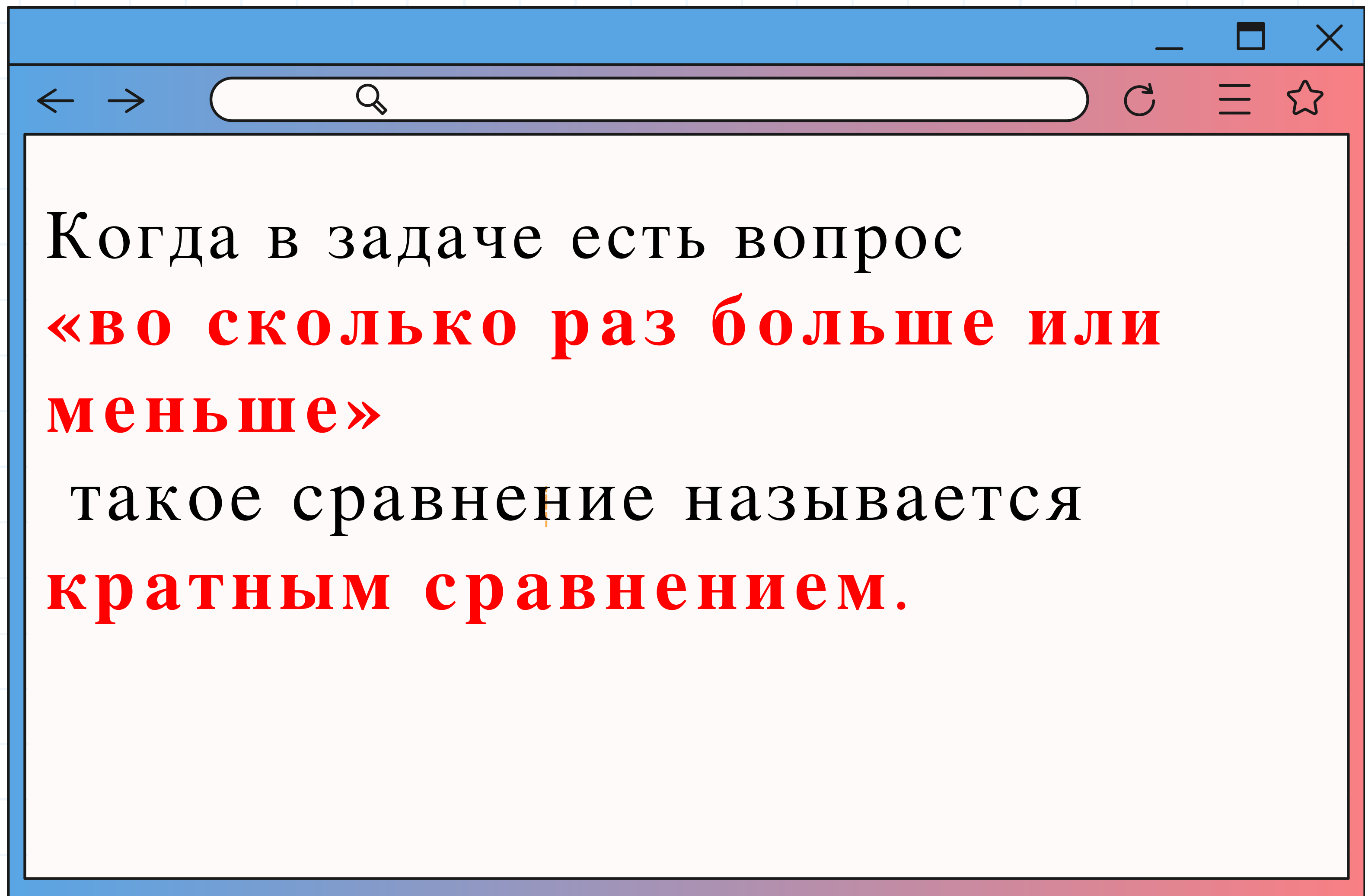


$$28 - 16 = 12 \text{ (см)}$$

Ответ: на 12 сантиметров длина
коробки больше ширины

Высота куста герани 12 дм, а петунии – 3 дм. Во сколько раз куст герани выше, чем куст петунии?

- Что нового вы видите в этой задаче?



Кратное сравнение чисел

Запомни



те

Чтобы узнать, во сколько раз одно число больше или меньше другого, надо большее число разделить на

Например: меньшее.

1 Во сколько раз 20р. больше, чем 5р.?

$$20\text{р.} : 5\text{р.} = 4 \text{ (раза)}$$

Ответ: 20р. больше 5р. в 4 раза.

2. На сколько число 1 000 больше, чем число 300?

$$20\text{р.} : 5\text{р.} = 4 \text{ (раза)}$$







Ответ: 5р. Меньше 20р. В 4 раза.

Кратное сравнение

17 УРОК

1



ВО СКОЛЬКО РАЗ БОЛЬШЕ? ВО СКОЛЬКО РАЗ МЕНЬШЕ?	НА СКОЛЬКО БОЛЬШЕ? НА СКОЛЬКО МЕНЬШЕ?
 $6 : 2 = 3$ <p>6 в 3 раза больше, чем 2 2 в 3 раза меньше, чем 6</p>	 $6 - 2 = 4$ <p>6 на 4 больше, чем 2 2 _____ 6</p>
 $10 : \square = \square$ <p>10 _____ 2 2 _____ 10</p>	 $10 - \square = \square$ <p>10 _____ 2 2 _____ 10</p>
 $\square : \square = \square$ <p>3 _____ 9 9 _____ 3</p>	 $\square - \square = \square$ <p>3 _____ 9 9 _____ 3</p>



$$10 : 2 = 5$$

10 в 5 раз больше чем 2




2 в 5 раз меньше чем 10



$$10 - 2 = 8$$

10 на 8 больше, чем 2



2 на 8 меньше, чем 10



$$\boxed{9} : \boxed{3} = \boxed{3}$$

3 на 3 м еньше, чем 9

9 на 3 больш е, чем 3



$$9 - 3 = 6$$

3наб меньше, чем 9


9наб больше, чем 3 3

- Во сколько раз 56 больше, чем 7?
- На сколько 56 больше, чем 7?
- Во сколько раз 9 меньше, чем 63?
- На сколько 9 меньше, чем 63?

В школу привезли 8 столов и 32 стула.

Во сколько раз больше привезли стульев, чем столов?

На сколько меньше привезли столов, чем стульев



$$1) 32:8=4$$

$$2) 32-8=24$$

Ответ: на 24 меньше столов
чем стульев

А) Бабушке n лет, а внучке d лет. Во сколько раз внучка младше бабушки?

б) Фотограф сделал а чёрно-белых снимков и в цветных. На сколько цветных снимков меньше, чем чёрно-белых?

в) На экскурсию поехали с
взрослых и d детей. Во сколько
раз было больше детей, чем
взрослых?

а) Площадь прямоугольного листа бумаги 16 дм^2 , а его длина 8 дм .

Во сколько раз длина этого прямоугольника больше ширины?

б) Стороны прямоугольника 6 см и 4 см.

На сколько его площадь меньше площади квадрата, у которого периметр равен периметру этого прямоугольника?

Чем различается сравнение
«на сколько больше» и «во
сколько больше»?

Составьте фразу

1. На уроке я работал

2. Своей работой на уроке

3. Урок для меня показался

4. За урок я

5. Мое настроение

6. Материал урока мне был активно / пассивно

доволен / не доволен

коротким / длинным

не устал / устал

стало лучше / стало хуже

понятен / не понятен

