

Ф.И. _____

1. Найди и исправь ошибки:

А) Произведение чисел 9 и 3 равно 47.

Б) 8 больше 72 в 9 раз.

В) 9 увеличить в 5 раз – получится 55.

Г) 63 уменьшить на 7 – получится 9.

Д) Произведение чисел 4 и 8 равно 28.

2. Составь программу действий и вычисли:

A) $(81 : 9 + 6 \cdot 7 - 24 : 4) : (72 : 8) =$



Б) $48 : 6 - 36 : 9 - 12 : (18 : 9 + 16 : 4) =$

B) $(28 + 12) : 4 \cdot (18 : 3) - (45 : 9) =$



3. Заполни схему, реши уравнение и сделай проверку:

A) $325 - x = 567$


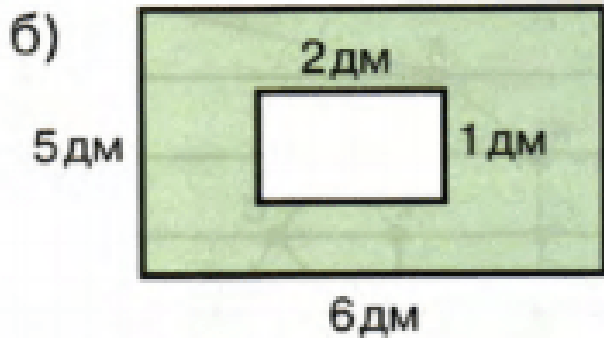

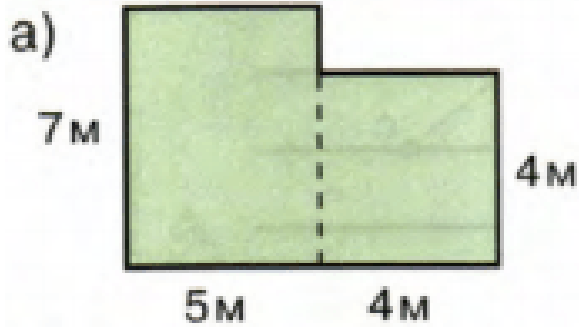
Б) $900 : x = 100$

 $x =$ $x =$ $x =$ $x =$


4. До обеда продали 8 ящиков бананов по 8 кг каждый, а после обеда – 9 таких же ящиков. Сколько килограммов бананов продали за весь день?



5. Вычисли площадь закрашенной фигуры:



6. Задумали число, увеличили его в 5 раз, уменьшили сначала на 15, а затем в 7 раз и получили 5.



7*. Длина коробки 5 дм, ширина 3 дм, а высота 2 дм. На сколько кубических дециметров её объём больше объёма куба с ребром 3 дм?

