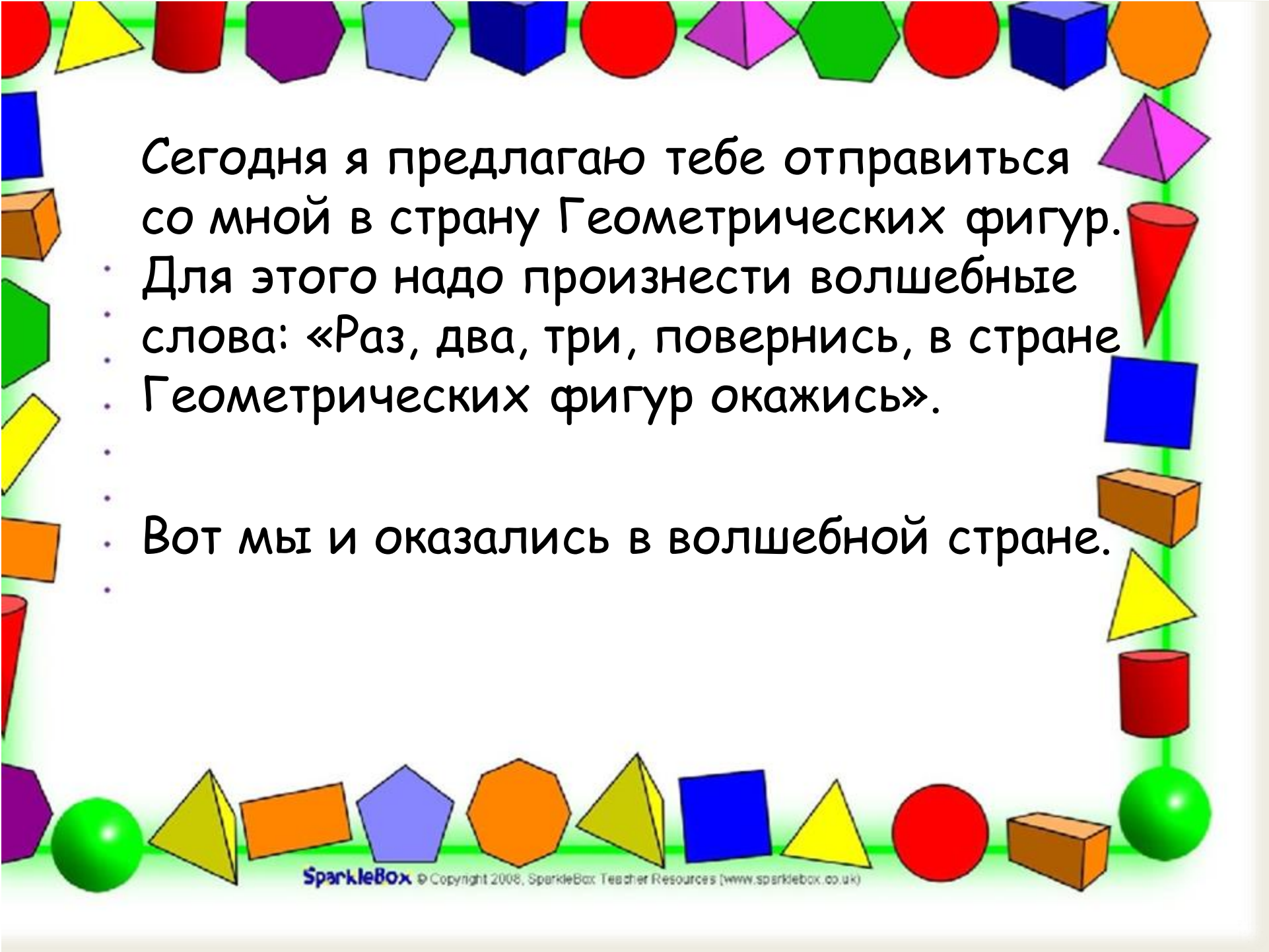


Математика

Треугольник. Пирамида.



31 группа





Сегодня я предлагаю тебе отправиться со мной в страну Геометрических фигур. Для этого надо произнести волшебные слова: «Раз, два, три, повернись, в стране Геометрических фигур окажись».


Вот мы и оказались в волшебной стране.



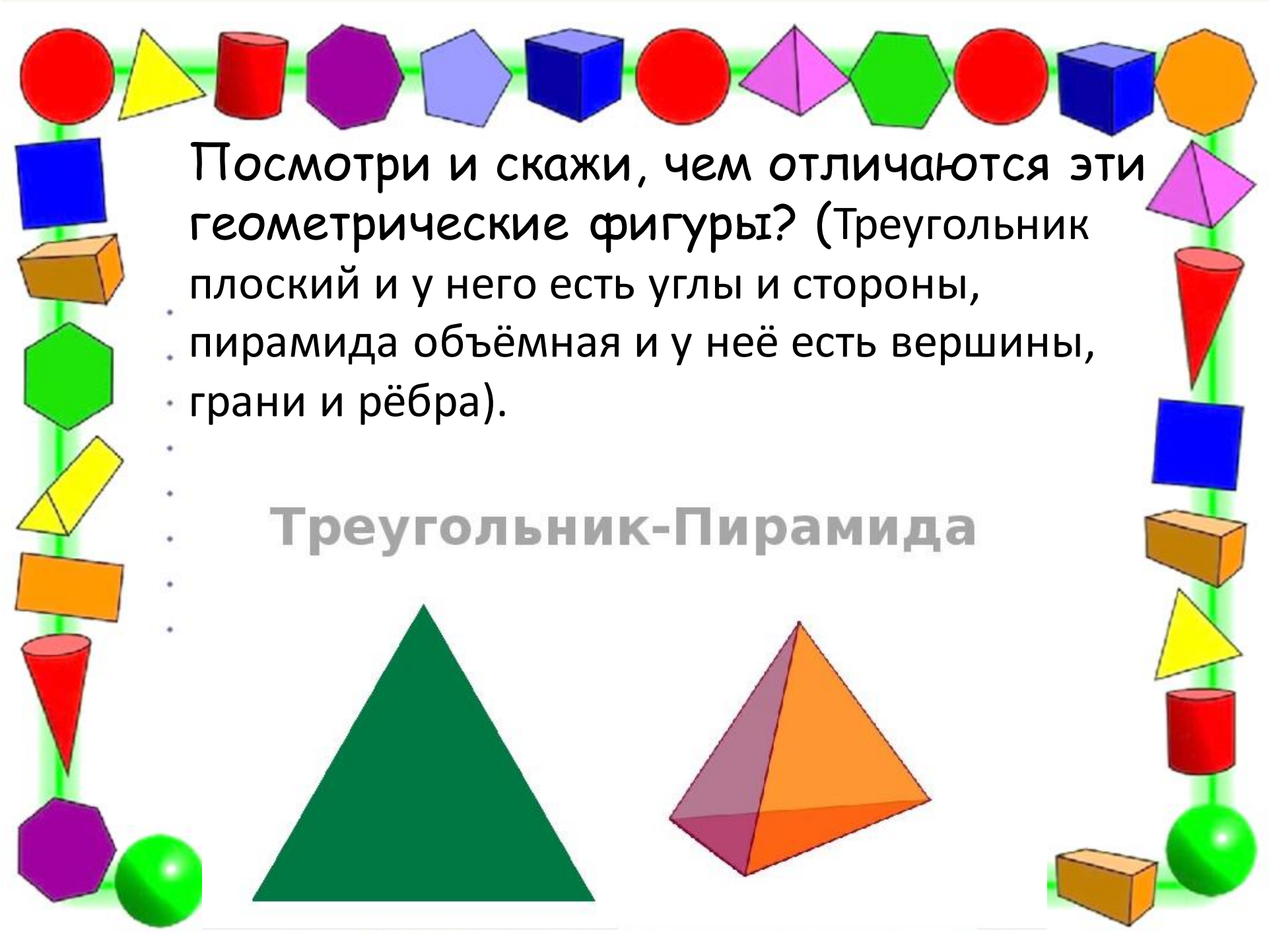
Посмотри и скажи какая это геометрическая фигура? (треугольник)

Почему она так называется? (потому что у нее 3 угла и 3 стороны)



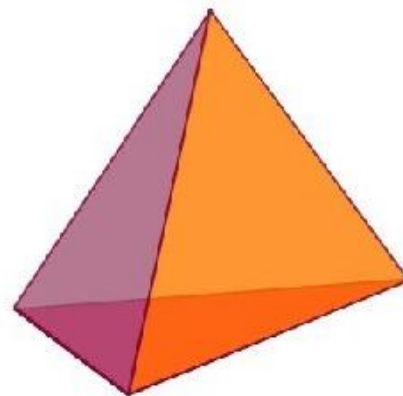



Выложи треугольник на листе бумаги.
Можно использовать карандаши,
фломастеры, нитки, шнурки и тд.



Посмотри и скажи, чем отличаются эти геометрические фигуры? (Треугольник плоский и у него есть углы и стороны, пирамида объёмная и у неё есть вершины, грани и рёбра).

Треугольник-Пирамида



$4+15=19$

ПИРАМИДЫ вокруг нас



Выполни графический диктант

Графический диктант "Гриб"

Отступи 3 клетки сверху и 4 клетки слева.

Поставь точку и начинай рисовать.

2 →		1 ↓		1 →		1 ↓		1 →		1 ↓
1 →		2 ↓		3 ←		4 ↓		2 ←		4 ↑
3 ←		2 ↑		1 →		1 ↑		1 →		1 ↑
1 →		1 ↑								



Молодец!