

В каждом ряду раскрась столько воздушных шариков, сколько указывает цифра.

5



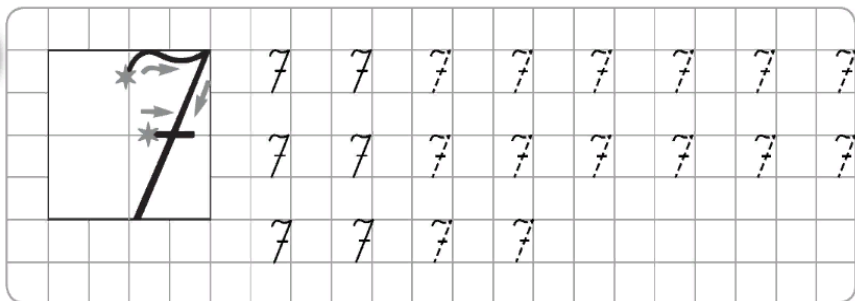

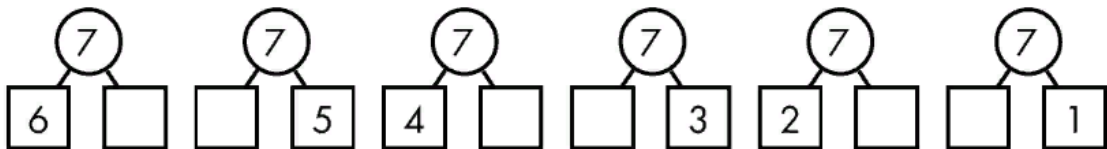
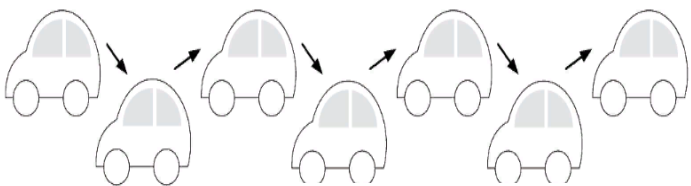
6



7



Сосчитай, сколько автомобилей нарисовано на картинке. Второй и пятый автомобили раскрась в жёлтый цвет. Третий, шестой — в зелёный. Первый, седьмой — в красный. Четвёртый — в синий.



В каждом ряду раскрась столько воздушных шариков, сколько указывает цифра.

5



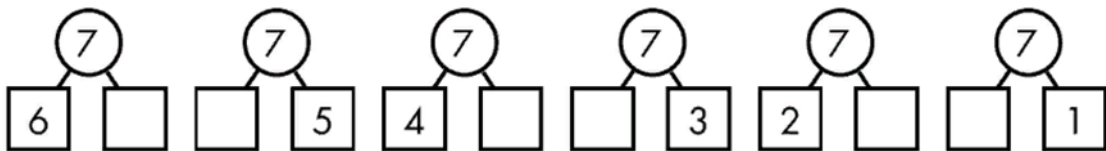
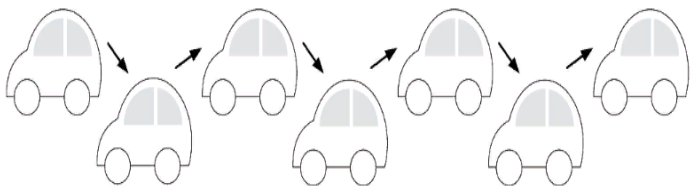
6

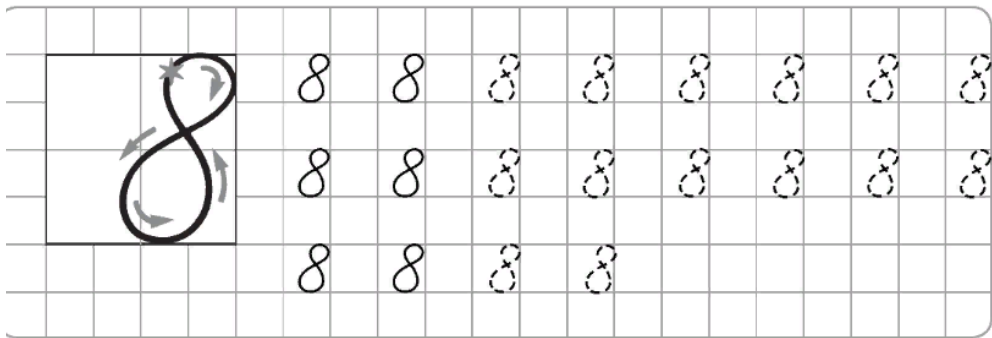



7



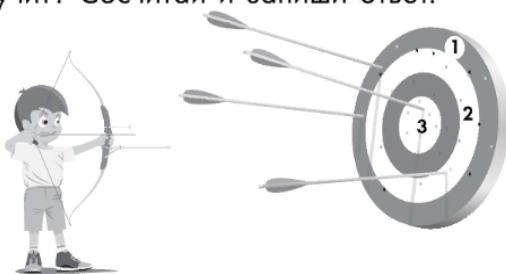
Сосчитай, сколько автомобилей нарисовано на картинке. Второй и пятый автомобили раскрась в жёлтый цвет. Третий, шестой — в зелёный. Первый, седьмой — в красный. Четвёртый — в синий.





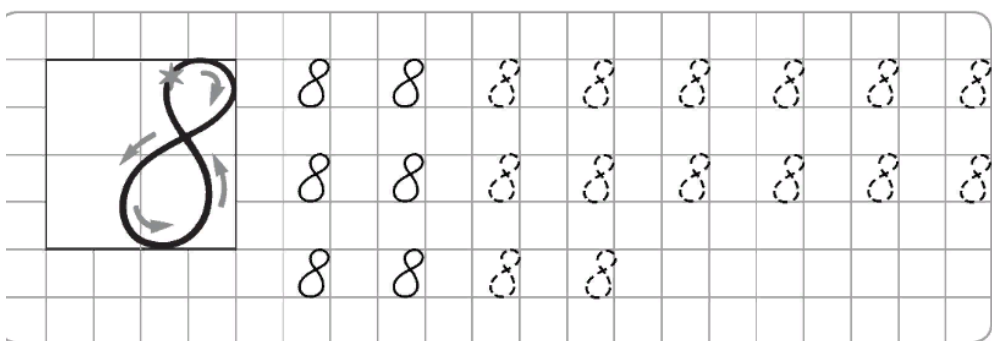

	+1	-1	+2	-2	+3	-3
3	↓					✗
4	→					
5						

Сколько баллов набрал стрелок из лука? ☐ Какой приз он получит? Сосчитай и запиши ответ.



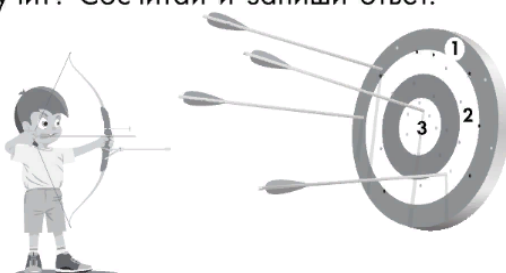
**ПРИЗЫ**

- 6 баллов
- 5 баллов
- 7 баллов



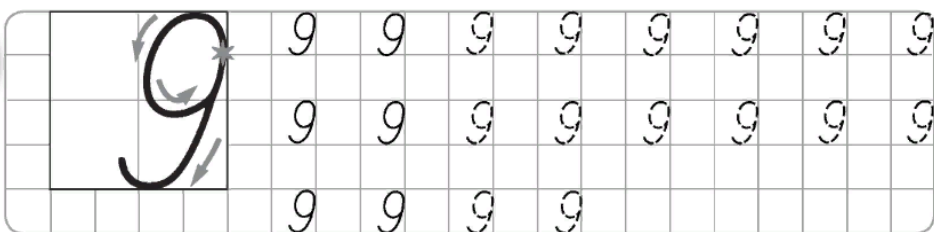

	+1	-1	+2	-2	+3	-3
3	↓					✗
4	→					
5						

Сколько баллов набрал стрелок из лука? ☐ Какой приз он получит? Сосчитай и запиши ответ.

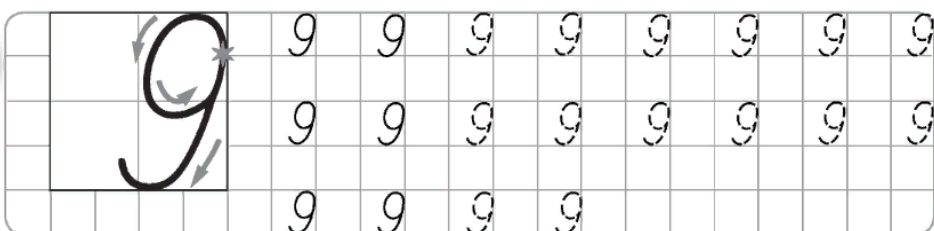



**ПРИЗЫ**

- 6 баллов
- 5 баллов
- 7 баллов



Сосчитай, сколько детей в парке аттракционов. Первый, пятый, седьмой ребёнок пойдут на колесо обозрения. Третий, шестой, девятый — на качели. Второй, четвёртый, восьмой будут кататься на машинках. Проведи линии от детей к нужным аттракционам.



Сосчитай, сколько детей в парке аттракционов. Первый, пятый, седьмой ребёнок пойдут на колесо обозрения. Третий, шестой, девятый — на качели. Второй, четвёртый, восьмой будут кататься на машинках. Проведи линии от детей к нужным аттракционам.

