

# ВИКТОРИНА УМНИКИ И УМНИЦЫ

Математика

10

30

50

70

Русский язык

10

30

50

70

Музыка

10

30

50

70

Детская  
литература

10

30

50

70

Окружающий  
мир

10

30

50

70

История

10

30

50

70

Санкт - Петербурга


# МАТЕМАТИКА 10

На праздничном столе  
горят 7 свечей. 3 из них  
потушили. Сколько  
свечей останется?



ОСТАНЕТСЯ 4  
СВЕЧИ

ОТВЕТ



# МАТЕМАТИКА 30

Солдаты выстроились в линейку на расстоянии друг от друга. Линейка растянулась на 25 метров. Сколько всего было солдат в линейке?

**ВСЕГО В ЛИНЕЙКЕ 26  
СОЛДАТ**



**ОТВЕТ**




# МАТЕМАТИКА 50

В корзине лежит пять  
яблок. Каким образом  
разделить яблоки между  
пятью людьми, при  
условии, что в корзине  
после дележа должно  
остаться одно яблоко?



Один человек должен взять  
себе оставшееся пятое  
яблоко в месте с корзиной.

**ОТВЕТ**






# МАТЕМАТИКА 70

$$\begin{array}{l} \text{Круг} + \text{Круг} + \text{Круг} = 45 \\ \text{Прямоугольник} + \text{Прямоугольник} + \text{Круг} = 23 \\ \text{Прямоугольник} + \text{Треугольник} + \text{Треугольник} = 10 \\ \text{Треугольник} + \text{Прямоугольник} + \text{Прямоугольник} + \text{Круг} = ?? \end{array}$$

Круг – 15,  
прямоугольник – 4,  
треугольник – 3.  
Следовательно,  
 $3+4+4+15=26$

ОТВЕТ



# РУССКИЙ ЯЗЫК 10




**Замени одним словом, чтобы получились сложные существительные:**

- ✓ **Падает снег**
- ✓ **Выжимать сок**
- ✓ **Качать воду**
- ✓ **Сам сваливает**
- ✓ **Колет лед**
- ✓ **Морит мух**
- ✓ **Варить кофе**
- ✓ **Вертится и летит**



**Снегопад**  
**Соковыжималка**  
**Водокачка**  
**Самосвал**  
**Ледокол**  
**Мухомор**  
**Кофеварка**  
**Вертолет**

**ОТВЕТ**



# РУССКИЙ ЯЗЫК 30


*Почти из всех этих существительных можно убрать по одной букве так, что получатся числительные. Только из одного числительное не получится. Из какого?*

- Сорока
- Семя
- Сито
- Шерсть
- Дева



СЕМЯ

ОТВЕТ





# РУССКИЙ ЯЗЫК 50

Что означают эти выражения?


- ❖ Прикусить язык
- ❖ Ни пуха ни пера
- ❖ Морочить голову
- ❖ Сломать голову
- ❖ Зарубить на носу



- ❖ Замолчать
- ❖ Удачи
- ❖ Лгать
- ❖ Очень быстро
- ❖ Запомнить



ОТВЕТ




# РУССКИЙ ЯЗЫК 70

Разгадайте ребусы



СПРЯЖЕНИЕ  
ПАДЕЖ

ОТВЕТ




# ДЕТСКАЯ ЛИТЕРАТУРА 10

*Кто из трех  
поросят  
построил  
самый прочный  
домик в сказке  
«Три  
поросят»?*



**ОТВЕТ**

**Наф-наф**



# ДЕТСКАЯ ЛИТЕРАТУРА 30


*В какой сказке Вы прочли  
про эту красавицу?*



*«Месяц под косой блестит,  
А во лбу звезда горит.  
А сама-то величава,  
Выступает, будто пава...»*

**ОТВЕТ**

**А. С. Пушкин «Сказка о царе  
Салтане»**





# ДЕТСКАЯ ЛИТЕРАТУРА 50


*Из какой сказки эти строчки?*

*«Ах ты, Петя-простота,  
Сплоховал немножко:  
Не послушался Кота,  
Выглянул в окошко...»*



**ОТВЕТ**

*«Петушок-золотой гребешок»*






# ДЕТСКАЯ ЛИТЕРАТУРА 70

Как звали злую  
волшебницу из  
«Волшебника  
Изумрудного  
города», которая  
растаяла от  
воды?

**Бастинда**



**ОТВЕТ**




# Окружающий мир 10

**Сколько планет в  
Солнечной системе?**



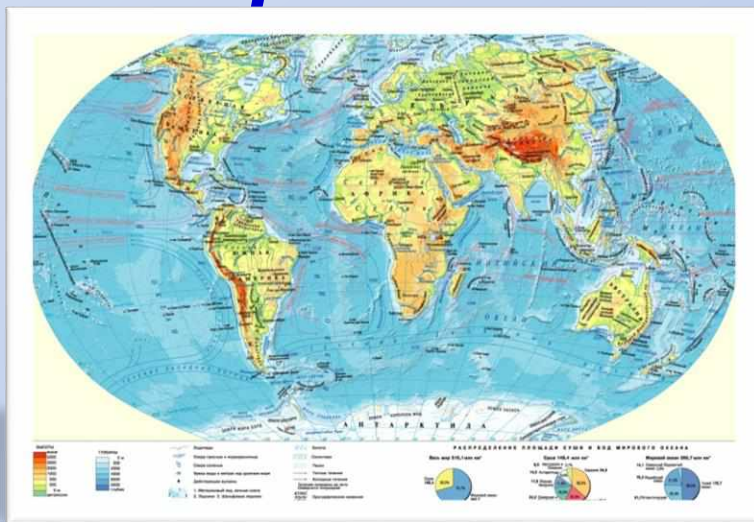
**ОТВЕТ**

**В СОЛНЕЧНОЙ СИСТЕМЕ 8 ПЛАНЕТ**




# Окружающий мир 30

*Перечислите  
способы  
изображения Земли.*



**ОТВЕТ**

**ГЛОБУС, ГЕОГРАФИЧЕСКАЯ КАРТА**






# Окружающий мир 50

*Пешеходная дорожка  
и тротуар – это  
одно и то же?*



**ОТВЕТ**

**ДА, ЭТО ОДНО И ТО ЖЕ**




# Окружающий мир 70

*Что нужно сделать  
перед тем, как  
переходить улицу?*



*Посмотреть налево, убедиться, что  
близко нет машин, и начать  
движение. Дойдя до середины улицы,  
нужно посмотреть направо и,  
убедившись в отсутствии машин,  
закончить переход.*

**ОТВЕТ**






# История Санкт-Петербурга 10

*О каком городе идет  
речь?*

*«Люблю тебя, Петра  
творенье,  
Люблю твой строгий,  
стройный вид,  
Невы державное течение,  
Береговой ее гранит...»*

**ОТВЕТ**

**САНКТ-ПЕТЕРБУРГ**




# История Санкт-Петербурга 30

*Какой домик является  
ровесником нашего  
города?*



ОТВЕТ

ДОМИК ПЕТРА I






# История Санкт-Петербурга 50

*Какой мост является  
самым широким в  
Санкт-Петербурге?*



ОТВЕТ

Синий мост



# История Санкт-Петербурга 70

*На постаменте «Медного Всадника»  
два имени. Первое – «Петру I». Какое  
второе имя написано на постаменте?*



ОТВЕТ

Екатерина II

