



Добрый день!



Логическое


мышление





РАЗВИТИЕ ЛОГИЧЕСКОГО МЫШЛЕНИЯ


Логическое мышление -
процесс, при котором
человек использует
логические понятия,
основанные на
доказательствах и здоровом
рассудке.



**1. Из какого
полотна нельзя
сшить рубашку?**

**Ответ:
Из железнодорожного**





**2. Кто с бородой
родится, а никто
не дивиться?**

**Ответ:
Козел**



**3. Я шариком
пушистым белею в
поле чистом, а дунул
ветерок - остался
стебелек. Что это?**

**Ответ:
Одуванчик**



**4. Из какой сказки
Шамаханская
царица?**

**Ответ:
Автор: Пушкин,
Сказка о Золотом петушке**



**5. Четыре человека
обменялись
рукопожатиями.
Сколько было
рукопожатий?**


**Ответ:
Шесть**



**6. Лесное жилище
из жердей и веток
- это что?**

**Ответ:
Шалаш**





**7. Как называется
знак вычитания в
математике**

**Ответ:
Минус**



МИНУС


2

-

2

**8. Что
накручивают на
винт или болт?**

**Ответ:
Гайку**



**9. Что
коллекционирует
филателист?**

**Ответ:
Марки**

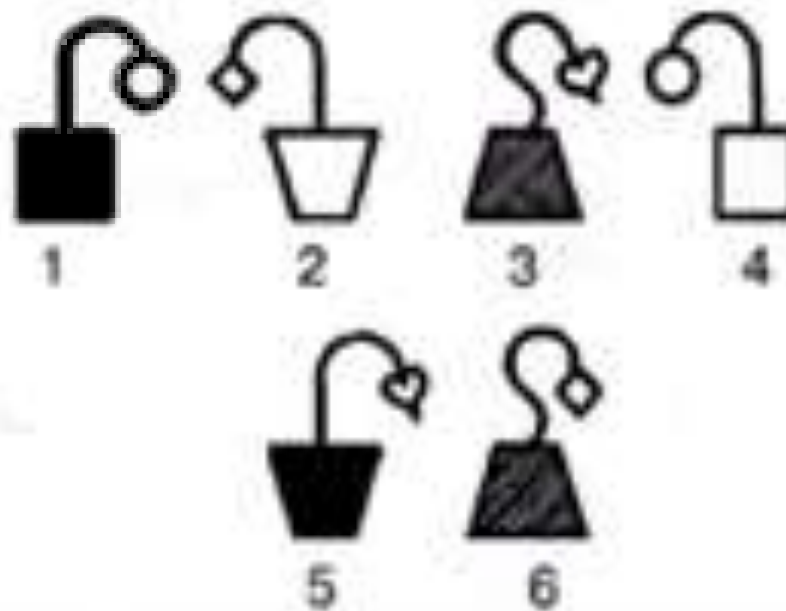



**10. Как
называется
сторона света, где
заходит солнце?**

**Ответ:
Запад**



1. Задание (стр. 15 номер 1).
Выбери нужную фигуру из шести пронумерованных.



2 задание. (стр. 15, номер 2)

Вставь вместо точек слово из трёх букв, которое служило бы окончанием первого слова и началом второго.

Пример: КИПА (РИС) УНОК

ТО (**ВАР**) ЕНЬЕ

ПИ (**ЛОТ**) ЕРЕЯ

БОЙ (**КОТ**) ЛЕТА

НОСО (**РОГ**) АЛИК

ТО (**МАТ**) РЁШКА

НА (**БОР**) ДЮР



3 задание. (стр. 16, номер 3). Соотнеси цифры и слова.

3. Впиши слово.

8 1 2 1 (**ЖАБА**)
15 6 2 16 (**НЕБО**)
19 20 21 13 (**СТУЛ**)
19 16 20 29 (**СОТЫ**)

А	Б	В	Г	Д	Е	Ё	Ж	З	И	Й
1	2	3	4	5	6	7	8	9	10	11
К	Л	М	Н	О	П	Р	С	Т	У	Ф
12	13	14	15	16	17	18	19	20	21	22
Х	Ц	Ч	Ш	Щ	Ъ	Ы	Ь	Э	Ю	Я
23	24	25	26	27	28	29	30	31	32	33

4 задание. (стр. 16, номер 5).

5. Слово в скобках в верхнем ряду каждого задания образовано из двух рядом стоящих. Пойми закономерность и впиши недостающее слово в скобки нижнего ряда.

КИНО (НОТА) ТАЛЬК

МОРЕ (**РЕКА**) КАША

ВОДА (АДРЕС) РЕСТОРАН

ЛИСА (**АСТРА**) ТРАВИНКА

СЕНО (СЕЛО) ЛОШАДЬ

СЕМЯ (**СЕРА**) РАК

САРАЙ (САЛО) СОЛОМА

РАДИО (**РАМА**) ПОМАДА



5 задание. (стр. 16, номер 6)

Поставь вместо букв такие цифры, чтобы равенство оказалось верным. (Одинаковые буквы обозначают одинаковые цифры, разные буквы – разные)

$$\begin{array}{r} \text{БЕДА} \\ + \text{ЕДА} \\ \hline \text{ДА} \\ \text{А} \\ \hline 8888 \end{array}$$

1) Б – 8,
Е – 4,
Д – 2,
А – 7;

$$\begin{array}{r} \text{НИТКА} \\ + \text{НИТКА} \\ \hline \text{ТКАНЬ} \end{array}$$

2) Н – 1,
И – 5,
Т – 3,
К – 0,
А – 6;

$$\begin{array}{r} \text{НАУКА} \\ + \text{УЧЁБА} \\ \hline \text{РАБОТА} \end{array}$$

3) Н – 3, Ё – 4,
А – 0, Б – 9,
У – 7, Р – 1,
К – 6, О – 2,
Ч – 8, Т – 5.

6 задание. (стр. 16, номер 7)

Подберите слово, которому могут предшествовать любые из букв слева.

7. Подберите слово, которому могут предшествовать любые из букв слева.

С
О
У
В
ЗА

(К Л А Д)



Сегодня я узнал...

Было интересно...

Было трудно...

Я выполнял задания...

У меня получилось ...

