

Маршрутный лист к уроку «Солнечный свет на Земле»

Задание 1. Предварительная подготовка для преодоления маршрута.

Учитель попросил ребят 5 класса рассказать о том, что такое Солнце.

- Солнце-это звезда, -сказал Вася.
 - Солнце это небесное тело,- сообщила Таня.
 - Солнце это раскалённый газовый шар,- добавил Коля.
 - Это одна из звезд Млечного пути,- сказала Настя.
 - Солнце является частью Солнечной системы,- утверждал Вадим
- Лишь один Николай удивился и спросил учителя: «Кто же из ребят прав?»
Чтобы вы ответили Николаю?

Задание 2. Приведем мысли в порядок.

Учитель географии, проверяя подготовку д/з, выдал ребятам карточки «С ног на голову». Вы должны помочь ребятам справиться с заданием и закончить предложение во второй графе.

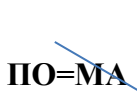

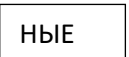

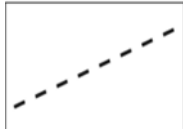
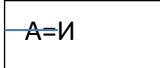







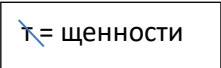
Северное полушарие	Южное полушарие
У нас в Ханты-Мансийске самый разгар лета	А в это время в Антарктиде самый разгар - ?
У нас июль это летний месяц	А в Антарктиде июль это-?
У нас самый длинный день	А в это время в Антарктиде?
У нас самые короткие ночи	А в это время в Антарктиде самый короткий ... ?

Задание 3. Поработаем экспертом.

При выпуске учебника географии для 5 классов типографии на печатном станке произошел сбой, в результате чего появился такой текст. « В один и тот же момент времени разные участки земной поверхности получают одинаковое количество тепла и света. Северное и Южное полушарие в течение года освещаются одинаково из-за отсутствия наклона земной оси. В районе экватора Солнце стоит низко над горизонтом, а в полярных областях – высоко. Именно поэтому на экваторе холодно, а у полюсов жарко»

Вы эксперты и должны проверить все ли в нем соответствует действительности, если нет, то исправить ошибки. (Подсказка в случае необходимости рис16, стр29)

Задание 4. Тайнопись. Расшифруйте ребусы и обозначьте на контурной карте полушарий важные линии. (Контурная карта должна быть распечатана и выдана каждому ученику)

ЗИМНЕЕ – СИНИМ, ВЕСЕННЕЕ- ЗЕЛЕНЫМ, ОСЕННЕЕ - ЖЕЛТЫМ