



«Счет до 10»



Работу выполнил воспитатель
МБДОУ «Детский сад №48»
Кирзиенок Наталья виковровна



Помоги Зайчихе сосчитать своих зайчат

*1. У Зайчихи было 10 зайчат. Сосчитай их
всех от 1 до 10 и обратно.*

2. От 9 до 3

1

2

3

4

5

6

7

8

9

10



Какое число стоит ПОСЛЕ

3

10

2

8

1

7

6

5

3

9

4



*Разложи цифры на соответствующие ей
картинки*



2

6


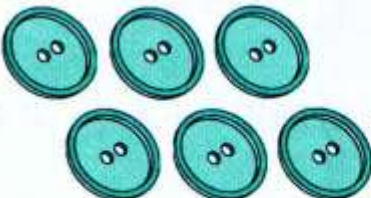
8

3

1




4

9






*Положи карточки с цифрами БОЛЬШЕ 5 на **красный** стол,
а карточки с цифрами МЕНЬШЕ 5 на **зеленый** стол*





Сколько понадобилось зайцу кубиков
для башни?





Сколько зайцев в корзине?

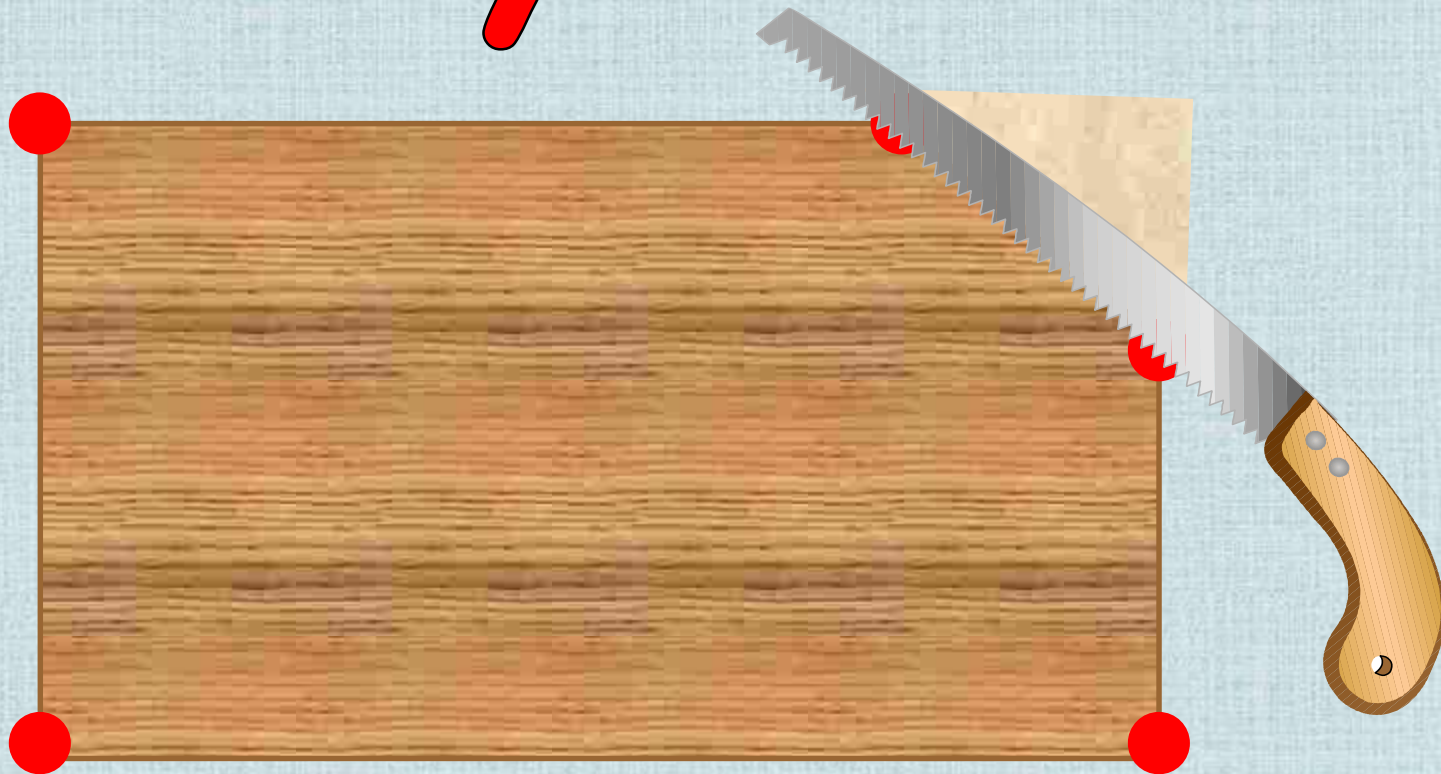


3



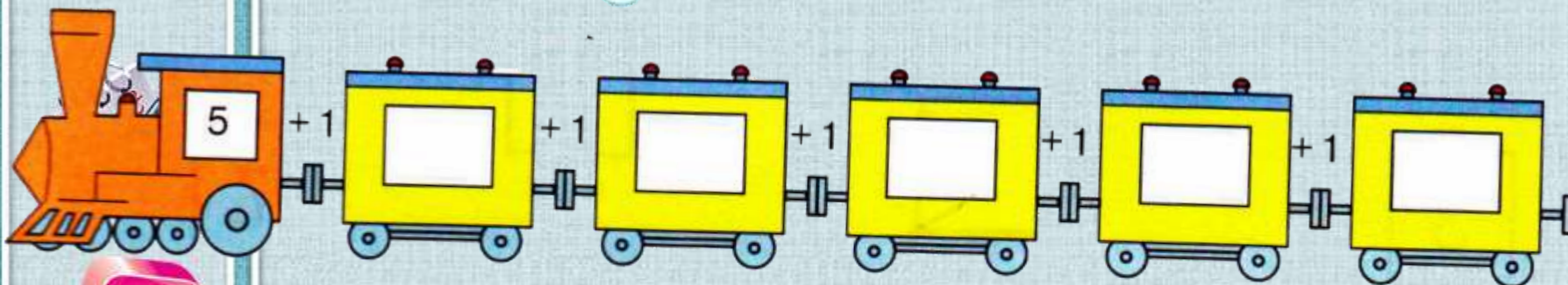
*У крышки стола 4 угла. Сколько
останется углов, если 1 угол
отпилить?*

5 углов





Реши примеры, прибавляя 1 к следующему числу

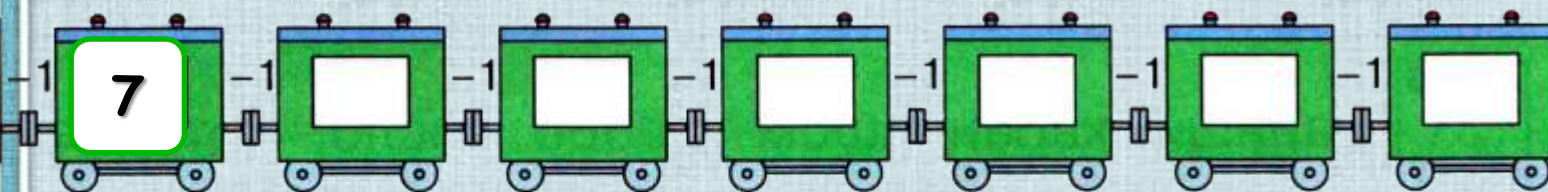


1 2 3 4 5 6 7 8 9 10





Реши примеры, убавляя 1 от числа



1

2

3

4

5

6

7

8

9

10



5



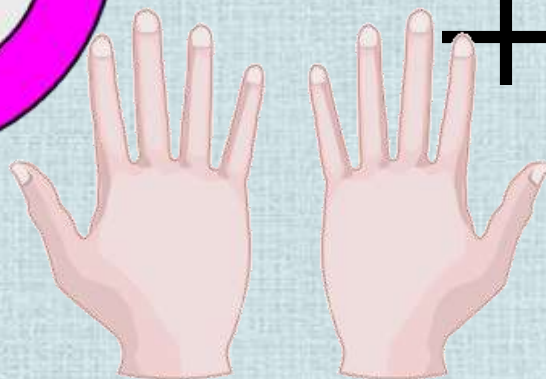
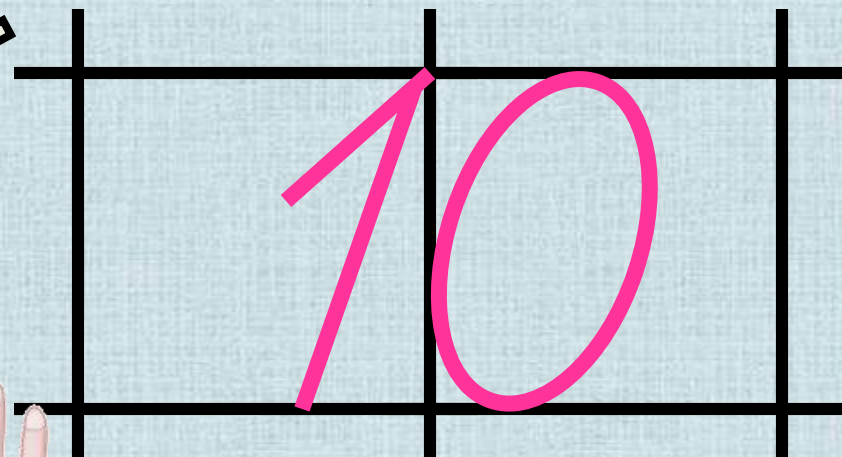

$$5 + 5 = 10$$

Раз к зайчонку на обед
Прискакал дружок-сосед.

На пенёк зайчата сели

И по **ПЯТЬ** морковок съели.
Кто считать, ребята, ловок?
Сколько съедено морковок?





За девятью идет **ДЕСЯТКА.**

Ты это знаешь? Молодец!

Сочти все пальцы по порядку –

И счету нашему конец.



Спасибо

за внимание!



Используемые ресурсы:

1. Годовой курс подготовки к школе: для детей 6-7 лет/ Липская Н.М. , И.М. Мальцева, С.В.Пятак и др. – М.: Эксмо, 2014.- 320 с.: ил. - (Ломоносовская школа).
2. Кубики с цифрами http://img-fotki.yandex.ru/get/6510/134091466.a/0_8eade_b145a1ba_S
3. Сова http://img-fotki.yandex.ru/get/6520/108950446.113/0_cd1fc_4b1c61ad_S
4. Циркуль http://img-fotki.yandex.ru/get/6423/108950446.113/0_cd1e7_4caa1851_S
5. Цифра 5 http://img-fotki.yandex.ru/get/9511/134091466.ce/0_cb245_e401dbc8_S
6. Блокнот с ручкой http://img-fotki.yandex.ru/get/19/108950446.6d/0_b4102_1793a431_S
7. Шаблон <http://pedsovet.su/load/412-1-0-43027>



Инструкция:

1. У Зайчихи было 10 зайчат. Сосчитай их всех от 1 до 10 и обратно.

При нажатии на задание - запускается «Счет от 1 до 10 и обратно»

2. От 9 до 3

При нажатии на задание - запускается «Счет от 9 до 3»

Другие слайды выполняются по такому же принципу.