



## Лист успеха




1




2




3



4



5





$$2 + 3 = 5$$







$$4 + 1 = 5$$





$$1 + 4 = 5$$







$$3 + 2 = 5$$



$$2+3=5$$

$$4+1=5$$

$$1+4=5$$

$$3+2=5$$

5



**ТЕМА:**

**СОСТАВ  
ЧИСЛА 5**



The background of the image is a light gray surface covered with numerous colorful, three-dimensional paper numbers (0-9) in various colors like blue, yellow, green, orange, and purple. Some numbers are in the foreground, while others are blurred in the background, creating a sense of depth.

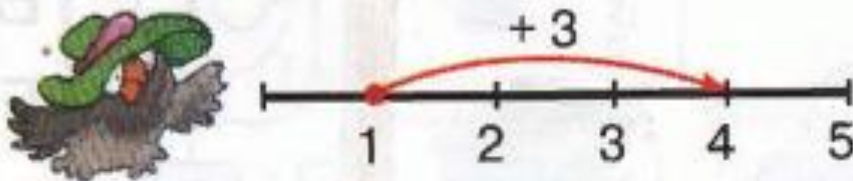
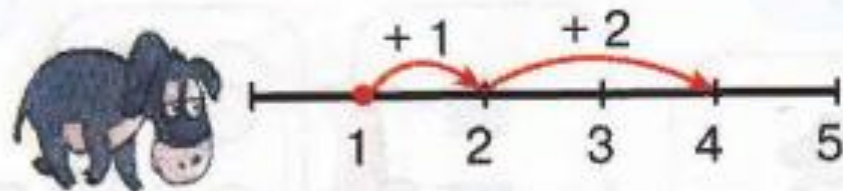
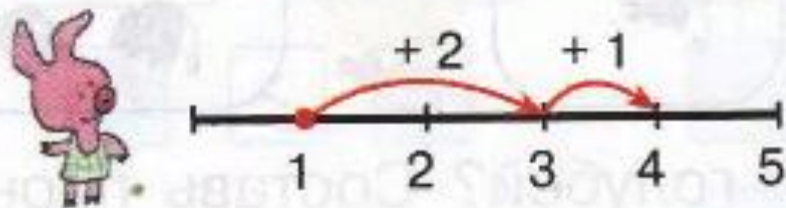
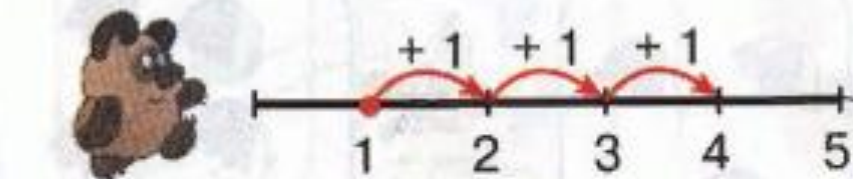
**ПОВТОРИТЬ...**  
**ТРЕНИРОВАТЬСЯ...**

# ЦЕЛІ:

1. Повторить состав числа 5
2. Треніруватися складувати і вичитати в межах 5.



- 4 К числу 1 надо прибавить 3 единицы. Кто как считал?  
Зависит ли ответ от способа вычислений?



$$1 + 2 + 1 = 4$$

$$1 + 1 + 1 + 1 = 4$$

$$1 + 3 = 4$$

$$1 + 1 + 2 = 4$$

## Карточка 1

**ФИ** \_\_\_\_\_

**Задание:** решите примеры, вставьте пропущенные знаки «+» или «-».

$$1+1= \textcolor{red}{2}$$

$$4 \textcolor{red}{-} 1=3$$

$$2-1=\textcolor{red}{1}$$

$$4 \textcolor{red}{-} 2=2$$

$$1+2= \textcolor{red}{3}$$

$$1 \textcolor{red}{+} 4=5$$

$$3-2= \textcolor{red}{1}$$

$$2 \textcolor{red}{+} 3=5$$

$$1+3= \textcolor{red}{4}$$

$$5 \textcolor{red}{-} 2=3$$

$$2+2= \textcolor{red}{4}$$

$$5 \textcolor{red}{-} 4=1$$



## Карточка 2

**ФИ** \_\_\_\_\_

**Задание:** решите примеры, вставьте пропущенные знаки «+» или «-».

$$4-1-2=\mathbf{1}$$


$$3+1+1=\mathbf{5}$$

$$5-1-1-1-1=\mathbf{1}$$



$$2\mathbf{+}1\mathbf{+}1=4$$

$$5\mathbf{-}3\mathbf{-}1=1$$


$$1\mathbf{+}3\mathbf{+}1=5$$




**$2 \neq 3$**



**$2 = 2$**



**$4 \neq 3$**



**$3 \neq 1$**