













**Реши пример!**

**Вам необходимо выбрать правильный ответ!**

$$1 + 3 =$$

5

6

4

---

$$14 - 1 =$$

13 12 10

---

$$12 + 1 =$$

11

13

12



---

$$15 + 1 =$$

16

15

17



---

$$18 - 1 =$$

14


16

17





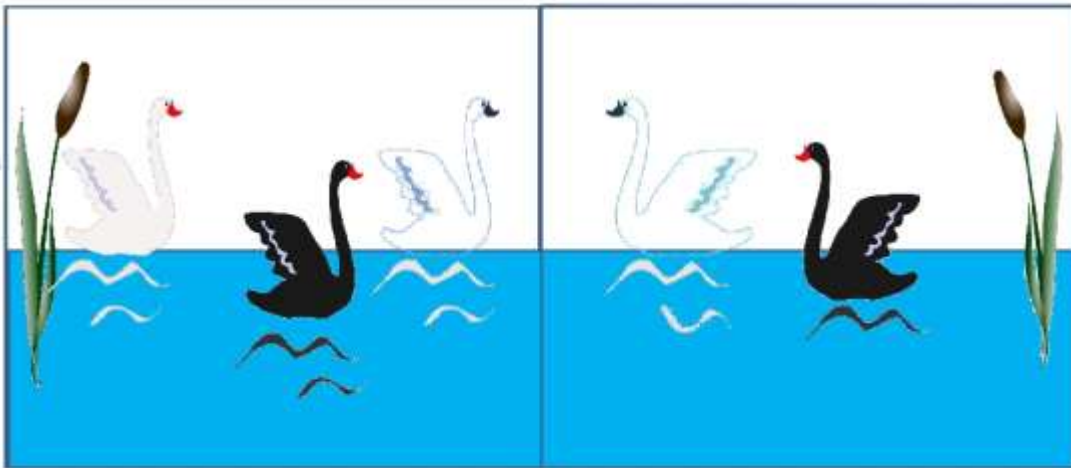




$$3+2=5$$



$$3+2=5$$



$$3+2=5$$



$$3+2=5$$










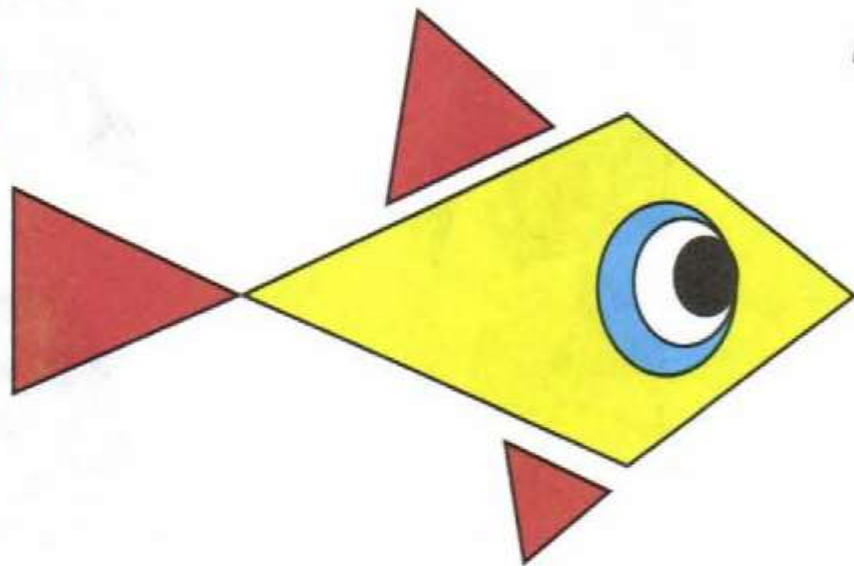
# ФИЗМИНУТКА

Топай, Мишка,  
Хлопай Мишка,  
Раз, два, три,  
Приседай со мной,  
братишка,  
Руки вверх, вперёд и вниз,  
Улыбайся и садись.





5







6

Нарисуй недостающую фигуру, используя соответствующую закономерность.

?

