

Дорогой третьеклассник!

Ты успешно окончил второй класс. Наступили долгожданные летние каникулы. За лето постарайся отдохнуть, набраться сил, положительных эмоций, добрых впечатлений, прочитать интересные книги.


Не забывай, что ты обучающийся 3-го класса. Каждый день читай художественные произведения, чтобы обогатить себя духовно и не потерять достигнутый тобой навык чтения. Веди читательский дневник.

Собери материалы для сочинения «Как я провёл лето», принеси в класс интересные впечатления, фотографии, рисунки.

А чтобы легко «войти» в первую четверть 3 класса и вспомнить учебный материал за прошлый год, выполняй задания в данной тетрадке.

Желаю хорошо и с пользой отдохнуть! Набирайтесь сил! Жду тебя 1 сентября в нашем классе.

Твоя учительница, Любовь Вячеславовна.



— Ребята, давайте дружить!

Решим задачу:

У Кролика было 24 больших и 28 маленьких баночек мёда. Вини-Пух в первый раз съел 16 баночек мёда, а во второй – ещё 8 баночек. Сколько баночек мёда осталось у Кролика?

[illegible]

Напиши количество слогов, букв и звуков в этих словах.

Индюк - _____

Альбатрос – _____

Акация - _____

Пальма - _____

Месяц - _____

Ёлка - _____

Шоссе - _____

Июль - _____

1 дм 4 см... 1 дм 6 см

20 см ... 2 дм

12 см ... 1 дм 2 см

19cm ...2

20 мм ... 2 с

40 mm ... 14 cm

66 см ... 6 см 7 мм

1 дм ... 100 мм

3 CM ... 33 MM

8 дм 1 см ... 9 см

Озаглавь еіо. Спиши.

Пели чижи. Мы ходили гулять в рощу. Наш лёс Рыжик любил пугать птиц. Там было хорошо. Мальчики и девочки играли в прятки. Цвели ландыши.

Начерти прямоугольник со сторонами 3 см и 2 см. Найди его периметр.

Найди значение выражения

$$a + 28 \text{ при } a = 19, a = 23, a = 53, a = 44$$

Напиши по 4 слова на каждое правило:

Жи - _____

ШН - _____

4A - _____

ЩА - _____

4Y - _____

ШҮ - _____

УК - _____

УН - _____

Вставь пропущенные буквы.

З..ма. Дует ре..кий ветер. На дв..ре б..льшой мя..кий
сугро.. . Л..тят лё..кие сн..ж..нки. Доро..ки покрыты пуш..стым
сне..ком. Дети надели шу..ки и ша..ки и б..гут на горку.

Найди значение выражения

52 - с при $c = 25, c = 44, c = 17, c = 39$

A blank grid consisting of 20 columns and 10 rows of squares, intended for drawing a graph.

Увеличь на 15 числа. Запиши полученные выражения.

30, 45, 27, 36, 49

A blank sheet of graph paper featuring a uniform grid of small squares. The grid consists of 20 columns and 10 rows, creating a total of 200 square units. The lines are thin and gray, set against a white background. There are no margins or additional markings on the page.

Напиши полное имя.

Образец: Володя -Владимир
Катя, Витя, Валя, Боря, Саша, Дима, Коля, Света, Галя, Маша,
Серёжа.

Реши задачу:

Для детского сада привезли 4кг масла, а творога на 10кг больше. Сколько килограммов масла и творога привезли для детского сада?

Подберите проверочное слово.

Спишите, написав сначала проверочное слово, а потом проверяемое.

Образец: водный -вода
В.ренье, д.лёкий, дв.рняга, ст.ять, см.треть,к.рмить, ск.зать, д.машний, осл.беть, п.ляна, с.довник,под.рил, х.лодный, м.л.дой, з.л.той, п.л.са, г.лодный, ст.р.жить.

Заполните таблицу

Слагаемое	36		32	63	53	42	16		60		36
Слагаемое		42						22		67	45
Сумма	48	46	49	68	57	49	99	28	90	78	

42-25	92-63	56-47
86-28	53-38	32-15
95-57	41-18	57-39

A full-page sheet of white graph paper featuring a light gray grid. The grid consists of small, equal-sized squares covering the entire area. There are no margins, text, or other markings on the page.

Дедушка. Мальчики Миша и Серёжа жили у деда. Они помогали деду сушить сеть. Дедушка учил мальчиков ловить рыбу. Ребята любили работать с дедом.


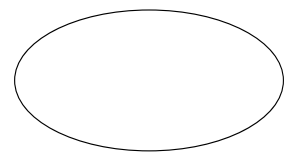
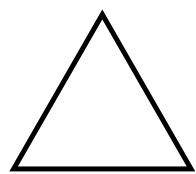
Род.на, М.сква, мальч.к, дев.чка,к.рандаш,м.дведь,
р.бята, т.традь, в.рона, в.р.бей, з.вод, м.шина,
па..ажир, ка..а, тро..ейбус,шо..е, кла.., ру..кий язык,
ра..каз, хо..ей, те..ис,ба..ейн.

27, 18, 81, 90, 23.

[illegible]

Соедини названия и фигуры

Ломаная Отрезок Прямоугольник Четырёхугольник Овал



Прочитай. Подчеркни волнистой чертой имена прилагательные.

Портфель

Я ужасно гордый!

Новый я и твёрдый.

Я пузатый, я блестящий,

Я из кожи настоящей.

(И. Пивоварова)

Знаешь ли ты таблицу умножения?

Проверь себя.

$4 \cdot 2 =$

$6 \cdot 7 =$

$6 \cdot 6 =$

$2 \cdot 6 =$

$9 \cdot 9 =$

$5 \cdot 4 =$

$5 \cdot 5 =$

$3 \cdot 8 =$

$7 \cdot 3 =$

$7 \cdot 5 =$

$6 \cdot 8 =$


$9 \cdot 9 =$

$4 \cdot 4 =$

$3 \cdot 5 =$

$4 \cdot 8 =$

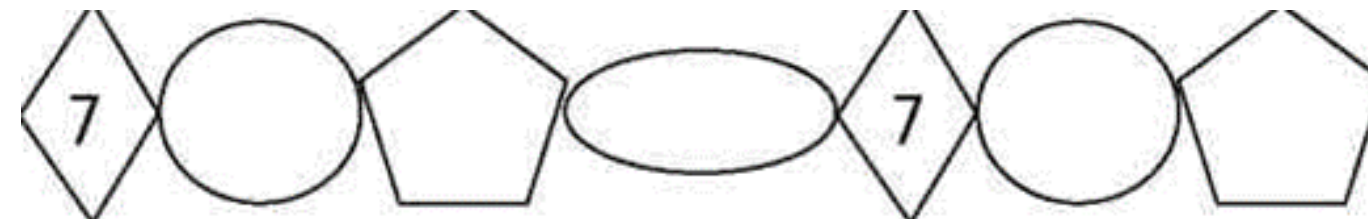
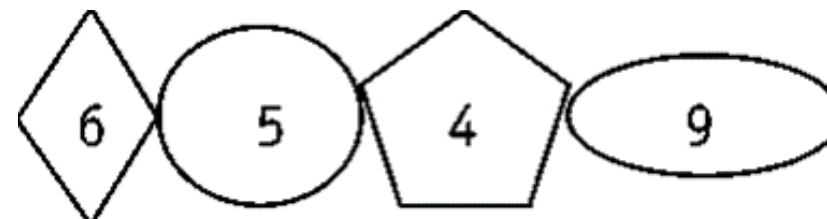
Подпиши время, показанное на часах.
Дорисуй стрелки на последних часах. Какое время они показывают?



Поставь ударение в словах:

Инструмент, километр, магазин, сантиметр, статуя, случай,
повторить, красивее.

Расставь цифры в фигурах по образцу



Составь задачу по выражению, запиши текст и реши.

$$(27 + 14) - 12$$

[illegible]

Раздели слова для переноса.

Группа, листья, территория, Илья, масса, крылья.

Найди и исправь ошибки.

Из жарких стран летят птицы. Они устраивают себе жильё.

Грачи вють гніздо на дериве. В роцях свистят салави.

В каких словах есть безударные гласные в корне слова?

Подчеркни эти слова.

Вьюга, побелка, побелил, полянка, зуб, волк.

Реши задачу.

В каждой из 5 матрёшек уместятся ещё 5 матрёшек. Сколько
всего матрёшек?

A large grid of 10 columns and 10 rows, intended for drawing. The grid is composed of thin black lines on a white background.

Подбери проверочные слова и вставь пропущенные буквы:

Дроз. - _____

Стри. – _____

06e. - _____

Coce. -

Дү. –

Сапо. –

Злой – _____ Мальчик – _____
Дикий – _____ Город – _____
Короткий – _____ Сладкий – _____
Маленький – _____ Добрый – _____

3 + 3 + 3 + 3 = _____

2 + 2 + 2 + 2 + 2 = _____

6 + 6 + 6 = _____

9 + 9 = _____

Весь мир знает русскую балалайку. Этот музыкальный инструмент появился на Руси недавно. Русский народ сразу полюбил балалайку. Под балалайку крестьяне пели свои любимые песни.

$$93 - y = 54$$

$$54 - y = 27$$

Решите задачу:

Оля купила тетради. Ей дали сдачу 4 монеты по 5 рублей. Сколько рублей Оля получила сдачи?

Зелень – _____ Свет – _____
Рассказ – _____ Работа – _____
Танец – _____ Звонок – _____

A blank grid of 20 columns and 8 rows for graphing.

Машина – _____, рыба – _____,
Море – _____, ягода – _____,
Скрипка – _____, река – _____.

Бабушка разделила 15 конфет трём внукам поровну. Сколько конфет получил каждый внук?

[illegible]

Шёл восьмой час, когда ученик:

Вышел _____ дома,
сошёл _____ крыльца,
пошёл _____ двору,
зашёл _____ ворота,
подошёл _____ газетному киоску
вышел _____ трамвая

