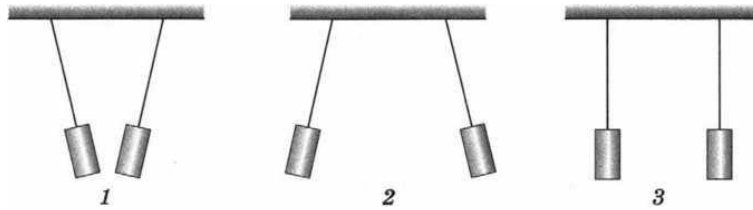


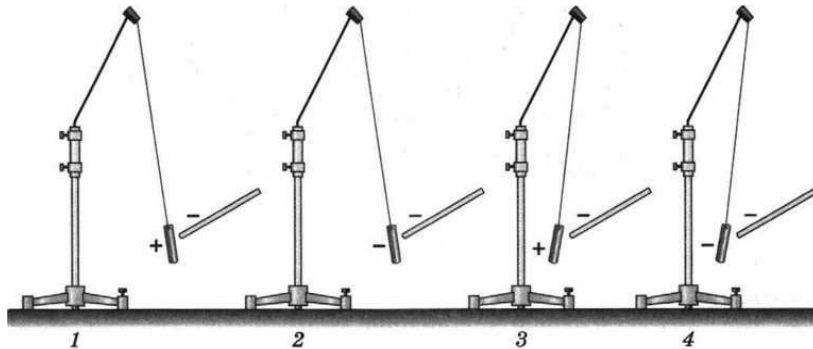
Домашняя самостоятельная работа

Свойства электрических зарядов.1

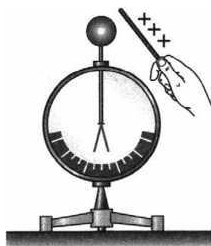
1. Какие бумажные цилиндрики, изображённые на рисунке, не заряжены, а каким сообщены разноимённые заряды?



2. К незаряженной лёгкой металлической гильзе, подвешенной на шёлковой нити, прикоснулись отрицательно заряженной эбонитовой палочкой. На каком из рисунков правильно показан заряд, приобретённый гильзой, и её дальнейшее поведение?



3. Положительно заряженную стеклянную палочку поднесли, не касаясь, к шару незаряженного электроскопа. В результате листочки электроскопа разошлись на некоторый угол.



На каком из рисунков правильно показано распределение заряда электроскопа при поднесении палочки?

