

КРАЕВЕДЧЕСКИЙ

ДНЕВНИК

(ФРАГМЕНТ)

МЫ В ГОРОДЕ. КРАСОТА РОДНОГО ГОРОДА.

1. Мой город называется _____

2. В каком году основан наш город? _____

3. Предположи, почему наш город так назван?
Соедини название города с твоим вариантом ответа.



потому что

это красивое название

его начали строить в ноябре

его основал человек с созвучной фамилией



Закончи фразу «Ноябрьск назван так, потому что....»

4. Какие достопримечательности города Ноябрьска ты знаешь? Отметь ответ ☒

☐ Памятник комару

☐ Музей воинской славы

☐ Храм Архистратига Михаила

☐ Памятник «Мать и дитя»

☐ ГДКиК «Русь»

☐ Ноябрьск-парк

☐ Музейный ресурсный центр

☐ Памятник «Хлеб нашей памяти»

☐ Памятник герою-пожарному

☐ Интеллект-центр

☐ Соборная мечеть

Отметь знаком ☐ достопримечательности, о которых ты хотел бы узнать .

4. Найди информацию о достопримечательностях Ноябрьска по QR-коду .

Запиши название того памятника, о котором ты не знал _____





Отметь на карте где, он находится.

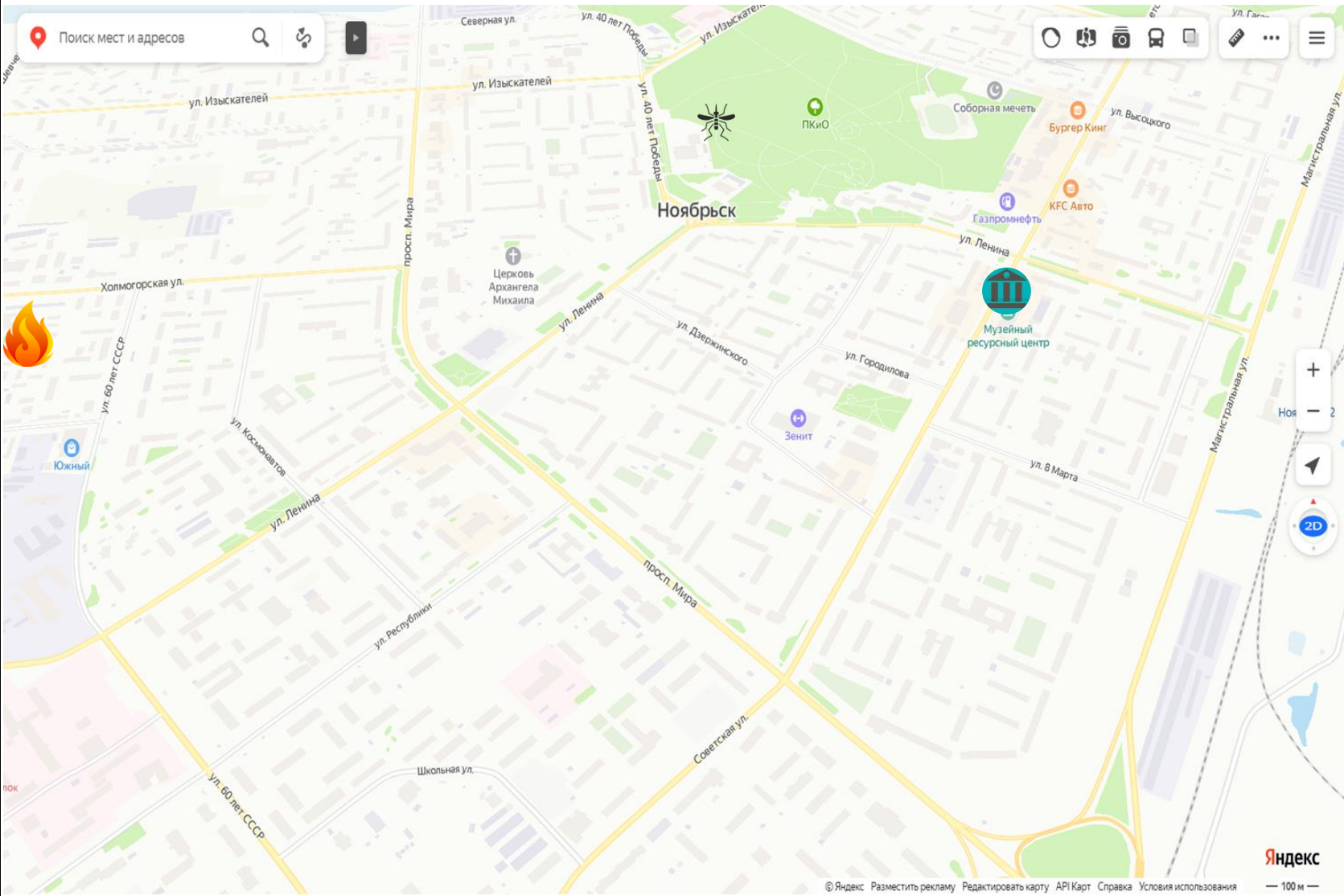
По возможности посети эту достопримечательность.

Что ты узнал о родном городе, разглядывая этот памятник?



Подумай какие достопримечательности Ноябрьска обозначены на карте условными знаками. Заполни таблицу.
Выбери условные обозначения для других объектов.

Название достопримечательности	Обозначение
	
Ноябрьск-парк	
Храм Архистратига Михаила	
Памятник «Хлеб нашей памяти»	
Музей воинской славы	
Соборная мечеть	
Стела «Ямал»	
Интеллект-центр	
	
Памятник «Мать и дитя»	
	



ЯМАЛО-НЕНЕЦКИЙ АВТОНОМНЫЙ ОКРУГ – НАША МАЛАЯ РОДИНА

1. Подумай, почему наш округ так называется. Для этого внимательно рассмотри карту.

Какой географический объект на карте даёт подсказку?

2. Найди на карте остров. Обведи его.

3. Как ты понимаешь слова остров и полуостров?
Соедини цепочку правильных высказываний.

ОСТРОВ

участок суши

с трёх сторон
омывается водой

одной стороной примыкает
к материку.

ПОЛУОСТРОВ

окрыжён со всех
сторон водой.

не примыкает к материку.

4. Продолжи цепочку слов. Подбери общее слово.

Обь, Пур, _____

5. Рассмотрй карту найди верные высказывания, отметь их знаком ☒.

- ☐ На севере наш округ омывается Карским морем.
- ☐ Таз – это самая большая река Ямало-Ненецкого автономного округа.
- ☐ Столица Ямало-Ненецкого автономного округа – город Салехард.
- ☐ Река Обь впадает в Обскую губу.






СИМВОЛЫ ЯМАЛО-НЕНЕЦКОГО АВТОНОМНОГО ОКРУГА

1. Прочитай описание герба Ямало-ненецкого автономного округа.

Герб состоит из щита. На лазоревом щите расположен белый северный олень, сопровождаемый вверху справа Полярной Звездой. Над щитом расположена корона с золотым пламенем на среднем зубце. Щит с короной поддерживают два полярных медведя, стоящие на заснеженных льдинах. Под льдинами расположена лазоревая лента, на которой нанесен орнамент, который повторяется на лазоревом флаге автономного округа.

Найди герб по описанию. Обведи его.




Как ты понимаешь слово «лазоревый»? _____

2. Прочитай последнее предложение из описания герба. Догадайся, какого цвета нет на флаге Ямало-Ненецкого автономного округа. Отметь ☒.

☐ голубой ☐ зеленый ☐ белый ☐ красный

Раскрась правильно флаг Ямало-Ненецкого автономного округа.



ЖИВОТНЫЙ МИР ЯМАЛА. Учимся рассуждать.

1. Просмотри мультфильм «Мама для мамонтенка». Предположи, как этот мультфильм мог бы быть связан с изучением Ямала. Закрась свой вариант ответа.

Мамонты жили на Ямале.

Жителям Ямала нравятся мамонты.

На Ямале живут мамонты.

2. Прочитай текст к мультфильму.

Подчеркни предложение, в котором говорится, где родился мамонтенок.

Сформулируем вопрос-предположение.

Случилось это на берегу далёкого и холодного Ледовитого океана.

Однажды сердитые волны разбили большую ледяную скалу. Пригрело солнышко, и лед стал медленно — медленно таять.

Во льду был замёрзший Мамонтёнок.



Каких данных не хватает, чтобы ответить на этот вопрос? Отметь.

- ☐ Я не уверен, жили ли мамонты на Ямале.
- ☐ Я не знаю точного места, где он родился.
- ☐ Я не знаю, кто такие мамонты.

Откуда ты можешь узнать об этом?

Статьи в газетах

Сказки коренных народов
Севера

Интернет

Стихотворения

Музей

Урок

Памятники

3. Прочитай научную статью .

В мае 2007 года на полуострове Ямал в верхнем течении реки Юрибей оленевод Юрий Вэйвович Худи обнаружил замороженный тело мамонтенка , на нём полностью сохранились кожный покров, хобот, все остальные части тела. Мамонтенок, которого назвали Любой по имени жены Юрия Худи, стал настоящим подарком для ученых-мамонтоведов для всего мира. По определению экспертов, мамонтенок является самкой, погибшей в возрасте около одного месяца примерно 42 000 лет тому назад. Размеры его туловища — 90×130 см, вес — 30 кг.

4. Отметь условным знаком на карте Ямало-Ненецкого автономного округа место, где обнаружили мамонтёнка.

5. На карте точкой отмечено место, где обитают слоны. Какая это страна? _____
Попробуй нарисовать путь мамонтенка к своей маме.

