

Муниципальное бюджетное общеобразовательное учреждение
«Средняя общеобразовательная школа №2 г.Льгова»

Урок математики
в 1 «Б» классе

Число и цифра 6

Учитель: Гончарова М.В.




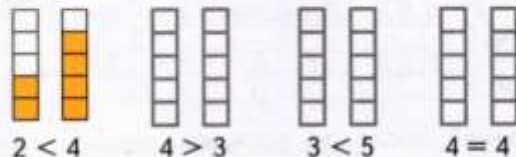
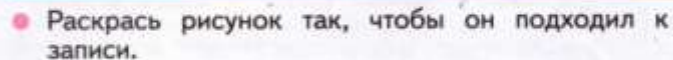
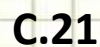
Встало солнышко давно,
Заглянуло к нам в окно,
На урок торопит нас –
Математика сейчас.



Он однажды появился
В деревянной мастерской.
Папа Карло потруился
Над игрушкой смешной.







Какие равенства можно записать к рисункам?

Вправо - плюс

+1



1 2 3 4 5 6 + - =

Какие равенства можно записать к рисункам?

Влево - минус

-1



1	2	3	4	5	6	+	-	=
---	---	---	---	---	---	---	---	---

Как можно получить число 6?



$$1 + 5 = 6$$

$$5 + 1 = 6$$

Как можно получить число 6?



$$1 + 5 = 6$$

$$5 + 1 = 6$$



$$3 + 3 = 6$$

$$3 + 3 = 6$$



Как можно получить число 6?



$$1 + 5 = 6$$

$$5 + 1 = 6$$



$$3 + 3 = 6$$



$$2 + 4 = 6$$

$$4 + 2 = 6$$

Как можно получить число 6?



$$1 + 5 = 6$$

$$5 + 1 = 6$$



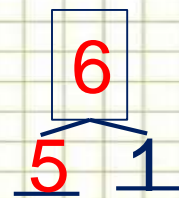
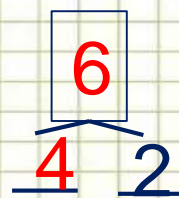
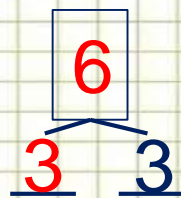
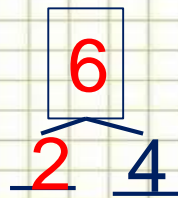
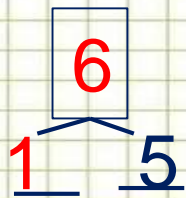
$$3 + 3 = 6$$



$$2 + 4 = 6$$

$$4 + 2 = 6$$

• Расскажи о числе шесть:



Преврати записи Буратино в верные равенства.
Запиши в «окошках» знаки действий (+, -).

$2 \square 4 = 6$

$1 \square 5 = 6$

$6 \square 5 = 1$

$6 \square 3 = 3$

$6 \square 2 = 4$

$3 \square 1 = 4$



Учебник с. 53



4. Какое время показывают каждые часы?

Спасибо!