

МДОУ детский сад общеразвивающего вида
с приоритетным осуществлением физического
развития воспитанников п.Судоверфь
"Солнышко"

ЗАДАЧКИ ДОШКОЛЬНИКАМ

Борисова Татьяна Владимировна



Задача №1

Гуляя по парку, Асель нашла 5 кленовых листьев и 1 дубовый лист. Сколько всего листьев нашла Асель в парке?



Задача №2

У Тани в наборе детской посуды есть 3 маленькие и 2 большие кастрюли. Сколько всего кастрюль в наборе у девочки?



Задача №3

У Володи было всего 4 абрикоса. Он отдал 1 абрикос своей сестре Маше. Сколько абрикосов осталось у Володи?



Задача №4

У Жанары на подоконнике росло 3 кактуса. Утром девочка полила только 2 кактуса. Сколько кактусов не успела полить Жанара утром?



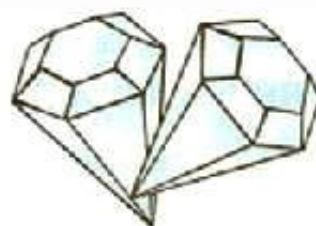
Задача №5

Денис подарил другу 6 марок. 1 марка была с собакой, остальные марки – с кошками. Сколько марок с кошками Денис подарил другу?



Задача №6

Сорока нашла и принесла в гнездо 8 находок. Это были 2 ложечки и несколько стёклышек. Сколько стёклышек нашла сорока?




Задача №7

У Артура в аквариуме плавало 5 рыбок: несколько золотых рыбок и 1 сомик. Сколько золотых рыбок плавало в аквариуме у Артура?



Задача №8

В саду к Майре подлетело 3 бабочки: белые и жёлтые. Жёлтых бабочек было 2. Сколько белых бабочек подлетело к девочке?



Задача №9

Когда Динара помыла 1 кружку, 3 кружки ещё оставались грязными. Сколько всего кружек надо было помыть Динаре?




Задача №10

Руслан купил маме букет роз. По дороге домой мальчик случайно сломал 2 цветка. Осталось 5 роз. Сколько роз Руслан купил маме?



Задача №11

Мама принесла на обед 2 батона. После обеда остался 1 батон. Сколько батонов съели во время обеда?



Задача №12

На ветке поспевало 7 груш. Когда спелые груши упали, на ветке осталось только 2 груши. Сколько груш упало?



Задача №13

Играя в футбол, Данияр забил в ворота 2 гола. А Бауржан смог забить на 1 гол больше Данияра. Сколько голов забил Бауржан?



Задача №14

Списывая с доски задание, Сабит сделал 2 ошибки. А Арман сделал на 2 ошибки больше Сабита. Сколько ошибок сделал Арман?




Задача №15

Мурат надул 3 воздушных шара. А его сестра Сауле смогла надуть на 1 шар меньше Мурата. Сколько шаров надула Сауле?



Задача №16

Слава принёс кроликам 5 морковок. А огурцов он принёс на 2 меньше, чем морковок. Сколько огурцов принёс Слава кроликам?



Задача №17

В вазочке лежат 7 шоколадных конфет и 1 карамелька. На сколько шоколадных конфет в вазочке больше, чем карамелек?



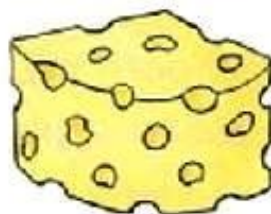
Задача №18

Серёжа нашёл в лесу 6 грибов. А Миша смог найти только 2 гриба. На сколько грибов меньше у Миши, чем у Серёжи?



Задача №19

Хомячок съел 4 куска сыра. Это на 1 кусок меньше, чем колбасы, которую он тоже съел. Сколько кусков колбасы съел хомячок?



Задача №20

Ахмет играл в компьютерные игры 10 минут. Это на 2 минуты больше, чем играл Асхат. Сколько минут играл в компьютерные игры Асхат?



Задача №21

Когда бабушка Тоня вышла во двор и позвала котят, к ней подбежало 4 чёрных котёнка и 3 рыжих. Сколько всего котят подбежало к бабушке Тоне?



Задача №22

После того, как Жанна научилась пришивать пуговицы, она пришила на своё платье 5 красных пуговиц и 4 зелёных. Сколько всего пуговиц пришила девочка на своё платье?



Задача №23

Когда Костя отдыхал на море, он нарисовал 4 рисунка с природой. 3 рисунка он подарил своей маме. Сколько рисунков у мальчика осталось?



Задача №24

Чтобы связать свитер своему внуку Тимуру, бабушка купила 10 клубков шерстяной пряжи. А потратила только 4 клубка. Сколько клубков пряжи не понадобилось?



Задача №25

Тётя Диляра посадила 9 кустов смородины: красной и чёрной. Красной смородины было 3 куста. Сколько кустов чёрной смородины посадила тётя Диляра?



Задача №26

Прогуливаясь по саду, Дамир нарвал для бабушки 8 фруктов: 4 груши и несколько слив. Сколько слив нарвал Дамир для своей бабушки?



Задача №27

Наливая дедушке чай, Анара и Ерлан насыпали в чай 4 ложки сахара. Сколько ложек сахара положила в чай Анара, если Ерлан добавил 3 ложки сахара?




Задача №28

Чтобы нарядить свою любимую куклу к празднику, Алия взяла 6 украшений: несколько колец и 4 брошки. Сколько колец взяла девочка для куклы?



Задача №29

Утром Айдана испекла для гостей пирожные и сама съела 3 из них. Поэтому к приходу гостей осталось только 5 пирожных. Сколько всего пирожных испекла Айдана?



Задача №30

В озере плавала стая уток. Когда в кустах показалась лиса, 4 утки взлетели. Только 2 утки остались плавать в озере. Сколько всего было птиц в стае?



Задача №31

В огороде выросло 8 кочанов капусты. После того, как в огород забрела голодная коза, там осталось только 3 кочана. Сколько кочанов капусты съела коза?



Задача №32

У Стаса было 5 самолётов. После того, как у него в гостях побывали друзья, целых самолётов осталось только 4. Сколько самолётов теперь придётся чинить?



Задача №33

Вчера в школе Андрей получил 3 пятёрки. Сегодня он получил на 3 пятёрки больше. Сколько пятёрок Андрей получил в школе сегодня?



Задача №34

Белка может сгрызть лесной орех за 1 минуту. А с грецким орехом она возится на 4 минуты дольше. Сколько минут потратит белка на то, чтобы съесть грецкий орех?



Задача №35

Во время игры в прятки Улан спрятался под стулом за 7 секунд. А под кровать он смог залезть на 3 секунды быстрее. За сколько секунд Улан залез под кровать?



Задача №36

Обычно щенок добегают до кухни за 6 секунд. А когда на плите варились сосиски, он добежал на 4 секунды быстрее. За сколько секунд добежал до кухни щенок?

