

ЛЕТНИЕ ЗАДАНИЯ

1 КЛАСС

МАТЕМАТИКА

УРОК № 1

1. Запиши каллиграфически:

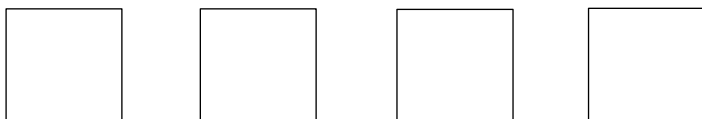
94 94

2. Запиши в виде примеров. Реши.

- сумму чисел 6 и 3;
- разность чисел 18 и 10;
- сумму чисел 8 и 4;
- разность чисел 13 и 7;
- 9 увеличь на 5;
- 12 уменьши на 7;
- первое слагаемое 8, второе слагаемое 5. Найди сумму;
- уменьшаемое 15, вычитаемое 6. Найди разность.

3. Дима нашёл 4 сыроежки и 3 подосиновика. Сколько всего грибов нашёл Дима?

4*. Раскрась квадраты так, чтобы зелёный был между красным и синим, а жёлтый рядом с синим.



УРОК № 2

1. Запиши каллиграфически:

35 35

2. Решить примеры:

$$9 - 4 + 10$$

$$8 - 4 - 4$$

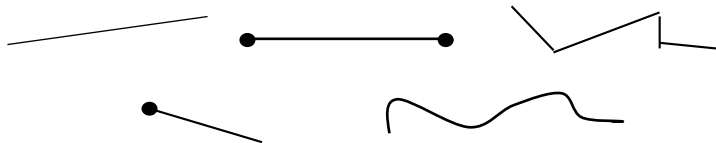
$$16 - 2 - 4$$

$$12 - 2 - 3$$

$$19 + 1 - 10$$

$$14 + 3 - 7$$

3. У Саши было 9 конфет. Мальчик съел 4 конфеты. Сколько конфет у Саши осталось?
- 4*. Рассмотрй рисунок. Найди и укажи:



- а) отрезок; б) луч; в) ломаную;
г) прямую; д) кривую.

УРОК № 3

1. Запиши каллиграфически:
28 28
2. Заполни пропуски:
 $14 - \underline{\quad} = 4$ $\underline{\quad} - 3 = 7$
 $\underline{\quad} + 2 = 9$ $9 - \underline{\quad} = 2$
 $\underline{\quad} - 5 = 8$ $18 - \underline{\quad} = 0$
3. Лена нарисовала 5 ёлочек, а Ира на 3 ёлочки больше. Сколько всего ёлочек девочки нарисовали вместе?
- 4*. Катя и Наташа одинакового роста. Катя выше Оли, а Таня выше Наташи. Кто из девочек выше: Оля или Таня?

УРОК № 4

1. Запиши каллиграфически:
17 17
2. Сравни. Вместо * поставь знаки: $>$, $<$, $=$.
 $17 * 10 + 5$ $9 - 4 * 7 - 3$
 $20 - 10 * 8 + 2$ $9 + 3 * 8 + 5$

3. В вазочке 15 конфет. Из них шоколадных 6 конфет, а остальные – карамельки. Сколько карамелек в вазочке?
- 4*. Термометр показывает 4 градуса тепла. Сколько градусов покажут два таких термометра?

УРОК № 5

1. Запиши каллиграфически:
37 37
2. Решить примеры:
 $11 - 6 - 4$ $6 + 3 - 0$ $13 - 6 + 5$
 $9 + 7 - 10$ $12 - 5 + 3$ $8 + 6 - 5$
3. Белка на дереве повесила 3 сосновых шишки и 4 еловых. Сколько всего шишек повесила белка на дереве?
- 4*. Подумай. Сделай к задаче рисунок.
Мама купила 4 шарика – красного и синего цвета. Синих шариков больше, чем красных. Сколько шариков каждого цвета купила мама?

УРОК № 6

1. Запиши каллиграфически:
84 84
2. В автобусе ехало 16 человек. 4 человека вышли на остановке, а вошло еще 3 человека. Сколько человек стало в автобусе?
3. Реши:
 $10 - 4 + 2$ $7 + 2 - 6$
 $8 - 7 + 0$ $7 - 2 - 5$
 $9 - 5 + 10$ $18 - 8 - 6$

- 4*.** Саша на дорогу от дома до школы тратит 10 минут. Сколько времени он потратит, если пойдёт с сестрой?

УРОК № 7

- 1.** Запиши каллиграфически:
70 70
- 2.** Запиши, из каких двух чисел можно составить число 8. Запиши все возможные варианты.
Образец: $8 = _ + _$
- 3.** Для украшения новогодней ёлки Наташа сделала 6 звёздочек, а снежинок на 4 больше. Сколько снежинок сделала Наташа?
- 4*.** Найди закономерность и вставь пропущенные цифры:
2, 5, 8, 20.

УРОК № 8

- 1.** Запиши каллиграфически:
62 62
- 2.** Сравни:
 $12 - 5 * 9$ $16 * 8 + 6$
 $5 * 13 - 8$ $15 * 7 + 4$
- 3.** В корзинке лежали 15 яблок. Ксюша взяла 6 яблок, а Кира 7 яблок. Сколько яблок осталось в корзинке?
- 4*.** Когда гусь стоит на одной ноге, он весит 3 кг. Сколько он будет весить, если станет на обе ноги?

УРОК № 9

1. Запиши каллиграфически:

27 27

2. Выполни преобразования:

$$1 \text{ дм } 5 \text{ см} = \underline{\hspace{2cm}} \text{ см}$$

$$1 \text{ дм } 9 \text{ см} = \underline{\hspace{2cm}} \text{ см}$$

$$14 \text{ см} = \underline{\hspace{1cm}} \text{ дм } \underline{\hspace{1cm}} \text{ см}$$

$$20 \text{ см} = \underline{\hspace{1cm}} \text{ дм}$$

3. На полке стояло 5 книг со стихами и 3 книги со сказками. Сколько всего книг стояло на полке?

- 4*. Верёвку разрезали на 6 частей. Сколько сделали разрезов?

УРОК № 10

1. Запиши каллиграфически:

16 16

2. На столе стояло 8 чашек. 2 чашки разбил котёнок Мурчик. Сколько чашек осталось?

3. Сравни:

$$8 - 3 \quad * \quad 9 - 5$$

$$16 - 6 \quad * \quad 7 + 3$$

$$12 - 4 \quad * \quad 14 - 7$$

$$8 + 5 \quad * \quad 9 + 5$$

УРОК № 11

1. Запиши каллиграфически:

29 29

2. Заполни пропуски:

$$10 - \underline{\hspace{1cm}} = 6$$

$$\underline{\hspace{1cm}} - 7 = 10$$

$$\underline{\hspace{1cm}} + 8 = 15$$

$$11 - \underline{\hspace{1cm}} = 6$$

- 3.** В аквариуме плавало 9 рыбок. Купили ещё 4 рыбки. Сколько рыбок стало в аквариуме?
- 4*.** Реши примеры и из таблички ниже узнай, какой сказочный герой зашифрован. Вспомни название и автора этого произведения.

$8 + 3 =$		К
$7 + 6 =$		Е
$12 - 4 =$		Л
$11 - 7 =$		А
$7 + 8 =$		Н

$3 + 9 =$		Д
$13 - 8 =$		И
$11 - 2 =$		Р
$16 - 9 =$		О
$11 - 5 =$		Г

11	9	7	11	7	12	5	8

6	13	15	4

УРОК № 12

- 1.** Запиши каллиграфически:

63 63

- 2.** Лена отгадала 9 загадок, а Света на 2 загадки меньше. Сколько всего загадок разгадали девочки?

- 3.** Реши:

$12 - 4$

$9 + 3$

$13 - 6$

$7 + 8$

$11 - 4 + 5$

$9 + 4 - 8$

$17 - 10 + 5$

$13 - 5 - 8$

- *. В классе за партами сидят 20 человек. Двоих учеников учитель вызвал к доске. Сколько учеников стало в классе?

УРОК № 13

1. Запиши каллиграфически:

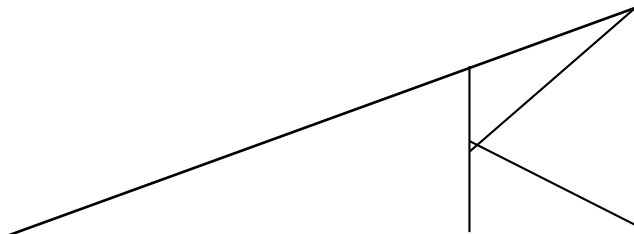
45 45

2. Каждое из данных чисел уменьши на 7:

11	15	7	13	16	10	12

3. На клумбе распустились 6 жёлтых роз, а красных роз на 2 больше. Сколько всего роз распустилось на клумбе?

- 4.* Сколько в данной фигуре треугольников?



УРОК № 14

1. Запиши каллиграфически:

77 77

2. У хозяйки было 15 кур и 10 уток. На сколько уток меньше, чем кур?

3. Реши:

$11 - 4 + 6$

$15 - 8 - 7$

$8 + 5 - 9$

$9 + 3 - 4$

$6 + 7 - 5$

$13 - 6 + 10$

4*. Подумай!

Как с помощью только одной палочки образовать на столе треугольник?

УРОК № 15

1. Запиши каллиграфически:

22 22

2. В холодильнике 8 помидоров и столько же огурцов. Сколько всего овощей в холодильнике?

3. Реши:

$7 + 8$

$11 - 3 + 6$

$14 - 5$

$9 + 5 - 8$

$9 + 6$

$8 + 4 - 7$

$12 - 7$

$13 - 6 + 5$

4. Из каких двух чисел можно составить число 9. Запиши все возможные варианты.

УРОК № 16

1. Запиши каллиграфически:

81 81

2. Поставь между числами нужный знак + или -

$4 * 8 = 12$

$10 * 8 = 18$

$13 * 0 = 13$

$11 * 3 = 8$

3. На ветке берёзы сидели 12 воробьёв. 5 воробьёв улетели, а прилетели 4 синички. Сколько птиц стало на дереве?

4*. Размести числа 2, 2, 2, 3, 3, 3 так, чтобы по всем линиям в сумме получалось 6.

	1	
1		
		1

УРОК № 17

1. Запиши каллиграфически:

92 92

2. У Кати 4 карандаша, а у Олега на 2 карандаша больше. Сколько карандашей у Олега?

3. Измерь длину каждого отрезка. На сколько см первый отрезок короче второго?

4. На праздничном столе было 13 пирожных. После праздника на столе осталось 4 пирожных. Сколько пирожных съели во время праздника?

УРОК № 18

1. Запиши каллиграфически:

75 75

2. Исправь ошибки:

$$11 - 6 = 7$$

$$7 + 5 = 12$$

$$8 + 9 = 16$$

$$12 - 9 = 4$$

$$13 - 8 = 5$$

$$4 + 8 = 11$$

$$9 + 7 = 14$$

$$12 - 4 = 7$$

3. Длина одного отрезка 7 см, а длина другого - на 4 см больше. Найди длину другого отрезка и начерти его.
- 4*. Какое число «лишнее» в ряду (два варианта)? Подчеркни.
15, 17, 11, 7, 13, 14, 19.

УРОК № 19

1. Запиши каллиграфически:
68 68
2. В вазе лежало несколько конфет. Когда Костя съел 4 конфеты, в вазе еще осталось 8 конфет. Сколько конфет было в вазе?
3. Сравни:
- | | | | |
|---------|-----------|----------|------------|
| $7 + 6$ | $* 8 + 4$ | $11 - 3$ | $* 15 - 9$ |
| $8 + 8$ | $* 9 + 7$ | $13 - 4$ | $* 12 - 4$ |
- 4*. Сколько надо сделать разрезов, чтобы ленточку разделить на 4 части?

УРОК № 20

1. Запиши каллиграфически:
> < =
2. Решить «круговые» примеры:
- | | | | |
|----------|---------|---------|---------|
| $10 - 7$ | $7 + 2$ | $4 + 6$ | $9 - 4$ |
| $5 + 3$ | $8 - 4$ | $3 + 4$ | |
3. Измерь данный отрезок. Начерти ещё один отрезок, который на 5 см меньше данного.
- 4*. Сестре 5 лет. Брату 8 лет. Сколько лет будет брату, когда сестре исполнится 7 лет?

